

519
S 17

59(07)

Sadaddinova S.S., Abduraxmanova Yu.M., Raximova F.S.

DISKRET MATEMATIKA

O'quv qo'llanma

Toshkent axborot
texnologiyalari universiteti
Axborot-Resurs markazi

Toshkent - 2014

Toshkent Axborot Texnologiyalari Universiteti
373843
Axborot Resurs Markazi

Mualliflar:

Sadaddinova Sanobar Sabirovna - TATU, "Algoritmash va matematik modellashtirish" kafedrası katta o'qituvchisi, f.-m.-f.n.;

Abduraxmanova Yulduz Muxtorxodjayevna - TATU, "Algoritmash va matematik modellashtirish" kafedrası mudiri, t.f.n.;

Raximova Feruza Saidovna - TATU, "Algoritmash va matematik modellashtirish" kafedrası assistenti.

Taqrizchilar:

Igamberdiyev X.Z. - TDTU, "Boshqaruvda axborot texnologiyalari" kafedrası professora, t.f.d.;

Norxo'jayev O.O. - TATU, "Oliy mat matematika" kafedrası dotsenti, f.-m.-f.n.;

Ushbu qo'llarni texnika oliy o'quv yurtlarining barcha yo'nalishlari bakalavrlari uchun mo'ljallangan.

Soʻz boshi

Diskret matematika fani nimani oʻrganadi?

Diskret tushunchasi “uzluksizlik” tushunchasiga teskari tushuncha hisoblanib, toʻplamlar nazariyasi, diskret avtomatlar nazariyasi, matematik mantiq, graflar va zanjirlar nazariyasi, kombinatorika, halqa va maydonlar nazariyasi, algebraik sistemalar va algoritmlar nazariyasi kabi bir qancha boʻlimlardan iborat boʻladi.

Diskret matematikaning elementar kirish qismini oʻrganmay turib, informatika va dasturlashdan muvaffaqiyatga erishib boʻlmaydi. Bundan koʻrinadiki, diskret matematika fani “Infomatika va hisoblash texnikasi”, “Raqamli qurilmalar va ularning matematik asoslari”, “Elektrotexnika” kabi fanlar bilan chambarsor bogʻliqdir. Ushbu kitobda mazkur fanning fundamental tushunchalari – toʻplamlar, munosabatlar, kombinatorika, mantiq hamda graflar qiziqarli misollar tarzida tushunarli bayon qilingan. Nazariy bilimlar oliy matematikaning boʻlimlaridan xabari boʻlmagan kishilar uchun ham tushunarli tilda yozilgan.

I BOB
TO'PLAMLAR NAZARIYASI
KIRISH

To'plamlar nazariyasi – bu matematika minorasining eng kerakli g'ishtarida bin bo'lib, matematika singari informatikada ham ma'lumotlarni eng qulay tilda ifodalash imkoniyatini beradi. Ushbu bo'limda to'plam, to'planning berilish usullari, to'plamlar ustida amallar, to'plamlarni Eyler-Venn diagrammasi orqali tasvirlash, to'plamlarni akslantirish, munosabatlar va ularning kompozitsiyasi, akslantirishlar va ularning turlari, akslantirishlar superpozitsiyasi, to'plamlar nazariyasining aksiomatik tuzilishi haqida so'z boradi.

Rison ongi olamni alohida "ob'yekt" lardan iborat deb tasavvur qiladi, faylasuflar esa antik davrdan buyon olamni ajralmas bir butunlikdir deb hisoblashgan.

To'plamlar nazariyasiga cheh faylasufi va matematik-mantiqchisi Bernardo Boltsano (1781-1848 yy) va nemis matematiklari Rixard Dedekind (1831-1916 yy) haqida Georg Kantor (1845-1918 yy) lar asos solishdi. Asosan G.Kantorning hizmatlari katta bo'ldi, shuning uchun ham ko'pgina tushunchalar uning nomi bilan bog'liq.

Key inchalik to'plamlar nazariyasi rivojiga ingliz matematigi, mantiqchi va faylasuf Alfred Nort Uayted (1861-1947 yy), golland matematigi, hissiy matematika asoschisi Leytzen Egbert yan Brauer (1881-1966 yy), nemis matematigi, fizik va faylasufi German Veyl (1885-1955 yy), amerikalik matematik, mantiqchi va faylasuf Xaskell Bruks Karri (1900-1998 yy), ingliz matematigi Bertran Rassel (1872-1970 yy) va boshqalar hissa qo'shdilar.

J Adamar (1865-1963 yy) va A. Gurvitslar 1897 yilda I Xalqaro matematiklar kongressida nutq so'zlab, turli matematik jumboqlarni yechishda to'plamlar nazariyasining tadbirlariga doir bir qancha misollarni keltirishdiki, natijada to'plamlar nazariyasi matematikaning alohida bo'lini sifatida rasman tan olindi.

Hozirda o'zbek matematiklari ham to'planlar algebrasi yo'nalishi bo'yicha katta izlanishlar olib borishmoqda. O'zFA akademiklari Sh. A. Ayupov, Sh. A. Alirnov va ularning ko'plab shogirdlari mazkur fanga o'z hissalarini qo'shishmoqda.

To'plam tushunchasiga birinchi bo'lib 1896 yilda G. Kantor ta'rif bergan:

Ta'rif: To'plam bu birgalikda deb idrok etiladigan juda ko'plikdir.

To'plamlar nazariyasiga kato rcha yondoshishni aksiomatik asosda qurilgan nazariyadan farq qilish uchun "nafis to'plamlar nazariyasi" deb atala boshlandi.

Atoqli matematik va uslubchi N. N. Luzin (1883-1950 yy) o'zining to'plamlar nazariyasiga bag'ishlangan ma'uzalarida to'plamni "To'plam – bu turlicha ob'yektlarni solish mumkin bo'lgan qop" deb ta'riflar edi.

Demak, to'plamlar nazariyasi chekli va cheksiz to'plamlarning umumiy xossalari o'rganuvchi matematikaning bo'limidir.

1.1. TO'PLAM. TO'PLAM ELEMENTLARI

1.1.1. To'plamlarning berilishi.

Ta'rif 1. To'plam deb, biror bir umumiy xususiyatga ega bo'lgan ob'yektlar majmuasiga aytiladi.

To'plamni tashkil qiluvchi ob'yektlar uning elementlari deyiladi.

To'plam elementlari katta qavs ichiga olib yoziladi: $\{ \}$. To'plamning bunday belgilanishi 1961 yilda Xalqaro matematiklar kongressida qabul qilingan.

Misol 1. $\{Toshkent, Samarqand, Urganch\}$ – shaharlar to'plami;

$\{stol, stul, parta, divan\}$ – jihozlar to'plami;

$\{5, 6, 7, 8, 9\}$ – sonlar to'plami.

Eslab qoling: To'plam haqida faqat uning elementlari biror xususiyati bilan farqlanadigan bo'lsagina gapirish mumkin. Masalan, stakandagi suv tomchilari to'plami deyish mumkin emas.

Matematikada "to'plam" terminining quyidagi sinonimlari ishlatiladi: tizim, sinf, oila, majmua.

To'plamlarni belgilash uchun lotin alifbosining bosh harflari:

$$A, B, C, \dots, P, Q, S, \dots, X, Y, Z$$

yoki indekslar bilan berilgan bosh harflar qo'llaniladi:

$$A_1, A_2, \dots, P_1, P_2, \dots, X_1, X_2, \dots,$$

to'plamning elementlari esa lotin alifbosining kichik harflari

$$a, b, c, \dots, p, q, s, \dots, x, y, z,$$

yoki indekslar bilan berilgan kichik harflar

$$a_1, a_2, \dots, p_1, p_2, \dots, x_1, x_2, \dots$$

bilan belgilanadi.

To'plam elementining to'plamga tegishligini bildiruvchi \in belgisi - bu grekcha "εστι" so'zining bosh harfi "ε" dan olingan bo'lib, u rus tilida "есть",

ya'ni "bor", "bo'lmoq" xana'larini beradi. Shunday qilib, x element X to'plamga tegishli bo'lsa, $x \in X$ kabi, tegishli bo'lmasa, $x \notin X$ yoki $\overline{x \in A}$ kabi belgilanadi va ular mos ravishda "x element X to'plamga tegishli", "x element X to'plamga tegishli emas" deb o'qiladi.

Misol 2. A to'plam sifatida $(-1;9)$ oraliqni oladigan bo'lsak, bu to'plam $A = \{0;1;2;3;4;5;6;7;8\}$ ko'rinishi da yoziladi. Bundan

$$0 \in (-1;9), \quad \text{ya'ni } 0 \in A$$

$$2 \in (-1;9), \quad \text{ya'ni } 2 \in A$$

$$10 \notin (-1;9), \quad \text{ya'ni } 10 \notin A.$$

Misol 3. 1) juft sonlar to'plami $A = \{x : x = 2n, n \in N\}$,

$$2) \text{ toq sonlar to'plami } B = \{x : x = 2n - 1, n \in N\},$$

$$3) \text{ Barcha raqamlar to'plami } D = \{x : 0 \leq x < 9\}.$$

To'plamda bir xil ma'noni anglatuvchi element faqat bir marta yoziladi.

Ta'rif 2. Birorta ham elementi bo'lmagan to'plam bo'sh to'plam deyiladi va \emptyset kabi belgilanadi. Bitta elementi bo'lgan to'plam singleton deyiladi (inglizcha "single" - "yakka" degan ma'noni beradi).

To'plamlar 3 xil usulda beriladi:

1) To'plamga tegishli elementlarning barchasini keltirish orqali beriladi, bunda elementlar katta qavs ichiga olinib, vergul bilan ajratiladi. ya'ni agar x_1, x_2, \dots, x_n

lar A to'plamning elementlari bo'lsa, u holda $A = \{x_1, x_2, \dots, x_n\}$ kabi yoziladi;

2) To'plam elementlarini qanoatlantiradigan xossalarni keltirish bilan berish mumkin - bu xarakteristik predikat deyiladi: $A = \{x : P(x)\}$;

3) To'plam elementlari formula ko'rinishida berilishi mumkin.

Misol 4. Toq natural sonlar to'plamini 3 xil usulda yozing.

Yechilishi: 1) barcha elementlarini keltirish: $A = \{1, 3, 5, 7, \dots\}$;

2) xarakteristik predikat:

$$A = \{\exists x : x - \text{toq natural sonlar}\}.$$

3) formula shaklida: $A = \{2n - 1 : n \in \mathbb{N}\}$.

Misol 5.

1) barcha elementlarini keltirish: $P = \{1, 2, 3, 4, 5, 6, 7, 8, 9\}$;

2) xarakteristik predikat:

$$P = \{n \mid n := 0; \text{ for } i \text{ from } 1 \text{ to } 9 \text{ do } n := n + 1; \text{ yield } n \text{ end for}\};$$

3) formula shaklida: $P = \{n : n \in \mathbb{N}, n < 10\}$.

To'plam elementlarining xossalari bilan berilganda, to'plamni unga tegishli elementlarning barchasini keltirish orqali berishga qaraganda ko'proq ma'lumot keltiriladi. Masalan, $B = \{\exists x : x^2 - x - 2 = 0\}$, B to'plam elementlari berilgan tenglamaning yechimlaridan iborat to'plam deb o'qiladi, bu to'plam $A = \{-1; 2\}$ ko'rinishda berilganiga qaraganda mukammalroqdir.

Misol 6. Quyidagi to'plamni soddaroq usulda yozing:

$$A = \{x : x - \text{butun son va } x^2 + 5x - 6 = 0\}$$

Yechilishi: Agar $x^2 + 5x - 6 = 0$ bo'lsa, u holda tenglamani yechib, ildizlari topiladi. Natijada $A = \{-6; 1\}$ ko'rinishga kelamiz.

Ta'rif 3. Agar to'plam elementlari soni chekli bo'lsa, u holda to'plam chekli to'plam deyiladi, aks holda esa cheksiz to'plam bo'ladi.

Misol 7. a) Barcha uch xonali sonlar to'plami chekli:

$$\{100, 101, 102, \dots, 998, 999\};$$

b) Tub sonlar to'plami cheksiz bo'ladi.

Cheksiz to'plamlar asosan xarakteristik predikat orqali beriladi, masalan, $N = \{n \mid n := 0; \text{ while true do } n := n + 1 \text{ yield } n \text{ end while}\}$.

Cheksiz to'plamlar ikkiga bo'linadi:

- 1) sanoqli to'plamlar;
- 2) sanoqsiz to'plamlar.

Ba'zi to'plamlar birmuncha ko'p ishlatilganligi bois o'zining nomi va belgilanishiga ega:

natural sonlar to'plami $N = \{1, 2, 3, \dots, n, \dots\}$,

butun sonlar to'plami $Z = \{0, \pm 1, \pm 2, \pm 3, \dots\}$ va

ratsional sonlar to'plamini $Q = \left\{ \frac{m}{n}, m, n \in Z, n \neq 0 \right\}$,

irratsional sonlar to'plamini $I = \{\sqrt[m]{m^p}, p, q, m \in Z\}$,

haqiqiy sonlar to'plamini $R = Q \cup I$ va

kompleks sonlar to'plamini C harflari bilan belgilashga kelishib olingan.

Ta'rif 4. Agar cheksiz to'plam elementlarini natural sonlar qatori bilan raqamlab chiqish mumkin bo'lsa, u holda bu to'plam sanoqli to'plam deyiladi, aks holda sanoqsiz to'plam bo'ladi.

Bo'sh to'plam chekli va sanoqli to'plam hisoblanadi va $\emptyset \neq \{0\}$.

Misol 8. a) butun sonlar to'plamini sanoqli,

b) irratsional sonlar to'plamini sanoqsiz deb qarash mumkin.

d) juft sonlar to'plami ham sanoqli to'plamga misol bo'la oladi.

Ta'rif 5. Chekli va sanoqli to'plamlarga diskret to'plamlar deyiladi.

m dan n gacha bo'lgan butun sonlar to'plami – diskret to'plam bo'lib, uni

$$\{k \in Z \mid m \leq k \text{ va } k \leq n\} = \{k \in Z \mid \text{for } k \text{ from } m \text{ to } n \text{ do yield } k \text{ end for}\}$$

ko'rinishida yozish mumkin.

Shunday to'plamlar borki, ularning barcha elementlari boshqa bir or kattaroq to'plamga tegishli bo'ladi. Masalan, $K = \{0, 2, 4, \dots, 2n, \dots\}$ ning barcha elementlari $Z = \{0, \pm 1, \pm 2, \pm 3, \dots\}$ ning ichida yotibdi.

Ta'rif 6. Agar A to'plamning har bir elementi B to'plamning ham elementi bo'lsa, u holda A to'plam B to'plamning qism to'plami yoki to'plam ostisi deyiladi va $A \subset B$, ba'zan xos qism to'plam deb ham yuritiladi.

\emptyset to'plam va to'plamning o'zi xosmas qism to'plam deyiladi.

\emptyset to'plam ixtiyoriy to'plamning xosmas qism to'plami bo'ladi.

$N \subseteq Z, N \subseteq R, Z \subseteq R$, bunga N, Z, R – mos ravishda natural, butun, haqiqiy sonlar to'plami.

Misol 9. A – barcha daraxtlar to'plami,

B – mevali daraxtlar to'plami bo'lsa, $B \subset A$ bo'ladi.

Teorema. Sanoqli to'planning har qanday qism to'plami chekli yoki sanoqli bo'ladi.

Isboti: A - sanoqli to'plan va $B \subseteq A$ bo'lsin. Agar $B = \emptyset$ bo'lsa, u holda ta'rifga ko'ra u sanoqli bo'ladi. $B \neq \emptyset$ bo'lsin. Sanoqli to'plam ta'rifiga ko'ra A to'planning barcha elementlari raqamlangan, lekin to'planning o'zi a_1, a_2, a_3, \dots cheksiz ketma-ketlik shaklida tasvirlanishi mumkin. Agar $B \subseteq A$ bo'lsa, u holda a_{n_1} - element B to'planning birinchi elementi, a_{n_2} - ikkinchi elementi va hokozo deyish mumkin. Bunda 2 hol bo'ladi: bir qancha qadamdan keyin B to'planning barcha elementlarini ajratib olish mumkin yoki B to'planning elementlari $a_{n_1}, a_{n_2}, a_{n_3}, \dots$ cheksiz ketma-ketlikdan iborat bo'ladi.

Birinchi holda B to'plam chekli, ikkinchi holda esa sanoqli bo'ladi.

Teorema isbotlandi.

Nazorat uchun savollar:

1. To'plamlar nazariyasining asoschilari deb kimlarni bilasiz?
2. To'plam tushunchasiga kim birinchi ta'rif bergan?
3. To'plamlar nazariyasi matematikaning alohida bo'limi sifatida qachon rasman tan olindi?
4. To'plamlar qanday belgilanadi?
5. To'plam elementlari qanday belgilanadi?

6. Bo'sh to'plam deb nimaga aytiladi?
7. Sanoqli to'plam deb nimaga aytiladi?
8. Qism to'plam deb nimaga aytiladi?
9. Xos qism to'plam deb nimaga aytiladi?
10. Xosmas qism to'plam deb nimaga aytiladi?
11. Chekli to'plam deb nimaga aytiladi? Misol keltiring.
12. Cheksiz to'plam deb nimaga aytiladi? Misol keltiring.
13. Diskret to'plam deb nimaga aytiladi?
14. To'plam qanday usullarda beriladi?

Mustaqil yechish uchun masalalar:

1. Quyidagi to'plamlar uchun soddaroq berilish usulini yozing:

- a) $A = \{x: x \text{ -butun son } \vee x^2 + 4x - 12 = 0\}$;
- b) $B = \{x: x \text{ - "r" harfi qatnashmaydigan oy nomlari}\}$;
- c) $C = \{n: n \text{ -butun son}\}$.

2. Quyidagi to'plamlar elementlarini yozing:

- a) $A = \{x: x \in \mathbb{Z}, 16 \leq x \leq 23\}$;
- b) $B = \{x: x \in \mathbb{Z}, x^2 < 18\}$;
- c) $C = \{x: x \in \mathbb{N}, -6 \leq x \leq 3\}$;
- d) $D = \{x: x \in \mathbb{N}, x^2 < 36\}$.

3. Butun sonlar to'plamining qism to'plamlarini yozing:

- a) $A = \{3k: k \in \mathbb{Z}, k \geq 1\}$;
- b) $B = \{2k: k \in \mathbb{Z}\}$;
- c) $C = \{n: n \in \mathbb{Z}, n^2 \leq 81\}$.

4. Quyidagi to'plamlarni formula va xarakteristik predikat shaklida yozing:

a) $A = \{1; 3; 5; \dots; 2n-1; \dots\}$;

b) $B = \{2; 4; 6; \dots; 2n; \dots\}$;

c) $C = \{0; 1; 2; 3; 4; 5\}$.

1.1.2. To'plamlarning tengligi.

Ta'rif 1. Ikkita to'plam teng deyiladi, agar ular bir xil elementlardan iborat bo'lsa (ya'ni to'plamlar bir xil elementlarni saqlasa va elementlarning tartibi inobatga olinmasa) va $A = B$ kabi belgilanadi.

Aksincha, A va B to'plamlar teng emas deyiladi, agarda yo A da B ga tegishli bo'lmagan element mavjud, yoki B to'plam A ga tegishli bo'lmagan elementga ega bo'lsa. Bunda $A \neq B$ kabi belgilanadi.

$A \subset B$ va $A = B$ bajarilsa, $A \subseteq B$ kabi belgilanadi.

Teorema 1. Ixtiyoriy A, B, C to'plamlar uchun quyidagilar o'rinli:

a) $A \subseteq A$;

b) $A \subseteq B$ va $B \subseteq C$ bo'lsa, u holda $A \subseteq C$ o'rinli.

Isbot: a) Haqiqatan ham $x \in A$ bo'lishidan $x \in A \Rightarrow x \in A$ ekanligi kelib chiqadi, ya'ni $x \in A \Rightarrow x \in A$ implikasiya o'rinli.

b) Haqiqatan ham $(x \in A \Rightarrow x \in B) \cap (x \in B \Rightarrow x \in C) \Rightarrow (x \in A \Rightarrow x \in C)$ ni ko'g'riligini ko'rsatish yetarli. Teorema isbotlandi.

Teorema 2. Ixtiyoriy A va B to'plamlar uchun $A = B$ tenglik o'rinli bo'ladi, faqat va faqat $A \subseteq B$ va $B \subseteq A$ bo'lsa.

Demak, to'plamlarning sonli qiymatlarining tengligi ularning bir-biriga tegishli ekanligini bildirmaydi, shuning uchun ham quyidagi shartlarni kiritamiz:

$\forall a \in A$ uchun $\exists b \in B$ topilsaki, $a = b$ bolib, $a \in B$ va $b \in A$ shart bajarilsa, u holda $A = B$ bo'ladi.

Misol 1. Teng va teng bo'lmagan to'plamlar:

a) $\{a, b, c, d\} = \{c, d, a, b\}$.

b) $\{a, b, c, d\} \neq \{a, c, b\}$.

d) $\{x | x^2 - 3x + 2 = 0\} = \{1, 2\}$

Misol 2. $A = \{1^2, 2^2, 3^2\}$ va $B = \{\sqrt{1}, \sqrt{16}, \sqrt{81}\}$ bu to'plamlar teng emas, chunki ularning berilish shakliga ko'ra elementlari mos kelmaydi. Agar ularni matematik amallarni bajarib, bir xil ko'rinishga keltirilsa, ya'ni $A = B = \{1; 4; 9\}$ ko'rinishda teng deb hisoblanadi.

Misol 3. $A = \{n: n^2 \text{ - toq butun son}\}$ va $B = \{n: n \text{ - toq butun son}\}$ to'plamlarning tengligini isbotlang.

Yechilishi: Agar $x \in A$ bo'lsa, u holda x^2 - toq butun son. Toq sonning kvadrati har doim toq son bo'ladi, demak, x ning o'zi ham toq va butun son. Bundan, $x \in B$, ya'ni $A \subset B$ ekanligi kelib chiqadi.

Teskarisini isbotlaymiz: aytaylik, $x \in B$ bo'lsin. U holda x - toq va butun son, demak, x^2 ham toq butun son, ya'ni $x^2 \in A$. Olingan x elementni ixtiyoriy ekanligidan B ning barcha elementlari A ga tegishli, ya'ni $B \subset A$. Xulosa $A = B$.

Teorema 3. Ixtiyoriy A, B, C to'plamlar uchun $A \subset B$ va $B \subset C$ munosabat o'rinli bo'lsa, u holda $A \subset C$ bo'ladi.

Ta'rif 2. Agar to'planning elementlari ham to'plamlardan iborat bo'lsa, bu berilgan to'planga to'plamlar oilasi deyiladi va lotin alifbosining bosh harflarini yozma shaklida belgilanadi.

Misol 4. 1) $A = \{\{0\}, \{3, d, e\}, \{1, 2\}\}$,

2) agar KP580 mikroprotessor qurilmasining 8-razryad buyruq tizimi qaralayotgan bo'lsa, D to'plamlar oilasi quyidagicha yoziladi.

$$D = \{P_i : P_i - \text{buyruq berish guruhi}\},$$

bunda P_1 - jo'natish buyruqlari to'plami,

P_2 - arifmetik amallar buyruqlari to'plami,

P_3 - mantiqiy amallar buyruqlari to'plami va hakoza.

3) $C = \{\{a\}, \{b, c\}, \{e, f, g\}\}$ va $E = \{b, c\}$ bo'lsa, $E \in C$, chunki bu holda E to'plamning o'zi C to'plamlar oilasining elementi bo'ladi.

Ta'rif 3. A to'plamning barcha xos va xosmas qism to'plamlaridan tuzilgan to'plamga **Bul to'plami** deyiladi va 2^A kabi belgilanadi.

Tasdiq 1. Agar to'plam chekli bo'lib, n ta elementdan iborat bo'lsa, u holda bu to'plamning barcha qism to'plamlari soni 2^n tani tashkil etadi.

Misol 5. $A = \{3, 5, 6\}$ to'plamning barcha qism to'plamlarini yozamiz:

$$A_1 = \{3\}, \quad A_2 = \{3, 5\}, \quad A_3 = \{3, 5, 6\},$$

$$A_4 = \{5\}, \quad A_5 = \{3, 6\}, \quad A_6 = \{\emptyset\}.$$

$$A_7 = \{6\}, \quad A_8 = \{5, 6\},$$

$A_1, A_2, A_3, A_4, A_5, A_6$ - to'plamlar A to'plamning xos qism to'plamlari,

A_7, A_8 - to'plamlar A to'plamning xosmas qism to'plamlari.

$2^A = \{\{3\}, \{5\}, \{6\}, \{3, 5\}, \{3, 6\}, \{5, 6\}, \{3, 5, 6\}, \{\emptyset\}\}$ - Bul to'plami hisoblanadi, demak 3 ta elementdan iborat to'plamning $2^3 = 8$ ta qism to'plami mavjud.

Nazorat uchun savollar:

1. Bul to'plamni qanday tuzilgan?
2. Qanday to'plamlar teng deyiladi?

3. Ixtiyoriy A to'plam uchun $A \subseteq A$ o'rinli bo'lishini ko'rsating.
4. Ixtiyoriy A, B, C to'plamlar uchun $A \subseteq B$ va $B \subseteq C$ bo'lsa, u holda $A \subseteq C$ o'rinli bo'lishini ko'rsating.
5. To'plamlar oilasi deganda nimanī tushunasiz?

Mustaqil yechish uchun masalalar:

1. Quyidagi to'plamlarning qism to'plamlarini yozing va \subseteq to'plamini tuzing:
- a) $A = \{1, 3, 4, 5\}$;
- b) $B = \{a, b, c, d\}$;
- c) $C = \{n: n \in \mathbb{N}, 1 \leq n < 4\}$.
- d) $A = \{x: x \in \mathbb{Z}, 16 \leq x \leq 23\}$;
- e) $B = \{x: x \in \mathbb{Z}, x^2 < 18\}$;
- f) $C = \{x: x \in \mathbb{N}, -6 \leq x \leq 3\}$;
- g) $D = \{x: x \in \mathbb{N}, x^2 < 36\}$.

1.1.3. To'plamlarda tartib munosabati tushunchasi.

Amaliyotda to'plam elementlarining biror tartibi bilan bog'liq masalalar ko'p uchraydi.

1) agarda to'plam elementlari $x_1 < x_2 < \dots < x_n$ ketma-ketlikda joylashgan (x_1, x_2, \dots, x_n) harfiy elementlardan iborat bo'lsa, "oldin" va "keyin" tushunchalarini farqlaymiz.

2) agarda to'plam elementlari $1 < 2 < \dots < 7$ ketma-ketlikda joylashgan ($1, 2, \dots, 7$) sonlardan iborat bo'lsa, "kichik" va "katta" tushunchalaridan foydalanamiz.

3) agar to'plam va qism to'plamlar ustida fikr yuritsak, \subseteq va \subset belgilashlardan foydalanamiz.

Bulaming barchasida to'plam elementlarini ma'lum bir tartibda joylashtirish mumkin, ya'ni tartib munosabati tushunchasi kiritiladi.

Ta'rif 1. $X = \{(x, y)\}$ to'plam tartiblangan to'plam deyiladi, agarda to'plam elementlari uchun $x < y$ yoki $x = y$ yoki $x > y$ munosabatlari kiritilgan bo'lsa. (x, y) juftlikka tartiblangan juftlik deyiladi.

Bundan keyin tartiblangan to'plam elementlarini farqlash uchun oddiy qavs bilan belgilaymiz.

Teorema. Agar $(a, b) = (x, y)$ bo'lsa, u holda $a = x$, $b = y$.

Isboti: $(a, b) = (x, y)$ tenglikdan $\{\{a\}; \{a, b\}\} = \{\{x\}; \{x, y\}\}$ kelib chiqadi.

Bu yerda 2 ta holat bo'lishi mumkin:

$$1) \{a\} = \{x\}, \{a, b\} = \{x, y\}$$

yoki

$$2) \{a\} = \{x, y\}, \{a, b\} = \{x\}.$$

Birinchi holda $\{a\} = \{x\}$ tenglikdan $a = x$ ekanligi kelib chiqadi, ikkinchi tenglikdan esa $\{a, b\} = \{x, y\}$ bo'lib, $a = x$ va $b = y$ ekanligi kelib chiqadi.

Ikkinchi holda $\{a\} = \{x, y\}$ tenglikdan $a = x = y$ ekanligi kelib chiqadi, $\{a, b\} = \{x\}$ ekanligidan $x = a = b$ kelib chiqadi. Shunday qilib, $a = x$ va $b = y$ bo'ladi.

Teorema isbotlandi.

Ta'rif 2. Quyidagi 3 ta xossani qanoatlantiruvchi tartib munosabatiga qisman tartiblangan munosabat deyiladi:

$$1) x \leq x \quad (\text{refleksivlik xossasi})$$

$$2) x \leq y \text{ va } y \leq x \Rightarrow x = y \quad (\text{simmetriklik xossasi})$$

$$3) x \leq y \text{ va } y \leq z \Rightarrow x \leq z \quad (\text{tranzitivlik xossasi})$$

Har qanday to'plamni tartiblash mumkin, masalan, biror bir to'plam elementlarini ro'yhat qilib chiqib, ro'yhatdagi har bir elementni raqamlab chiqish yordamida tartiblash mumkin.

ikkita va undan ortiq elementi bo'lgan to'plamni bir nechta usul bilan tartiblab chiqish mumkin. Tartiblangan to'plamlar elementlarining turlicha bo'lishi bilan yoki elementlarning joylashish tartibi turlicha bo'lishi bilan farqlanadi.

Misol 1. 1) Navbat kutib turgan odamlar to'plami;

2) so'zdagi harflar to'plami;

3) analitik geometriyada nuqtalarning koordinatalari.

Agar X tartiblangan to'plamda $a < x < b$ bo'lsa, x element a va b elementlar orasida yotibdi deyiladi. a va b lar orasida yotgan barcha elementlardan iborat to'plamga X tartiblangan to'plamning $(a; b)$ intervali deyiladi.

Agar $(a; b)$ intervalga uning oxirlarini, ya'ni a va b elementlar ham kiritilsa, $[a; b]$ segment hosil bo'ladi.

Ushbu tushunchalarni sonlar o'qida tasvirlaydigan bo'lsak, bizga ma'lum bo'lgan sonlar ustida matematik analizning oraliq (interval) va kesma (segment) tushunchalariga kelimiz.

$(a; b)$ intervalga uning oxirlaridan bittasi kiritilsa, $[a; b) = a \cup (a; b)$ va $(a; b] = (a; b) \cup b$ yarim interval (yarim segment) hosil bo'ladi.

Tartiblangan to'plam bo'sh intervalni ham o'zida saqlaydi.


Misol 2. Tartiblangan to'plamda elementlari natural sonlar bo'lgan $(n; n+1)$ ko'rinishdagi barcha oraliqlar bo'sh intervalga misol bo'la oladi.

Agar $(a; b)$ interval elementlaridan iborat to'plam bo'sh bo'lsa, u holda X tartiblangan to'plamning a va b elementlari qo'shni deyiladi.

Ta'rif 3. $y \in X$ elementni qisman tartib " \leq " munosabatiga nisbatan eng kichik element deyiladi, agarda barcha $x \in X$ lar uchun $y \leq x$ bajarilsa.

Biror bir tartiblangan to'plamda eng kichik element mavjud bo'lsa, u yagonadi.

Ta'rif 4. $y \in X$ elementni qisman tartib " \leq " munosabatiga nisbatan eng katta element deyiladi, agarda barcha $x \in X$ lar uchun $x \leq y$ bajarilsa.



Biror bir tartiblangan to'plamda eng katta element mavjud bo'lsa, u yagonadir.

Ta'rif 5. Agar $\{X; \leq\}$ qisman tartiblangan to'plan bo'lib, $A \subseteq X$ va istalgan $a \in A$ uchun $a \leq x$ bajarilsa, u holda $x \in X$ element A to'planning yuqori chegarasi deyiladi.

Ta'rif 6. Agar $\{X; \leq\}$ qisman tartiblangan to'plam bo'lib, $A \subseteq X$ va istalgan $a \in A$ uchun $x \leq a$ bajarilsa, u holda $x \in X$ element A to'planning quyi chegarasi deyiladi.

To'plam bir nechta yuqori chegaraga ega bo'lishi mumkin.

Ta'rif 7. Agar $x \in A$ yuqori chegara bo'lib, barcha $y \in A$ yuqori chegaralar uchun $x \leq y$ munosabat bajarilsa, $x \in X$ elementga A to'planning eng kichik yuqori chegarasi yoki supremum deyiladi va $\sup A$ kabi belgilanadi.

Ta'rif 8. Agar $x \in A$ quyi chegara bo'lib, barcha $y \in A$ quyi chegaralar uchun $x \geq y$ munosabat bajarilsa, $x \in X$ elementga A to'planning eng katta quyi chegarasi yoki infimum deyiladi va $\inf A$ kabi belgilanadi.

Nazorat uchun savolilar:

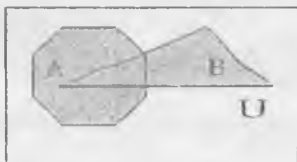
1. Tartiblangan to'plam deb nimaga aytiladi?
2. Tartiblangan juftlik deb nimaga aytiladi?
3. Qisman tartiblangan to'plam deganda nimani tushunasiz?
4. To'planning intervali nima?
5. To'planning supremumi nima?
6. To'planning infimumi nima?

1.1.4. To'plamlar ustida amallar.

To'plamlarni tekislikda shakillar yordamida tasvirlash XIII asrda boshlangan. Birinchi "falsafiy komp'yuter" ixtirochisi R.Lulliy (taxminan 1235-1315 yy) aylalalar yordamida sonlar, harflar va ranglar ustida amallar bajargan.

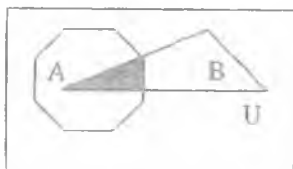
Shvetsariyalik matematik, mexanik va fizik Leonard Eyler (1707-1783 yy) va ingliz matematigi va mantiqchisi Jon Venn (1834-1923 yy) turli tabiatli to'plamlarni o'rganishda diagramma nazariyasiga asos solishgan. Hozirda to'plamlarni chizmalar orqali tasvirlash Eyler-Venn diagrammalari deb yuritiladi.

Ta'rif 1. A va B to'plamlarning birlashmasi deb, bu to'plamlarning hech bo'lmaganda bittasiga tegishli bo'lgan elementlardan iborat to'plamga aytiladi va u $A \cup B$ kabi belgilanadi. Ba'zi hollarda A va B to'plamlarning birlashmasiga yigindi deb ham yuritiladi. U inglizcha "union" – "qo'shma" so'zining birinchi harfidan olingan.



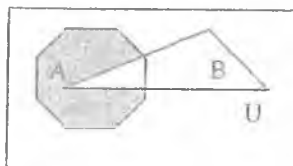
Misol 1. $A = \{1; 3; 5\}$ va $B = \{4; 5; 6\}$ to'plamlar berilgan bo'lsin. U holda $A \cup B = \{1; 3; 4; 5; 6\}$ bo'ladi.

Ta'rif 2. A va B to'plamlarning kesishmasi deb, ham A to'plamga, ham B to'plamga tegishli elementlardan iborat to'plamga aytiladi va $A \cap B$ kabi belgilanadi. Ba'zi hollarda A va B to'plamlarning kesishmasiga ko'paytma deb ham yuritiladi.



Misol 2. $A = \{1; 3; 5\}$ va $B = \{4; 5; 6\}$ to'plamlar berilgan bo'lsin. U holda ularning kesishmasi $A \cap B = \{5\}$ bo'ladi.

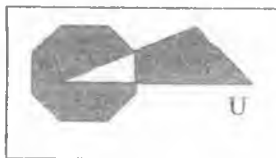
Ta'rif 3. A to'plamdan B to'plamning ayirmasi deb, A to'plamning B to'plamga tegishli bo'lmagan elementlaridan iborat to'plamga aytiladi va $A \setminus B$ ko'rinishida belgilanadi.



Misol 3. $A = \{1; 3; 5\}$ va $B = \{4; 5; 6\}$ to'plamlar berilgan bo'lsin. U holda ularning ayirmasi $A \setminus B = \{1; 3\}$ va $B \setminus A = \{4; 6\}$ ga teng.

Ta'rif 4. A va B to'plamlarning simmetrik ayirmasi deb, A to'plamning B to'plamga, B to'plamning A to'plamga tegishli bo'lmagan elementlaridan iborat to'plamga aytiladi va $A \Delta B$ kabi belgilanadi. Ba'zi hollarda halqali yig'indi deb ham yuritiladi:

$$A \Delta B = A \oplus B = (A \setminus B) \cup (B \setminus A)$$



Misol 4. $A = \{1; 3; 5\}$ va $B = \{4; 5; 6\}$ to'plamlar berilgan bo'lsin. Ularning ayirmalari $A \setminus B = \{1; 3\}$ va $B \setminus A = \{4; 6\}$ ga teng bo'lsa, simmetrik ayirmasi $A \Delta B = A \oplus B = \{1; 3; 4; 6\}$ bo'ladi.

Ta'rif 5. U to'plamning A to'plamga tegishli bo'lmagan elementlaridan tuzilgan \bar{A} to'plamga A to'plamning to'ldiruvchisi (qarama-qarshisi) deyiladi va quyidagicha aniqlanadi:

$$\bar{A} = U \setminus A = \{x : x \in U, x \notin A\}$$



Misol 5. U - haqiqiy sonlar to'plami va A - ratsional sonlar to'plami bo'lsa, u holda \bar{A} irratsional sonlar to'plami bo'ladi.

Ta'rif 6. A va B to'plamlarning dekart ko'paytmasi deb, barcha tartiblangan juftliklar to'plamiga aytiladi va $A \times B = \{(a, b), a \in A, b \in B\}$ kabi belgilanadi.

Misol 6. $A = \{a_1, a_2\}$ va $B = \{b_1, b_2, b_3\}$ to'plamlarning dekart ko'paytmalarini toping.

Yechilishi: $A \times B = \{(a_1, b_1), (a_1, b_2), (a_1, b_3), (a_2, b_1), (a_2, b_2), (a_2, b_3)\}$

$$B \times A = \{(b_1, a_1), (b_1, a_2), (b_2, a_1), (b_2, a_2), (b_3, a_1), (b_3, a_2)\}$$

Ta'rif 7. A_1, A_2, \dots, A_n n ta to'plamning dekart (to'g'ri) ko'paytmasi deb, $A_1 \times A_2 \times \dots \times A_n = \{(a_1, a_2, \dots, a_n) | a_1 \in A_1, a_2 \in A_2, \dots, a_n \in A_n\}$ ko'rinishidagi to'plamga aytiladi.

$A^n = A \times A \times \dots \times A$ to'plamga A to'plamning dekart n -darajasi deyiladi.

$A^2 = A \times A$ ko'rinishidagi to'plamga dekart kvadrat deyiladi.

Teorema 1. A, B, C - ixtiyoriy to'plamlar bo'lsin. U holda quyidagi tengliklar o'rinli:

$$\text{a) } A \times (B \cup C) = (A \times B) \cup (A \times C);$$

$$\text{b) } A \times (B \cap C) = (A \times B) \cap (A \times C);$$

$$\text{v) } A \times (B \setminus C) = (A \times B) \setminus (A \times C).$$

Isboti: a) $(x, y) \in A \times (B \cup C)$ bundan $x \in A$ va $y \in B \cup C$ bo'ladi. Agar $x \in A$ va $y \in B$ yoki $y \in C$ bo'lsa, $(x \in A \text{ va } y \in B)$ yoki $(x \in A \text{ va } y \in C)$ hosil bo'ladi. $(x, y) \in A \times B$ yoki $(x, y) \in A \times C$. Bundan $(x, y) \in (A \times B) \cup (A \times C)$ kelib chiqadi. Demak, $A \times (B \cup C) = (A \times B) \cup (A \times C)$ ekanligi kelib chiqadi.

Xuddi shuningdek, qolgan tengliklar ham isbotlanadi.

Teorema 2. Agar A to'plam m ta, B to'plam esa n ta elementdan tashkil topgan bo'lsa, u holda ularning $A \times B$ dekart ko'paytmasi $m \times n$ ta elementdan iborat bo'ladi.

Misol 7. $B = \{0; 1\}$ to'plam uchun B^n to'plamni yozing.

Yechilishi: B^n uzunligi n ga teng 0 va 1 lardan iborat to'plam bo'ladi.

Ulam dasturlash tilida n uzunlikdagi "bit qatori" deyiladi.

Chekli to'plamlarda amallarni modellashtirish uchun "bit qatori" qanday qo'llaniladi?

Aytaylik, $S = \{s_1, s_2, \dots, s_n\}$ bo'lsin. Agar $A \subset S$ bo'lsa, u holda A to'plamga n -bit qatori $\{b_1, b_2, \dots, b_n\}$ ni mos qo'yamiz, bunda $b_i = 1$ bo'ladi. Aksincha, agar $s_i \in A$ bo'lsa, $b_i = 0$ bo'ladi. Bunday bit qatoriga A qism to'plamning xarakteristik vektori deyiladi.

Misol 8. Universal to'plam $U = \{1; 2; 3; 4; 5\}$ va

$$A = \{1; 3; 5\}, \quad B = \{3; 4\} \quad \text{bo'lsin.}$$

1) A va B to'plamlarning xarakteristik vektorlarini toping.

2) $A \cup B$. $A \cap B$; \bar{A} to'plamlarning xarakteristik vektorlarini toping.

Yechilishi: A to'plamning xarakteristik vektori $a = (1; 0; 1; 0; 1)$,

B to'plamning xarakteristik vektori $b = (0; 0; 1; 1; 0)$ bo'ladi.

$A \cup B$ esa $a \cup b = (1; 0; 1; 0; 1) \cup (0; 0; 1; 1; 0) = (1; 0; 1; 1; 1)$

$A \cap B$ to'plam uchun $a \cap b = (1; 0; 1; 0; 1) \cap (0; 0; 1; 1; 0) = (0; 0; 1; 0; 0)$

\bar{A} ning xarakteristik vektori $\bar{a} = (0; 1; 0; 1; 0)$.

Demak, $A \cup B = \{1; 3; 4; 5\}$, $A \cap B = \{3\}$, $\bar{A} = \{2; 4\}$ qism to'plamlar hosil bo'ladi.

1.1.5. To'plamlar ustida amallar bajarish mumkin bo'lish sharti

Ta'rif 1. Agar qaralayotgan to'plamlarning barchasi biror U to'plamning qism to'plamlaridan iborat bo'lsa, U to'plamga **universal to'plam** yoki **universum** deyiladi.

Masalan, sonlar nazariyasida C kompleks sonlar to'plami universal to'plam bo'ladi. Analitik geometriyada esa tekislik barcha koordinata juftliklar to'plami uchun universum bo'ladi.

A va B to'plamlar bitta U universal to'plamga tegishli bo'lsagina ular ustida amallar bajarish mumkin.

Agar A va B to'plamlar turli xil universal to'plamlarga tegishli bo'lsa-cha, ya'ni $A \subset U_1$ va $B \subset U_2$ bo'lsa, ular ustida amallar bajarish uchun quyidagi 3 ta bosqichni amalga oshirish kerak:

1) A va B to'plamlar bitta universumga keltiriladi, bunda ular uchun universal to'plam $U = U_1 \times U_2$ ularning dekart ko'paytmasidan iborat bo'ladi.

2) A va B to'plamlarning yangi U universumdagi A' va B' ko'rinishi aniqlanadi.

3) Hosil bo'lgan A' va B' to'plamlar ustida amallar bajarish mumkin bo'ladi.

Misol. $A = \{1\}$ va $B = \{a, b\}$ berilgan bo'lsa, hamda $A \subset U_1 = \{1, 2, 3\}$ va $B \subset U_2 = \{a, b, c\}$ ekanligi ma'lum bo'lsa, $A \cap B$ to'plamlar kesishmasini toping.

Yechilishi:

1) U_1 va U_2 universumlarning dekart ko'paytmasi topiladi:

$$U = U_1 \times U_2 = \{(1, a), (1, b), (1, c), (2, a), (2, b), (2, c), (3, a), (3, b), (3, c)\}$$

2) Hosit qilingan U universal to'plamdagi A va B larning yangi ko'rinishi aniqlanadi:

$$A^1 = \{(1, a), (1, b), (1, c)\},$$

$$B^1 = \{(1, a), (2, a), (3, a), (1, b), (2, b), (3, b)\}$$

3) yangi ko'rinishdagi A va B^1 to'plamlarning kesishmasi topiladi:

$$\text{Natija } A^1 \cap B^1 = \{(1, a), (1, b)\} \text{ ko'rinishida bo'ladi.}$$

1.1.6. To'planning bo'laklari.

To'planni qism to'plamlarga ajratish anali — bu to'plamlar ustida amallarning eng ko'p uchraydigan turi hisoblanadi.

Misol 1. 1) Laboratoriya qurilmalari to'plami asstillograf, vol'tmetr, generator va hakoza'larga ajratiladi.

2) Natural sonlar to'plamini toq va juft sonlar to'plamlariga ajratish mumkin.

Aytilik, $S = \{A_1, A_2, \dots, A_n\}$ biror to'plamlar oilasi va qandaydir elementlar to'plami S' berilgan bo'lsin.

Ta'rif. S to'plamlar oilasi S' to'planning bo'lagi deyiladi, agar u quyidagi shartlarni qanoqlantirsa:

1) S to'plamlar oilasidan olingan ixtiyoriy A_i to'plam S' to'planning qism to'plami bo'lsa, ya'ni $\forall A_i: A_i \in S \rightarrow A_i \subset S'$;

2) S to'plamlar oilasidan olingan ixtiyoriy A_i va A_j to'plamlar o'zaro kesishmaydigan to'plamlar bo'lsa, ya'ni $\forall A_i \in S, \forall A_j \in S: A_i \neq A_j \rightarrow A_i \cap A_j = \emptyset$;

3) Bo'laklarning birlashmasi S' to'plamni hosil qilsa, ya'ni $\bigcup_{i \in M} A_i = \bigcup_{i=1}^n A_i = S'$;

A_i - to'plamlar bo'laklar sinflari deyiladi.

Misol 2. $S' = \{a; b; c; d\}$ to'plam uchun $S_1 = \{a; b\}, \{c; d\}$ va $S_2 = \{a; \{b; c\}; d\}$ to'plamlar oilasini hosil qilish mumkin. U holda $S' = S_1 \cup S_2$ bo'ladi, bunda S_1 uchun $A_1 = \{a; b\}$, $A_2 = \{c; d\}$ va S_2 uchun $A_1 = \{a\}$, $A_2 = \{b; c\}$, $A_3 = \{d\}$ bo'laklar bo'ladi.

Nazorat uchun savollar:

1. To'plamlar ustida qanday amallar bajarish mumkin?
2. Dekart ko'paytma qanday topiladi?
3. To'plamlarning birlashmasi deb nimaga aytiladi? Misol keltiring.
4. To'plamlarning kesishmasi deb nimaga aytiladi? Misol keltiring.
5. To'plamlarning ayirmasi deb nimaga aytiladi? Misol keltiring.
6. To'plamlarning simmetrik ayirmasi deb nimaga aytiladi?
7. To'plamning to'ldiruvchisi deb nimaga aytiladi? Misol keltiring.
8. Eylar-Venn diagrammalari deb nimaga aytiladi?
9. Formulaning analitik ko'rinishi deb nimaga aytiladi?
10. A va B to'plamlar tutli xil universumlarga tegishli bo'lsa, ular ustida amallar bajarish mumkinmi?

Mustaqil yechish uchun masalalar:

1. "Filologiya" va "filosofiya" so'zlaridagi harflar to'plamining birlashmasi hamda kesishmasini toping.

2. "Matematika" va "grammatika" so'zlaridagi harflar to'plamining birlashmasi hamda kesishmasini toping.

3. $U = \{1; 2; 3; 4; a; b; c; d; e\}$ universal to'plamda A va B to'plamlar berilgan bo'lsin. $A \cup B$; $A \cap B$; $A \oplus B$; $A \times B$; \overline{A} ; $\overline{A \cap B}$ to'plamlarni toping va Eylar-Venn diagrammalarida tasvirlang.

a) $A = \{1; 2; a; b; c\}$, $B = \{3; 4; b; c; e\}$

b) $A = \{1; 3; 4; a; c\}$, $B = \{3; b; c; e\}$

c) $A = \{1; 2; 3; 4\}$, $B = \{a; b; c; d; e\}$

d) $A = \{1; 4; a; c; d; e\}$ $B = \{1; a; b; c; d\}$

e) $A = \{3; 4; a; b\}$ $B = \{1; 2; 3; 4; a; b; c; d; e\}$.

4. $U = \{p; q; r; s; t; x; y; z\}$ universal to'plamda $A = \{p; q; r; s\}$, $B = \{r; s; t; y\}$ va $C = \{q; s; x; z\}$ to'plamlar berilgan bo'lsin. Quyidagi to'plamlarni toping:

a) $A \cup B$ d) $A \times B$

b) $A \cap B$ e) \overline{A}

c) $A \oplus B$ f) $\overline{A \cap B}$

5. Universal to'plam $U = \{1; 2; 3; 4; 5; 6\}$ va

$A = \{1; 2; 3; 5\}$, $B = \{3; 4; 5\}$ bo'lsin. Quyidagi to'plamlarning xarakteristik

vektorlarini toping: a) $A \cup \overline{B}$ c) $A \cap B$

b) $A \Delta B$ d) $\overline{A \cap B}$

Hosil bo'lgan to'plamlar elementlarini yozing.

1.1.7. Eyer-Venn diagrammalari berilgan bo'lsa, to'plam ko'rinishini tiklash.

Yuqorida kiritilgan birlashma, kesishma, ayirma, simmetrik ayirma, to'ldiruvchi amallari yordamida ayrim to'plamlarni boshqalari orqali ifodalash munkin, buning uchun amallarni bajarish ketma-ketligi kelishib olingan:

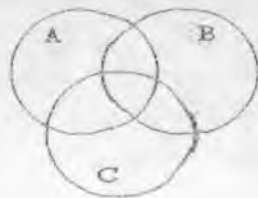
- 1) to'ldiruvchi amali;
- 2) kesishma;
- 3) yig'indi va ayirma amallari bajariladi.

Bu tartibni o'zgartirish uchun qavslardan foydalaniladi.

Shunday qilib, to'plamni boshqa to'plamlar orqali amallar va qavslardan foydalangan holda ifodalash to'plamning analitik ifodasi deyiladi.

Biz 1.1.4-paragrafda to'plamning analitik ifodasi berilgan bo'lsa, uni geometrik tasvirlagan edik, endi esa teskari masala, ya'ni berilgan diagrammaga ko'ra to'plamning analitik ifodasini aniqlaymiz:

Misol 1. Eyer-Venn diagrammasidagi shtrixlangan sohaning analitik ifodasini A , B , C to'plamlar orqali ifodalang. Bunda A , B , C to'plamlar bitta universumga tegishli.

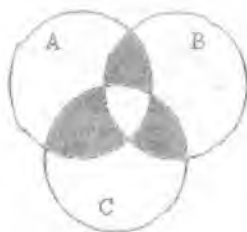


1-usul: $(A \cap B \cap C) \cup (A \setminus (B \cup C)) \cup (B \setminus (A \cup C)) \cup (C \setminus A \setminus B)$

2-usul: $A \Delta B \Delta C = [(A \setminus B) \cup (B \setminus A)] \Delta C = [((A \setminus B) \cup (B \setminus A)) \setminus C] \cup [C \setminus ((A \setminus B) \cup (B \setminus A))]$

Misol 2. Strixlangan sohani A, B, C to'plamlar orqali tasvirlang. Bunda A, B, C to'plamlar bitta universunga tegishli.

Bu masalani yechishning ham bir nechta usullari mavjud.



1-usul: $(A \cap B \setminus C) \cup (A \cap C \setminus B) \cup (B \cap C \setminus A)$

2-usul: $\overline{A \Delta B \Delta C}$

1.1.8. To'plamlar ustida amallarning asosiy xossalari.

U universal to'planning A, B, C qism to'plamlari uchun quyidagi xossalar o'rinli (ba'zi xossalarning isbotini keltiramiz, qolganlari shunga o'xshash isbotlanadi. Isbotni Eyer-Venn diagrammasida bajarish ham mumkin):

Kommutativlik (o'rin almashtirish) xossasi: 1^o) $A \cup B = B \cup A$

2^o) $A \cap B = B \cap A$

1^o-xossaning isboti: $x \in A \cup B$ bo'lsa, u holda $x \in A$ va $x \in B$ bo'ladi. Shuningdek, $x \in B \cup x \in A$ bo'lsa, $x \in B \cup A$ kelib chiqadi. Bundan $x \in A \cup B \Leftrightarrow x \in B \cup A$ hosil bo'ladi. Bularni umumlashtirilsa, $A \cup B = B \cup A$ kommutativlik xossasi isbotlanadi.

Assosiyativlik (guruhlash) xossasi: 3^o) $(A \cup B) \cup C = A \cup (B \cup C)$

4^o) $(A \cap B) \cap C = A \cap (B \cap C)$

Distributivlik (taqsimot qonunlari) xossasi:

$$5^{\circ} \quad (A \cup B) \cap C = (A \cap C) \cup (B \cap C)$$

$$6^{\circ} \quad (A \cap B) \cup C = (A \cup C) \cap (B \cup C)$$

Yutilish qonunlari: $7^{\circ} \quad A \cap (A \cup B) = A$

$$8^{\circ} \quad A \cup (A \cap B) = A$$

De Morgan qonunlari (Ogastes de-Morgan (1806-1871yy) Shotlandiya lik matematik va mantiqchi, mantiqiy munosabatlar asoschisi):

$$9^{\circ} \quad \overline{A \cap B} = \overline{A} \cup \overline{B}$$

$$10^{\circ} \quad \overline{A \cup B} = \overline{A} \cap \overline{B}$$

9° - xossaning isboti: $\overline{A \cap B} = \{x : x \notin (A \cap B)\} = \{x : \overline{(A \cap B)}\} = \{x : \overline{((x \in A) \cap (x \in B))}\}$

$$\overline{A \cup B} = \{x : (x \notin A) \cup (x \notin B)\} = \{x : \overline{(x \in A \cup x \in B)}\} = \{x : \overline{((x \in A) \cup (x \in B))}\}$$

0 va 1 (bo'sh va universal to'plam) qonunlari:

$$11^{\circ} \quad A \cap A = A \qquad 12^{\circ} \quad A \cup U = U$$

$$13^{\circ} \quad A \cup \overline{A} = U \qquad 14^{\circ} \quad A \cap \emptyset = \emptyset$$

$$15^{\circ} \quad A \cap \overline{A} = \emptyset \qquad 16^{\circ} \quad \overline{U} = \emptyset$$

$$17^{\circ} \quad A \cup \emptyset = A \qquad 18^{\circ} \quad \overline{\emptyset} = U$$

$$19^{\circ} \quad A \cap U = A \qquad 20^{\circ} \quad A \cup \overline{A} = U$$

Ayirishdan qutilish qonuni: $21^{\circ} \quad A \setminus B = A \cap \overline{B}$

Ikkilangan rad etish qonuni: $22^{\circ} \quad \overline{\overline{A}} = A$

To'plamlar ustida amallarning xossalariiga e'tibor berib qaraydigan bo'lsak, ular juft - juft yozilgan va har ikkinchisi birinchi xossada amalni o'zgartirish bilan hosil qilingan deyish mumkin, masalan, U amali \cap ga, \emptyset to'plam U ga almashtirib hosil qilingan. Xossalarning bunday mosligi ikkiyoqlamalik qonunlari deyiladi.

1.1.9. Murakkab ifodalarni soddalashtirish.

To'plamlar ustida amallarning asosiy xossalariга asoslanib, to'plamlarning murakkab ifodalarni isbotlash yoki soddalashtirish mumkin.

Misol 1. $A \Delta B = (A \cup B) \cap \overline{A \cap B}$ (1) ifodani isbotlang.

Yechilishi: $A \Delta B = (A \setminus B) \cup (B \setminus A)$

yoki Eylar-Venn diagrammasidan

$$A \Delta B = (A \cap \overline{B}) \cup (B \cap \overline{A}) \quad (2)$$

tenglikni hosil qilish mumkin.

$$\begin{aligned} (A \cup B) \cap \overline{A \cap B} &= (9^0\text{-xossalarni foydalanamiz}) = (A \cup B) \cap (\overline{A \cap B}) = (2^0\text{-xossa}) \\ &= (\overline{A \cap B}) \cap (A \cup B) = (5^0\text{-xossa}) = (\overline{A} \cap (A \cup B)) \cup (\overline{B} \cap (A \cup B)) = (5^0\text{-xossa}) \\ &= ((\overline{A} \cap A) \cup (\overline{A} \cap B)) \cup ((\overline{B} \cap A) \cup (\overline{B} \cap B)) = (15^0\text{-xossa}) = (\emptyset \cup (B \cap \overline{A})) \cup ((A \cap \overline{B}) \cup \emptyset) = \\ &= (A \cap \overline{B}) \cup (B \cap \overline{A}). \end{aligned}$$

Bundan talab qilingan tenglikni hosil qilamiz $A \Delta B = (A \cup B) \cap \overline{A \cap B}$.

Misol 2. $\overline{A \cup (A \setminus B) \cup (A \setminus B)}$ ifodani soddalashtiring.

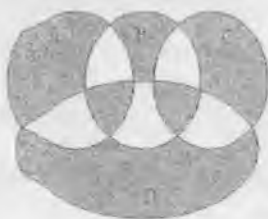
$$\begin{aligned} \text{Yechilishi: } \overline{A \cup (A \setminus B) \cup (A \setminus B)} &= (21^0\text{-xossa}) = \overline{A \cup (A \cap \overline{B}) \cup (A \cap \overline{B})} = \\ (22^0\text{-xossa}) &= \overline{A \cup (A \cap B) \cup (A \cap B)} = (10^0\text{-xossa}) = \overline{A \cap A \cap B \cap A \cap B} = (9^0\text{-xossa}) = \\ [\overline{A \cap (A \cup B)}] \cap (\overline{A \cup B}) &= (7^0\text{-xossa}) = \overline{A} \cap (A \cup \overline{B}) = (6^0\text{-xossa}). \\ &= (\overline{A} \cap A) \cup (\overline{A} \cap \overline{B}) = \overline{A} \cap \overline{B}. \end{aligned}$$

Nazorat uchun savollar:

1. Kommutativlik xossasini keltiring va isbotlang.
2. Distributivlik xossasini keltiring va isbotlang.
3. Assosiativlik xossasini keltiring va isbotlang.
4. Yutilish xossasini keltiring va isbotlang.
5. De-Morgan xossasini keltiring va Eyer-Venn diagrammasidan foydalanib isbotlang.
6. O'val qonunlarini keltiring.
7. Ayirishda qutilish qonunini keltiring va isbotlang.
8. Ikkilang an'aniq qonunini keltiring va isbotlang.

Mustaqil yechish uchun masalalar:

1. Eyer-Venn diagrammasidagi shtrixlangan sohning analitik ifodasini A , B , C , D to'plamlar orqali ifodalang. Bunda A , B , C , D to'plamlar bitta universumga tegishli.



2. Murakkab ifodalarni soddalashtiring:

a) $(A \cup B \cap \bar{A}) \cap (\bar{A} \cup A \cap B)$

e) $\bar{A} \cap \bar{B} \cap \bar{C} \cup \bar{A} \cap B \cap \bar{C} \cup A \cap \bar{B} \cap \bar{C} \cup A \cap B \cap \bar{C}$

b) $\overline{X \cup Y} \cap \overline{X \cup Y} \cup \overline{X \cap Y}$

j) $(A \cup B \cup C) \cap (A \cup B \cup \bar{C})$

v) $\overline{A \cap B} \cup \overline{A \cap B} \cap \overline{A \cup B}$

i) $(A \cup B \cup C) \cap (\bar{A} \cup B \cup C)$

g) $(A \setminus B \cup A \cap B) \cap \bar{A}$

k) $(A \cup B \cup C) \cap (A \cup \bar{B} \cup C)$

d) $(B \setminus A) \cap (\bar{A} \cup B \setminus A)$

l) $\bar{A} \cap \bar{B} \cap \bar{C} \cup \bar{A} \cap \bar{B} \cap C \cup A \cap \bar{B} \cap \bar{C} \cup A \cap B \cap \bar{C}$

1.1.1.0. Chekli to'plam quvvati.

Chekli to'planning asosiy xarakteristikasi bu uning elementlar sonidir. A chekli to'plamdagi elementlar sonini $n(A)$ yoki $|A|$ kabi belgilanadi va A to'planning tartibi yoki quvvati deb ham yuritiladi.

Misol 1. $A = \{a, b, c, d\}$ to'planning quvvati $n(A) = 4$;

$B = \{\emptyset\}$ bo'sh to'planning quvvati $n(B) = 0$.

Teorema. Ikkita to'plam birlashmasidan iborat to'planning quvvati $|A \cup B| = |A| + |B| - |A \cap B|$ ga teng.

Isboti: Haqiqatan ham, $A \cup B$ to'plam umumiy elementga ega bo'lgan $A \setminus B, A \cap B, B \setminus A$ qism to'plamlardan tashkil topgan, buni Eyley - Venn diagrammasida ko'rish mumkin.

Bundan tashqari, $A = (A \setminus B) \cup (A \cap B)$ va $B = (B \setminus A) \cup (A \cap B)$.

Quyidagi belgilashlarni kiritamiz: $|A \setminus B| = m$, $|A \cap B| = n$, $|B \setminus A| = p$. U holda $|A| = m + n$, $|B| = n + p$ va bulardan

$$|A \cup B| = m + n + p = (m + n) + (n + p) - n = |A| + |B| - |A \cap B|.$$

Teorema isbotlandi.

Natija 1. Uchta $A, B, C \in U$ to'plamlar birlashmasidan iborat to'plam quvvatini topish formulasi:

$$n(A \cup B \cup C) = n(A) + n(B) + n(C) - n(A \cap B) - n(A \cap C) - n(B \cap C) + n(A \cap B \cap C)$$

Natija 2. Ixtiyoriy n ta $\{A_1, A_2, \dots, A_n\} \in U$ to'plamlar uchun ularning birlashmasidan iborat to'plam quvvatini topish formulasi quyidagicha bo'ladi:

$$n(A_1 \cup A_2 \cup \dots \cup A_n) = \sum_{i=1}^n n(A_i) - \sum_{i < j} n(A_i \cap A_j) + \sum_{i < j < k} n(A_i \cap A_j \cap A_k) - \dots + (-1)^{n+1} n(A_1 \cap A_2 \cap \dots \cap A_n)$$

Misol 2. Diskret matematika fanini o'rganuvchi 63 nafar talabadan 16 kishi ingliz tilini, 37 kishi rus tilini va 5 kishi ikkala tilni ham o'rganmoqda. Nechta talaba nomlari keltirilgan fanlardan qo'shimcha darslarga qatnashmayapti?

Yechilishi: $A = \{\text{ingliz tili fanini o'rganuvchilar}\},$

$B = \{\text{rus tilini o'rganuvchilar}\},$

$A \cap B = \{\text{ikkala tilni ham o'rganuvchilar}\}$ bo'lsin. U holda

$|A| = 16, |B| = 37, |A \cap B| = 5.$ Yuqoridagi teoremmaga asosan,

$$|A \cup B| = |A| + |B| - |A \cap B| = 16 + 37 - 5 = 48.$$

Bundan, $63 - 48 = 15$ nafar talaba nomlari keltirilgan qo'shimcha darslarga qatnashmayotganligi aniqlanadi.

Nazorat uchun savollar:

1. Chekli to'plam tartibi yoki quvvatiga ta'rif bering.
2. Ikki to'plam yig'indisi uchun elementlar sonini topish formulasini keltiring.
3. Uchta va n ta to'plamlar yig'indisidagi elementlar sonini topish formulalarini keltiring.

Mustaqil yechish uchun masalalar:

1. Shahardagi 110 ta qandalotchilik sexlaridan 40 tasi A mahsulotni, 30 tasi B mahsulotni, 48 tasi C mahsulotni, 10 tasi A va B, 13 tasi B va C, 12 tasi A va C, 14 tasi faqat 2 xil mahsulot ishlab chiqarsa, ushbu mahsulotlarni ishlab chiqarmayotgan sexlar nechta?
2. 30 ta turistdan 19 tasi ingliz, 18 tasi nemis tilini biladi. Ulardan nechta faqat ingliz tilini biladi?

3. 42 turistdan 25 tasi ingliz, 28 tasi nemis tilini biladi. Ulardan nechtasi faqat nemis tilini, nechtasi faqat ingliz tilini, nechtasi ikkala tilni ham biladi?
4. Guruhda 40 talaba bolib, ulardan 25 tasi yigitlar, qolgan i qizlar. Imtixonida ulardan 18 tasi "4", 22 tasi "5" baho olgan. Agar qizlardan 9 tasi "5" olgan bolsa, "4" olgan yigitlar nechta?
5. Guruhdagi talabalardan 17 tasi voleybol, 16 tasi futbol, 18 tasi tennis boyicha to'garaklarga qatnashadi. Ulardan 5 tasi futbol va voleybol, 7 tasi voleybol, tennis, 6 tasi futbol va tennis, 2 tasi esa 3 ta to'garakka ham qatnaydi. Guruhda nechta talaba bor?
6. Tumanda 32 ta fermer bolib, ular paxta, bugdoy va kartoshka yetishtirishadi. Ulardan 26 tasi paxta, bugdoy yetishtirishi ma'lum bolsa, faqat kartoshka yetishtiradigan fermer nechta?
7. Potokda 100 talabadan 61 tasi ingliz tilini, 48 tasi fransuz tilini, 56 kishi kishi nemis tilini o'rganishadi. 24 kishi ingliz va fransuz, 36 kishi ingliz va nemis, 30 kishi fransuz va nemis tilini o'rganishadi. Faqat 2 tadan til o'rganadiganlar 24 kishi bo'lsa, umuman til o'rganmayatganlar nechta? Faqat bittadan til o'rganayotganlar nechta? Uchchala tilni ham nechta kishi o'rganayapti?
8. Oktyabr oyida 10 kun sovuq, 20 kun yomg'irli, 16 kun shamolli kun bo'ldi. Agar 2 kun faqat sovuq, 7 kun faqat yomg'ir, 5 kun faqat shamol, 4 kun sovuq, yomg'ir, shamolli kun bo'lgan bo'lsa, nechta kun quyosh charaqlab turgan?

1.1.1.1. To'plamlar algebrai.

Ta'rif 1. Agar to'plamning $\forall x, y \in M, \forall x, y \in M$ elementlari uchun $(x, ax, y) \in M$ sharti bajarilsa, to'plam α amalga nisbatan yopiq deyiladi va unga algebraik amal deyiladi.

Misol. 1) \mathbb{N} - natural sonlar to'plamini yig'indi va ko'paytma amallariga nisbatan yopiq, chunki $\forall a \in \mathbb{N}, \forall b \in \mathbb{N}$ uchun $a + b \in \mathbb{N}, a \cdot b \in \mathbb{N}$ o'rinli.

2) \mathbb{Z} - butun sonlar to'plamini yig'indi, ayirma va ko'paytma amallariga nisbatan yopiqdir.

Ta'rif 2. Bo'sh bo'lmagan qism to'plamlar oilasi U birlashma, kesishma va to'ldiruvchi amallarga nisbatan yopiq bo'lsa, bu tizimga to'plamlar algebrai deyiladi.

Teorema. A va B ixtiyoriy to'plamlar bo'lsin. U holda birlashma va ayirma amallarini simmetrik ayirma va kesishma amallari yordamida ifodalash mumkin:

$$A \cup B = (A \Delta B) \Delta (A \cap B),$$

$$A \setminus B = A \Delta (A \cap B).$$

Bunday yondoshish matematikaning turli sohalarida o'z tadbiqini topdi. Bunday yondoshishning rivojlanishiga asos bo'lib, to'plamlar halqasi tushunchasi xizmat qildi.

Ta'rif 3. Agar bo'sh bo'lmagan C to'plamlar oilasi kesishma va simmetrik ayirma amallariga nisbatan yopiq bo'lsa, u holda C ga to'plamlar halqasi deyiladi, ya'ni $A, B \in C \Rightarrow A \Delta B \in C$ va $A \cap B \in C$ o'rinli bo'lsa.

To'plamlar halqasi assosiativlik va kommutativlik xossalari bo'y sunadi. Bo'sh to'plam halqaning noli deyiladi.

Ta'rif 4. Agar ixtiyoriy $A \in C$ uchun $A \cap E = A$ bo'lsa, u holda $E \in C$ to'plam halqaning biri deyiladi.

Halqalarda algebraik hisoblashlar oddiy arifmetik qoidalarga o'xshash amalga oshiriladi. Bunda "yig'indi" amali o'rniga "simmetrik ayirma" amali, "ko'paytma" amali o'rniga "kesishma" amali ishlatiladi.

Nazorat uchun savollar:

1. To'plamlar algebrasi nima?
2. Qachon to'plam biror amalga nisbatan yopiq bo'ladi?
3. To'plamlar halqasi deb nimaga aytiladi?
4. Halqaning biri va noli deb nimaga aytiladi?
5. Natural sonlar to'plamining yig'indi amaliga nisbatan yopiqligini isbotlang.
6. Natural sonlar to'plamining ko'paytma amaliga nisbatan yopiqligini isbotlang.
7. Butun sonlar to'plamining ayirma amaliga nisbatan yopiqligini isbotlang.
8. Ratsional sonlar to'plamining bo'linma amaliga nisbatan yopiqligini isbotlang.

KIRISH

Turmushda ikki inson, aytaylik Bamo va Nargizaning qarindoshligi haqida gapirganda shuni nazarda tutiladiki, shunday ikkita oila mavjud, Bamo va Nargizaning shu oilalarga qandaydir aloqasi bor. Tartiblangan (Bamo, Nargiza) juftligi boshqa tartiblangan kishilar juftligidan shurasi bilan farq qiladiki, ularning orasida opa-singillik yoki ona-qizlik, jiyalik kabi munosabatlar bo'lishi mumkin.

Diskret matematikada ham dekart ko'paytmaning barcha tartiblangan juftliklari orasidan o'zaro qandaydir "qarindoshlik" munosabatlariga ega bo'lgan juftliklarni ajratib ko'rsatish mumkin. Ixtiyoriy ikki to'plamning elementlari orasidagi munosabatlar uchun binar munosabat tushunchasini kiritamiz. Bu tushuncha matematika kabi informatikada ham ko'p uchraydi. Bir nechta to'plam elementlari orasidagi munosabat ma'lumotlar jadvali shaklida beriladi. Ushbu bob tadbirini ma'lumotlar bazasini boshqarish tizimini tasvirlashda ishlatiladigan n -ar munosabatlarda ko'rish mumkin.

1.2.1. Munosabatlar va ularning turlari.

Moslik (binar munosabat).

Ta'rif 1. Ixtiyoriy A va B to'plamlarning dekart yoki to'g'ri ko'paytmasi deb, birinchi elementi A to'plamga, ikkinchi elementi B to'plamga tegishli bo'lgan (x, y) tartiblashgan juftliklardan iborat to'plamga aytiladi va quyidagicha belgilanadi: $A \times B = \{(x, y), x \in A, y \in B\}$.

Bunda x va y lar (x, y) juftlikning koordinatalari yoki komponentlari deyiladi, demak mos ravishda x juftlikning birinchi koordinatasi, y esa juftlikning ikkinchi koordinatasi deyiladi.

Misol 1. Dekart ko'paytmaga misol qilib to'g'ri burchakli dekart koordinata sistemasida nuqtalar to'plamini olish mumkin, ya'ni tekislikda har bir nuqta ikkita koordinataga ega: absissa va ordinata.

Misol 2. $A = \{a_1, a_2\}$ va $B = \{b_1, b_2, b_3\}$ to'plamlar berilgan bo'lsin. U holda

$$A \times B = \{a_1, a_2\} \times \{b_1, b_2, b_3\} = \{(a_1, b_1), (a_1, b_2), (a_1, b_3), (a_2, b_1), (a_2, b_2), (a_2, b_3)\}$$

Ta'rif 2. $R = A \times B$ dekart ko'paytmaga to'g'ri dekart ko'paytma, $R^{-1} = B \times A$ ifodada teskari dekart ko'paytma deyiladi.

Dekart ko'paytmaning xossalari:

1^o. Dekart ko'paytma kommutativ emas:

$$A \times B \neq B \times A$$

2^o. Dekart ko'paytma assotsiativ emas:

$$((A \times B) \times C) \neq (A \times (B \times C)).$$

Ta'rif 3. $P \subseteq A_1 \times A_2 \times \dots \times A_n$ dekart ko'paytmaning ixtiyoriy bo'sh bo'lmagan P qism to'plamiga A_1, A_2, \dots, A_n to'plamlar orasida aniqlangan n o'rinli munosabat yoki n o'rinli P - predikat deyiladi.

Agar $(a_1, a_2, \dots, a_n) \in P$ bo'lsa, P munosabat (a_1, a_2, \dots, a_n) elementlar uchun rost munosabat deyiladi va $P(a_1, a_2, \dots, a_n) = 1$ bo'ladi, agar $(a_1, a_2, \dots, a_n) \notin P$ bo'lsa, P munosabat yolg'on munosabat deyiladi va $P(a_1, a_2, \dots, a_n) = 0$ yoki $\bar{P}(a_1, a_2, \dots, a_n)$ kabi yoziladi.

Ta'rif 4. Agar $P \subseteq A_1 \times A_2 \times \dots \times A_n$ n o'rinli munosabatda $n=1$ bo'lsa, P munosabat A_1 to'plamning qism to'plami bo'ladi va unar munosabat (bir o'rinli munosabat) yoki xossa deyiladi.

$n=2$ bo'lganda esa binar munosabat (ikki o'rinli munosabat) yoki moslik deyiladi.

Agar $P \subseteq A^2$ bo'lsa, P ga A to'plamning elementlari orasidagi munosabat deyiladi.

Misol 3. Unar munosabatlarga misollar keltiramiz:

1) $A_1 = Z$ butun sonlar to'plamidan iborat bo'lsin. $P(x) \subseteq Z$ unar munosabat $P(x)=1$ shart bilan aniqlansin, bunda x - juft son, u holda P munosabat quyidagi ko'rinishda bo'ladi: $P = \{ \dots, -4, -2, 0, 2, 4, \dots \}$.

2) $A_1 = R$ haqiqiy sonlar to'plamidan iborat, $P \subseteq R$ munosabat $P(x)=1$ shart bilan aniqlansin, bunda x - irratsional son bo'lsin, u holda P munosabat quyidagi ko'rinishlarda bo'ladi:

$$P(\sqrt{2}) = P(e) = P(\pi) = 1,$$

$$P(0) = P(1) = P\left(-\frac{1}{3}\right) = 0.$$

3) A_1 — barcha odamlar to'plami, $P(x) \subseteq A_1$ munosabatda x — erkak kishi bo'lsin. Javob: $P(x)=1$ bo'ladi.

4) A_1 — tekislikdagi barcha uchburchaklar to'plami bo'lsa, x — teng yomli uchburchaklar bo'lsin. Javob: $P(x)=1$ bo'ladi.

Misol 4. Binar munosabatlarga misollar keltiramiz:

1) $P_1 \subseteq Z \times Z$ binar munosabat $P(x,y)=1$ shart bilan aniqlansin, bunda $x-y$ 3 ga bo'linadigan sonlar, u holda P munosabat quyidagi ko'rinishda bo'ladi:

$$P = \{(4;1); (5;2); (6;3); \dots\}.$$

2) $P_2 \subseteq Z \times Z$ munosabat $P(x,y)=1$ shart bilan aniqlansin, bunda $x+y$ 2 ga bo'linadigan sonlar bo'lsin, u holda P munosabat quyidagi ko'rinishlarda bo'ladi:

$$P = \{(1;1); (0;2); (5;3); \dots\}.$$

3) $P_3 \subseteq R \times R$ munosabat, $P_3(x,y)=1$ shart bilan aniqlansin, bunda $x-y$ ratsional son. U holda quyidagilar o'rinni:

$$P_3(1;4) = P_3(\sqrt{2}+2; \sqrt{2}) = P_3(e; e-1) = 1,$$

$$P_3(1; \sqrt{2}) = P_3(1; e) = P_3(i; \pi) = 0.$$

$$P_3(\sqrt{2}; \pi) = P_3(e; \pi) = 0$$

4) A — to'plam elementlari kitob nashriyotlari nomlari bo'lsin.

B — to'plam elementlari ushbu kitoblarni sotadigan firmalar bo'lsin, u holda P — munosabatga nashriyot va firmalar o'rtasida tuzilgan shartnomalar to'plami deb, ma'no berish mumkin.

Ta'rif 5. Dekart ko'paytmaning ixtiyoriy bo'sh bo'lmagan qismi to'plamiga munosabat deyiladi.

P — munosabat bo'lsin, u holda $P \subseteq A \times B$ bo'ladi. $\langle x, y \rangle \in R$ yozuv o'rniga ko'pincha $x P y$ yozishadi va "x element y ga nisbatan P munosabatda" deb o'qiladi.

Misol 5. $A = \{1, 2, 3\}$ va $B = \{1, 2\}$ bo'lsin, u holda

$$A \times B = \{<1, 1>, <1, 2>, <2, 1>, <2, 2>, <3, 1>, <3, 2>\}$$

Munosabat 1) $R_1 = \{<1, 1>, <3, 2>\}$

2) $R_2 = \{<1, 1>, <1, 2>, <2, 2>\}$ ko'rinishda bo'lishi mumkin.

Ta'rif 6. $P \subseteq A \times B$ binar munosabat uchun $P^{-1} \subseteq B \times A$ teskari munosabat deyiladi, agar ixtiyoriy $x \in A$ va $y \in B$ elementlar uchun $P(x, y) = 1$ dan $P^{-1}(y, x) = 1$ kelib chiqsa.

Ta'rif 7. $x = y$ bo'lganda $I_A(x, y) = 1$ shart bajarilsa, $I_A \subseteq A \times A$ binar munosabatga diagonal munosabat yoki ayniy munosabat deyiladi. Ayniy munosabat uchun $I_A^{-1} = I_A$ tenglik o'rinli.

Binar munosabat, ya'ni moslik haqida alohida to'xtalib o'tamiz, chunki munosabatlar orasida eng ko'p uchraydigan bu moslikdir.

X va Y to'plamlar berilgan bo'lsin.

X va Y to'plamlar elementlarini qandaydir usul bilan mos qo'yib, tartiblangan juftliklarni hosil qilaylik. Agar har bir $x \in X$ element uchun $y \in Y$ element mos qo'yilgan bo'lsa, u holda X va Y to'plamlar o'rtasida moslik o'rnatildi deyiladi.

Moslikni berish uchun quyidagilarni ko'rsatish zarur:

- 1) elementlari boshqa biror to'plam elementlari bilan mos qo'yiladigan X to'plam;
- 2) elementlari X to'plam elementlari bilan mos qo'yiladigan Y to'plam;
- 3) moslikni aniqlovchi qoida, ya'ni $R \subseteq X \times Y$ to'plam, uning elementlari moslikda qatnashuvchi barcha (x, y) juftliklardan iborat.

Shunday qilib, f moslik $f = \langle X, Y, R \rangle$ to'plamlar uchligidan iborat bo'ladi, bunda $R \subseteq X \times Y$. Agar $(x, y) \in R$ bo'lsa, y element x elementga mos qo'yilgan deyiladi.

Misol 6. Laboratoriya xonasida 8 ta laboratoriya qurilmasi bor: $X = \{x_1, x_2, \dots, x_8\}$. Laboratoriya ishini bajarish uchun 10 nafar talaba 5 ta guruhga ajralishdi: $Y = \{y_1, y_2, y_3, y_4, y_5\}$. U holda quyidagicha moslik bo'lishi mumkin:

$f = \{X, Y, \{(x_1, y_1), (x_2, y_1), (x_3, y_3), (x_5, y_4), (x_8, y_5)\}$, bu yerda (x_1, x_2, \dots, x_8) - moslikning aniqlanish sohasi, $(y_1, y_2, y_3, y_4, y_5)$ - moslikning qiymatlari sohasi bo'ladi.

Moslik 4 xilda bo'ladi:

1. **Birga-bir qiymatli moslik**, bu X va Y to'plamlar elementlari orasidagi shunday moslikki, bunda X ning har bir elementiga Y ning bitta yagona elementi mos qo'yiladi. Masalan, musbat butun sonning kvadrati butun musbat sonning o'zi bilan birga-bir mos qo'yilgan.

2. **Birga-ko'p qiymatli moslik**, bunda X ning bitta elementiga Y dan ikkita va undan ortiq element mos qo'yilgan bo'ladi.

Masalan, X - butun musbat sonlar to'plami bo'lsin: $X = \{4, 9, 16\}$

Y - X dan olingan kvadrat ildiz bo'lsin: $Y = \{-2, 2, -3, 3, -4, 4\}$.

3. **Ko'pga-bir qiymatli moslik**, bunda Y to'plamning har bir elementiga X to'plamidan bir nechta qiymat mos qo'yiladi. Masalan, imtihon topshiruvchi talabalar to'plami X ga baholar to'plami Y mos qo'yiladi. Bunda har bir talaba bittadan baho oladi, lekin 1 ta baho bir nechta talabaga qo'yiladi.

4. **Ko'pga-ko'p qiymatli moslik**, bunda X to'plamning bitta elementiga Y to'plamidan bir nechta qiymat mos qo'yiladi, shuningdek, Y ning bitta elementiga X dan bir nechta qiymat mos qo'yiladi. Masalan, X - birov qurilmaning bajaruvchi sxemalari, Y - esa elementlar tipi deyish mumkin.

Misol 7. Odamlar o'rtasidagi "qarindoshlik" munosabati binar munosabat bo'lib, bu to'plarni umumiy ajdodga ega bo'lgan odamlar juftligini o'z ichiga oladi.

Binar munosabatlar 3 xil usulda beriladi:

1. Juftliklarning (sanab o'tilgan) ro'yhati.
2. Matritsa (jadval) orqali.
3. Grafik - struktura ko'rinishida.

$T \subset A \times A$ berilgan bo'lsin, bu yerda $A = \{a_1, a_2, \dots, a_n\}$. U holda, agar a va b orasida T munosabat bo'lsa, C kvadrat matritsaning i -satri va j -ustuni kesishgan joyda joylashgan q element 1 ga teng bo'ladi; aks holda $C_{ij} = 0$.

$$C_{ij} = \begin{cases} 1, & \text{если } (a_i, a_j) \in T \\ 0, & \text{если } (a_i, a_j) \notin T \end{cases}$$

Misol 8. $M = \{1, 2, 3, 4, 5\}$ to'plamida aniqlangan

$$T = \{(a, b) : (a - b) \text{ - juft son}\}$$

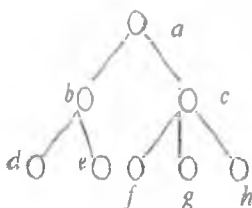
munosabat berilgan bo'lsin. Munosabatni ro'yhat va matritsa bilan bering.

- 1) $T = \{(1, 1), (1, 3), (1, 5), (2, 2), (2, 4), (3, 1), (3, 3), (3, 5), (4, 2), (4, 4), (5, 1), (5, 3), (5, 5)\}$.
- 2) Matritsa ko'rinishi:

T	1	2	3	4	5
1	1	0	1	0	1
2	0	1	0	1	0
3	1	0	1	0	1
4	0	1	0	1	0
5	1	0	1	0	1

yoki $\|T\| = \begin{pmatrix} 1 & 0 & 1 & 0 & 1 \\ 0 & 1 & 0 & 1 & 0 \\ 1 & 0 & 1 & 0 & 1 \\ 0 & 1 & 0 & 1 & 0 \\ 1 & 0 & 1 & 0 & 1 \end{pmatrix}$

Misol 9. $M = \{a, b, c, d, e, f, g, h\}$ oadamlar to'plami bo'lsin va struktura ko'rinishida berilgan bo'lsin.



Quyidagi munosabatlar haqida gapirish mumkin:

a) R_1 – “yaqin o’rtiq bo’lish” munosabati:

$$R_1 = \{(a, b), (a, c), (b, d), (b, e), (c, f), (c, g), (c, h), (b, a), \\ (c, a), (d, b), (e, b), (f, c), (g, c), (h, c)\}$$

$$\|R_1\| = \begin{pmatrix} 0 & 1 & 1 & 0 & 0 & 0 & 0 & 0 \\ 1 & 0 & 0 & 1 & 1 & 0 & 0 & 0 \\ 1 & 0 & 0 & 0 & 0 & 1 & 1 & 1 \\ 0 & 1 & 0 & 0 & 0 & 0 & 0 & 0 \\ 0 & 1 & 0 & 0 & 0 & 0 & 0 & 0 \\ 0 & 0 & 1 & 0 & 0 & 0 & 0 & 0 \\ 0 & 0 & 1 & 0 & 0 & 0 & 0 & 0 \\ 0 & 0 & 1 & 0 & 0 & 0 & 0 & 0 \end{pmatrix}$$

b) R_2 – “boshliq bo’lishi” munosabati:

$$R_2 = \{(a, b), (a, c), (a, d), (a, e), (a, f), (a, g), (a, h), (b, d), (b, e), (c, f), (c, g), (c, h)\}$$

c) R_3 – “ota bo’lish” munosabati:

$$R_3 = \{(a, b), (a, c), (b, d), (b, e), (c, f), (c, g), (c, h)\}.$$

Misol 10. $A = \{4, 5, 6\}$ va $B = \{1, 2, 3, 4\}$ to'plamlar uchun $U \subseteq A \times B$ va $R \subseteq A \times B$ bo'lgan $U = \{(x, y) : x + y = 8\}$, $R = \{(x, y) : x < y\}$ binar munosabatlarni tuzing.

Yechilishi: $U = \{(4, 4), (5, 3), (6, 2)\}$ va $R = \{(x, y) : x < y\} = \emptyset$.

Nazorat uchun savollar:

1. Dekart ko'paytma ta'rifini keltiring, Misol keltiring.
2. Daraja aksiomasini keltiring.
3. Dekart ko'paytma xossalari ayting.
4. n -o'rinli munosabat ta'rifini keltiring?
5. Teskari munosabat deb nimaga aytiladi?
6. Ayniy yoki diagonal munosabat deb nimaga aytiladi?
7. Moslik (binar munosabat) deb nimaga aytiladi?
8. Moslik turlarini sanab bering.
9. Moslik qanday beriladi?

Mустаqil yechish uchun masalalar:

1. $M = \{1, 2, 3, 4, 5, 6\}$ bo'lsin. R_1, R_2, R_3, R_4, R_5 munosabatlari ro'yhat va matritsa bilan bering, agar:
 - a) R_1 - "qat'iy kichik bo'lish";
 - b) R_2 - "1 dan farqli umumiy bo'luvchiga ega bo'lish";
 - v) R_3 - "3 ga bo'linganda bir xil qoldiqqa ega bo'lish";
 - g) R_4 - "(a - b) - toq son";
 - d) R_5 - "(a+b) - juft son".
 Barcha munosabatlar uchun D_1 va D_2 ni ko'rsating.

2. Quyidagi struktura ko'rinishidagi munosabatlarni ro'yhat shaklida yozing:



R_1 - "to'g'ridan-to'g'ri boshliq bo'lish"

R_2 - "bo'bo bo'lish"

R_3 - "o'g'il yoki qiz bo'lish".

1.2.2. Munosabatlar superpozitsiyasi.

Ta'rif. $P \subseteq A \times B$ va $Q \subseteq B \times C$ binar munosabatlar uchun $P \circ Q \subseteq A \times C$ predikat quyidagicha aniqlangan bo'lsin: $(P \circ Q)(x, z) = 1$ shart bilan aniqlangan ixtiyoriy $x \in A, z \in C$ uchun shunday $y \in B$ topiladiki, $P(x, y) = 1, Q(y, z) = 1$ o'rinni bo'ladi. $P \circ Q$ ga P va Q munosabatlarning superpozitsiyasi deyiladi.

Demak, $P \circ Q = \{(x, z) : \forall x \in A, z \in C \text{ ba } \exists y \in B \Rightarrow (x, z) \in P \text{ va } (y, z) \in Q\}$

Misol 1. $A = \{1, 2, 3\}$, $B = \{a, b, c\}$ va $C = \{x, y, z\}$ to'plamlar berilgan bo'lsin.

$$P \subseteq A \times B = \{(1; a); (1; c); (2; b); (2; c); (3; a)\};$$

$$Q \subseteq B \times C = \{(a; x); (a; y); (b; y); (b; z); (c; x); (c; z)\};$$

$$P \circ Q \subseteq A \times C \setminus \{(3; z)\} = \{(1; x); (1; y); (1; z); (2; x); (2; y); (2; z); (3; x); (3; y)\}.$$

Misol 2. $A = \{a, b, c, d\}$ to'plam berilgan bo'lsin.

$$P \subseteq A \times A = \{(a; a); (a; b); (a; d); (c; a); (c; b); (d; a)\},$$

u holda teskari munosabat

$$P^{-1} = \{(a; a); (b; a); (d; a); (a; c); (b; c); (a; d)\} \text{ bo'ladi.}$$

Quyidagilarni hisoblaymiz: $P \cap P^{-1}, P \circ P^{-1}, P^{-1} \circ P$:

$$\text{a) } P \cap P^{-1} = \{(a; a); (a; d); (d; a)\};$$

$$\text{b) } P \circ P^{-1} = \{(a; a); (a; c); (a; d); (c; a); (c; c); (c; d); (d; a); (d; c); (d; d)\};$$

$$\text{v) } P^{-1} \circ P = \{(a; a); (a; b); (a; d); (b; a); (b; b); (b; d); (d; a); (d; b); (d; d)\}.$$

Bundan ko'rinadiki, $P \circ P^{-1} \neq P^{-1} \circ P$, ya'ni superpozitsiya amali kommutativ emas.

Teorema 1. $P \subseteq A \times B$ munosabat uchun quyidagilar o'rinli

$$\text{a) } I_A \circ P = P;$$

$$\text{b) } P \circ I_B = P.$$

Isboti: a) $(x, y) \in I_A \circ P$ ni olib qaraylik, uning uchun shunday $z \in B$ topiladiki, $(x, z) \in I_A$ va $(z, y) \in P$. Biroq $(x, z) \in I_A$ dan $x = z$ kelib chiqadi, demak $(x, y) \in P$, u holda $I_A \circ P \subseteq P$.

Endi $(x, y) \in P$ bo'lgan holni qaraymiz, bu holda $(x, x) \in I_A$ va $(x, y) \in P$ hosil bo'ladi. Ya'ni shunday $z \in B$ ($z = x$) topiladiki, uning uchun $(x, z) \in I_A$ va $(z, y) \in P$ bo'ladi, demak $(x, y) \in I_A \circ P$.

b) shart ham shunga o'xshash isbotlanadi.

Teorema 2. $P \subseteq A \times B$ va $Q \subseteq B \times C$ binar munosabatlar uchun

$$(P \circ Q)^{-1} = Q^{-1} \circ P^{-1} \text{ tenglik o'rinli.}$$

Isboti: $(z, x) \in (P \circ Q)^{-1} \leftrightarrow (x, z) \in P \circ Q$ uchun shunday $y \in B$ element topiladiki, uning uchun $(x, y) \in P$ va $(y, z) \in Q \leftrightarrow (y, x) \in P^{-1}$ va $(z, y) \in Q^{-1} \leftrightarrow (z, x) \in Q^{-1} \circ P^{-1}$ bo'ladi. Teorema isbotlandi.

Teorema 3. $P \subseteq A \times B$, $Q \subseteq B \times C$, $R \subseteq C \times D$ binar munosabatlar uchun $(P \circ Q) \circ R = P \circ (Q \circ R)$ superpozitsiyaning assosiativligi o'rinli.

Isboti: $(x, t) \in (P \circ Q) \circ R$ uchun shunday $z \in C$ element topiladiki, uning uchun $(x, z) \in (P \circ Q)$ va shunday $y \in B$ element topiladiki, uning uchun $(x, y) \in P$, $(y, z) \in Q$ va $(z, t) \in R$ munosabatlar o'rinli. Ularning

superpozitsiyasini hisoblab, $(x, y) \in P$ va $(y, t) \in Q \circ R$ dan $(x, t) \in P \circ (Q \circ R)$ ga kelamiz. Demak, $(P \circ Q) \circ R = P \circ (Q \circ R)$. Teorema isbotlandi.

Nazorat uchun savollar:

1. Munosabatlarning superpozitsiyasi deb nimaga aytiladi?
2. $P \subseteq A \times B$, $Q \subseteq B \times C$, $R \subseteq C \times D$ binar munosabatlar uchun $(P \circ Q) \circ R = P \circ (Q \circ R)$ superpozitsiyaning assotsiativligini isbotlang.
3. $P \subseteq A \times B$ va $Q \subseteq B \times C$ binar munosabatlar uchun $(P \circ Q)^{-1} = Q^{-1} \circ P^{-1}$ tenglik o'rinli ekanligini isbotlang.
4. $P \subseteq A \times B$ munosabat uchun $I_A \circ P = P$ o'rinli ekanligini isbotlang.
5. $P \subseteq A \times B$ munosabat uchun $P \circ I_B = P$ o'rinli ekanligini isbotlang.

Mustaqil yechish uchun masalalar:

$A = \{a, b, c\}$, $B = \{1, 2, 3\}$, $C = \{\alpha, \beta, \gamma\}$ to'plamlarda aniqlangan $R_1 \subset A \times B$ va $R_2 \subset B \times C$ binar munosabatlarning superpozitsiyasini toping:

- a) $R_1 = \{(a, 2), (a, 3), (b, 1), (c, 2)\}$, $R_2 = \{(1, \alpha), (2, \alpha), (2, \beta), (3, \gamma)\}$
- b) $R_1 = \{(a, 3), (a, 2), (a, 1)\}$, $R_2 = \{(2, \gamma), (1, \alpha), (1, \beta)\}$
- c) $R_1 = \{(a, 3), (b, 2), (c, 1), (c, 2)\}$, $R_2 = \{(1, \beta), (2, \alpha), (3, \beta), (3, \gamma)\}$
- d) $R_1 = \{(a, 3), (a, 2), (a, 1)\}$, $R_2 = \{(1, \gamma), (3, \alpha), (1, \beta)\}$
- e) $R_1 = \{(a, 1), (a, 3), (c, 1), (c, 3)\}$, $R_2 = \{(2, \alpha), (2, \gamma), (1, \beta), (3, \alpha)\}$
- f) $R_1 = \{(a, 3), (a, 2), (a, 1)\}$, $R_2 = \{(1, \gamma), (1, \alpha), (3, \beta)\}$
- g) $R_1 = \{(a, 2), (b, 1), (c, 3)\}$, $R_2 = \{(1, \beta), (2, \beta), (3, \alpha)\}$
- i) $R_1 = \{(a, 3), (a, 2), (a, 1)\}$, $R_2 = \{(3, \gamma), (2, \alpha), (2, \beta)\}$

1.2.3. Ekvivalentlik munosabati.

Binar munosabatlarda $(x,y) \in P$ o'rniga xPy yozuv ham ishlatiladi.

Ta'rif 1. Agar X to'plamdagi ixtiyoriy x element to'g'risida u o'z-o'zi bilan P munosabatda deyish mumkin bo'lsa, X to'plamdagi munosabat **refleksiv munosabat** deyiladi va xPx ko'rinishida belgilanadi.

Ta'rif 2. Agar X to'plamdagi x elementning y element bilan P munosabatda bo'lishidan y elementning ham x element bilan P munosabatda bo'lishi kelib chiqsa, X to'plamdagi P munosabat **simmetrik munosabat** deyiladi va $xPy \Rightarrow yPx$ ko'rinishida belgilanadi.

Ta'rif 3. Agar X to'plamdagi x elementning y element bilan P munosabatda bo'lishi va y elementning z element bilan P munosabatda bo'lishidan x elementning z element bilan P munosabatda bo'lishi kelib chiqsa, X to'plamdagi P munosabat **tranzitiv munosabat** deyiladi va $xPy, yPz \Rightarrow xPz$ ko'rinishida belgilanadi.

Ta'rif 4. Agar X to'planning turli x va y elementlari uchun x elementning y element bilan P munosabatda bo'lishidan y elementning x element bilan P munosabatda bo'lmasligi kelib chiqsa, X to'plamdagi P munosabat **antisimmetrik munosabat** deyiladi va $xPy \Rightarrow \neg yPx$ ko'rinishida belgilanadi.

Ta'rif 5. $P \subseteq A \times A$ binar munosabat ham refleksivlik, ham simmetriklik, ham tranzitivlik shartlarini qanoatlantirsa, P munosabatga **ekvivalentlik munosabati** deyiladi, ya'ni P uchun

- a) $\forall x \in A$ uchun xPx ;
- b) $xPy \Rightarrow yPx$;
- c) $\forall (x, y) \in P, (y, z) \in P$ uchun xPy va yPz dan xPz kelib chiqsa.

Misol 1. 1) “=” munosabati ekvivalentlik munosabati bo'lad.

2) Qarindoshlik munosabati ekvivalentlik munosabati bo'lad.

3) “Sevgi” munosabati ekvivalent munosabat bo'la olmaydi.

Misol 2. $A = Z$ butun sonlar to'plami va unda aniqlangan $P \subseteq Z \times Z$ munosabat shunday $x-y$ larki, ular 3 ga bo'linadi.

a) $x-x=0$ soni 3 ga bo'linadi.

b) $x-y$ ifoda 3 ga bo'linsa, $y-x = -(x-y)$ ham 3 ga bo'linadi.

c) $x-y$ ifoda 3 ga bo'linsa va $y-z$ ifoda 3 ga bo'linsa, u holda $(x-y) + (y-z) = x-z$ ham 3 ga bo'linadi.

Demak, $P \subseteq Z \times Z = \{x \in Z, y \in Z \mid x-y:3 \text{ ga bo'linadi}\}$ munosabat ekvivalentlik munosabati bo'lar ekan.

Ta'rif 6. $x \in A$ elementning ekvivalentlik sinfi deb, $E(x) = \{y / x-y\}$ to'plamga aytiladi.

Ta'rif 7. A to'plam elementlarining E ekvivalentlik bo'yicha ekvivalent sinflar to'plami faktor – to'plam deyiladi va $A/E = \{E(x) / x \in A\}$ kabi belgilanadi.

Misol 3. Agar $\{(a;b), (c;d)\} \in Q$ to'plam elementlari uchun $a+d=b+c$ tenglik bajarilsa, u holda Q munosabat $N \times N$ to'plamda ekvivalentlik munosabati bo'lini ko'rsating.

Yechilishi:

1) *Refleksivlik:* agar A to'plamda Q refleksivlik munosabati bo'lsa, u holda $\forall x \in Q, (x;x) \in Q$. Bizning misolda A to'plam o'rnida $N \times N$ to'plam va x element o'rnida $(x;y)$ juftlik. Bunda $N \times N$ to'plamda Q munosabat refleksiv bo'ladi, agarda $\forall (x; y) \in Q, \{(x;y), (x;y)\} \in Q$. Ta'rifga ko'ra, $Q: a+d=b+c$, lekin $a+b=b+a$, demak, Q - refleksiv munosabat.

2) *Simmetriklik:* agar $\{(a;b), (c;d)\} \in Q$ bo'lsa, u holda $\{(c;d), (a;b)\} \in Q$, $a+d=b+c$ bundan $c+b=d+a$. Demak, Q - simmetrik munosabat.

3) *Tranzitivlik*: agar $\{(a;b), (c;d)\} \in Q$, $\{(c;d), (f;g)\} \in Q$ bo'lsa, u holda $\{(a;b), (f;g)\} \in Q$ bo'ladi, chunki $a+d=b+c$ va $c+g=d+f$. U holda $(a+d)+(c+g)=(b+c)+(d+f) \Rightarrow a+d+c+g=b+c+d+f \Rightarrow a+g=b+f$, ya'ni Q - tranzitiv munosabat.

Demak, Q munosabat ham refleksiv, ham simmetrik, ham tranzitiv bo'lganligi uchun ekvivalent munosabat bo'ladi.

Ta'rif 8. Har bir elementi A to'plamining faqat va faqat bitta qism to'plamiga tegishli bo'lgan kesishmaydigan qism to'plamlar majmuasi A to'plamning bo'laklari deyiladi.

Teorema. A/E faktor-to'plam A to'plamning bo'lagi bo'ladi. Va aksincha, agar $R=\{A_i\}$ - A to'plamning biror bo'lagi bo'lsa, u holda bu bo'lakka biror i va A_i dan olingan x, y elementlar uchun xEy qoida bo'yicha E ekvivalentlik munosabatini topish mumkin.

Nazorat uchun savollar:

1. Munosabatlarning kompozitsiyasi va uning xossalari.
2. Refleksivlik shartini ayting.
3. Simmetriklik shartini ayting.
4. Tranzitivlik shartini ayting.
5. Antisimmetrik munosabat deb nimaga aytiladi?
6. Ekvivalent munosabat deb nimaga aytiladi?
7. Faktor - to'plam deb nimaga aytiladi?
8. Ekvivalentlik sinfi deb nimaga aytiladi?

Mustaqil yechish uchun masalalar:

1. Birdan farqli natural sonlar to'plami dekart kvadratida aniqlangan $R = \{(x, y) : x \text{ va } y \text{ lar birdan farqli umumiy bo'luvchiga ega}\}$ munosabat ekvivalent munosabat bo'ladimi?
2. $A = \{a, b, c\}$ to'plam dekart kvadratida simmetrik bo'lgan, refleksiv, tranzitiv bo'lmagan munosabatga misol keltiring va isbotlang.
3. $A = \{a, b, c\}$ to'plam dekart kvadratida tranzitiv bo'lgan, refleksiv, simmetrik bo'lmagan munosabatga misol keltiring va isbotlang.
4. $A = \{a, b, c\}$ to'plam dekart kvadratida refleksiv, simmetrik bo'lgan, tranzitiv bo'lmagan munosabatga misol keltiring va isbotlang.
5. K-kalit so'zlar, P- web sahifalar to'plami bo'lsin. R munosabat ushbu to'plamlar dekart ko'paymasida aniqlangan bo'lsin. (x, y) juftlik R munosabatga tegishli bo'lsin, agar x kalit so'z y web-sahifada bo'lsa. R munosabat ekvivalent munosabat bo'ladimi?
6. $A = \{1, 2, 3, 4\}$ to'plam dekart kvadratida refleksiv bo'lgan, simmetrik, tranzitiv bo'lmagan munosabatga misol keltiring va isbotlang.
7. $A = \{1, 2, 3, 4\}$ to'plam dekart kvadratida refleksiv, simmetrik, tranzitiv bo'lmagan munosabatga misol keltiring va isbotlang.
8. $A = \{1, 2, 3, 4\}$ to'plam dekart kvadratida ekvivalent munosabatga misol keltiring va isbotlang.

1.2.4. Munosabatning aniqlanish, qiymatlar sohalari.

Munosabatlar maydoni.

Biror A va B to'plamlar hamda unda aniqlangan $P \subseteq A \times B$ munosabat berilgan bo'lsin.

Ta'rif 1. P -munosabatning chap sohasi yoki aniqlanish sohasi D_l deb, P -munosabatga tegishli juftliklar birinchi elementlaridan iborat to'plamga aytiladi va $D_l = \{\exists x: (x, y) \in P\}$ kabi belgilanadi. l - "left", ya'ni "chap" so'zidan olingan.

Ta'rif 2. P -munosabatning o'ng sohasi yoki qiymatlar sohasi D_r deb, P -munosabatga tegishli juftliklarning ikkinchi elementlar to'plamiga aytiladi va $D_r = \{\exists y: (x, y) \in P\}$ kabi belgilanadi. r - "right", ya'ni "o'ng" so'zidan olingan.

Geometrik ma'noda D_l - P munosabatning X to'plamga proyeksiyasi, D_r - P munosabatning Y to'plamdagi proyeksiyasi hisoblanadi.

Ta'rif 3. Aniqlanish va qiymatlar sohaslarining birlashmasi $D_l \cup D_r$ ga P munosabat maydoni deyiladi va $F(P)$ kabi belgilanadi.

P munosabatning chap va o'ng sohalariidagi bir xil qiymatga ega bo'lgan elementlari, ikkala tomonga ham tegishli deb hisoblanadi, xususan A^2 dekart kvadrat uchun $F(P) = A$ bo'ladi.

Ta'rif 4. $R^{-1} = \{(y, x): (x, y) \in R\}$ to'plamga R munosabatga teskari munosabat deyiladi.

Misol. $A = \{2, 3, 4, 5, 6, 7, 8\}$ to'plamda binar munosabat

$$R = \{(x, y): x, y \in A, x \text{ element } y \text{ ni bo'ladi va } x \leq 3\}$$

shart bilan aniqlangan bo'lsin. U holda

$$R = \{(2, 2), (2, 4), (2, 6), (2, 8), (3, 3), (3, 6)\};$$

$$D_l = \{2, 3\};$$

$$D_r = \{2, 3, 4, 6, 8\}; \quad R^{-1} = \{(2, 2), (4, 2), (6, 2), (8, 2), (3, 3), (6, 3)\}.$$

Nazorat uchun savollar:

1. Munosabatlarning aniqlanish sohasi ta'rifini keltiring.
2. Munosabatlarning qiymatlar sohasi ta'rifini ayting.
3. A to'plamning R munosabatga nisbatan asli deb nimaga aytiladi?
4. A to'plamning R munosabatga nisbatan tasviri deb nimaga aytiladi?
5. Teskari munosabatga ta'rif bering.
6. Munosabat maydoni deb nimaga aytiladi?

Mustaqil yechish uchun masalalar:

$A = \{a, b, c, d, e\}$, $B = \{1, 2, 3, 4\}$ to'plamlarda quyidagicha munosabatlar berilgan:

$$R_1 \subseteq A \times B \quad \text{va} \quad R_2 \subseteq B \times B = B^2 \quad \text{bo'lsa,}$$

- 1) R_1, R_2 munosabatlarni grafik ko'rinishda ifodalang;
- 2) R_1, R_2 munosabatlarning aniqlanish va qiymatlar sohaslarini toping;
- 3) $R_1, R_2, R_1^{-1}, R_2^{-1}, R_2^2, R_2 \cap R_2^{-1}$ - munosabatlarning matritsasini toping;
- 4) R_2 munosabatni refleksivlik, simmetriklik, antisimmetriklik, tranzitivlik xossalari tekshirilsin.

1.

$$R_1 = \{ \langle a; 3 \rangle, \langle b; 1 \rangle, \langle b; 3 \rangle, \langle c; 2 \rangle, \langle c; 4 \rangle, \langle d; 3 \rangle, \langle e; 1 \rangle, \langle e; 2 \rangle, \langle e; 3 \rangle, \langle e; 4 \rangle \},$$

$$R_2 = \{ \langle 1; 4 \rangle, \langle 2; 1 \rangle, \langle 2; 2 \rangle, \langle 2; 3 \rangle, \langle 3; 2 \rangle, \langle 3; 3 \rangle, \langle 4; 1 \rangle, \langle 4; 3 \rangle \}.$$

2.

$$R_1 = \{ \langle a; 1 \rangle, \langle a; 3 \rangle, \langle a; 4 \rangle, \langle d; 3 \rangle, \langle c; 1 \rangle, \langle c; 3 \rangle, \langle c; 4 \rangle, \langle d; 1 \rangle, \langle d; 3 \rangle, \langle e; 4 \rangle \},$$

$$R_2 = \{ \langle 1; 1 \rangle, \langle 1; 4 \rangle, \langle 2; 1 \rangle, \langle 2; 3 \rangle, \langle 3; 2 \rangle, \langle 4; 1 \rangle, \langle 4; 3 \rangle, \langle 4; 4 \rangle \}.$$

3.

$$R_1 = \{ \langle a; 1 \rangle, \langle a; 3 \rangle, \langle b; 1 \rangle, \langle b; 3 \rangle, \langle c; 1 \rangle, \langle c; 3 \rangle, \langle d; 3 \rangle, \langle d; 4 \rangle, \langle e; 2 \rangle, \langle e; 4 \rangle \},$$

$$R_2 = \{ \langle 1; 1 \rangle, \langle 1; 2 \rangle, \langle 1; 4 \rangle, \langle 2; 3 \rangle, \langle 3; 2 \rangle, \langle 3; 4 \rangle, \langle 4; 1 \rangle, \langle 4; 4 \rangle \}.$$

4.

$$R_1 = \{ \langle a;3 \rangle, \langle b;3 \rangle, \langle c;2 \rangle, \langle c;3 \rangle, \langle c;4 \rangle, \langle d;2 \rangle, \langle d;3 \rangle, \langle d;4 \rangle, \langle e;2 \rangle, \langle e;4 \rangle \},$$

$$R_2 = \{ \langle 1;2 \rangle, \langle 1;4 \rangle, \langle 2;1 \rangle, \langle 2;3 \rangle, \langle 3;2 \rangle, \langle 3;4 \rangle, \langle 4;1 \rangle, \langle 4;3 \rangle \}.$$

5.

$$R_1 = \{ \langle a;3 \rangle, \langle a;4 \rangle, \langle b;2 \rangle, \langle b;3 \rangle, \langle c;2 \rangle, \langle c;3 \rangle, \langle c;4 \rangle, \langle d;3 \rangle, \langle d;2 \rangle, \langle d;4 \rangle \},$$

$$R_2 = \{ \langle 1;3 \rangle, \langle 1;4 \rangle, \langle 2;3 \rangle, \langle 2;4 \rangle, \langle 3;2 \rangle, \langle 3;3 \rangle, \langle 4;1 \rangle, \langle 4;3 \rangle \}.$$

6.

$$R_1 = \{ \langle a;1 \rangle, \langle a;3 \rangle, \langle b;2 \rangle, \langle b;4 \rangle, \langle c;1 \rangle, \langle c;3 \rangle, \langle c;4 \rangle, \langle d;4 \rangle, \langle e;3 \rangle, \langle e;4 \rangle \},$$

$$R_2 = \{ \langle 1;1 \rangle, \langle 2;1 \rangle, \langle 2;4 \rangle, \langle 3;1 \rangle, \langle 3;2 \rangle, \langle 3;3 \rangle, \langle 3;4 \rangle, \langle 4;4 \rangle \}.$$

7.

$$R_1 = \{ \langle a;3 \rangle, \langle b;1 \rangle, \langle b;3 \rangle, \langle c;2 \rangle, \langle c;4 \rangle, \langle d;3 \rangle, \langle e;1 \rangle, \langle e;2 \rangle, \langle e;3 \rangle, \langle e;4 \rangle \},$$

$$R_2 = \{ \langle 1;4 \rangle, \langle 2;1 \rangle, \langle 2;2 \rangle, \langle 2;3 \rangle, \langle 3;2 \rangle, \langle 3;3 \rangle, \langle 4;1 \rangle, \langle 4;3 \rangle \}.$$

8.

$$R_1 = \{ \langle b;1 \rangle, \langle b;4 \rangle, \langle c;1 \rangle, \langle c;2 \rangle, \langle c;4 \rangle, \langle d;4 \rangle, \langle e;1 \rangle, \langle e;2 \rangle, \langle e;3 \rangle, \langle e;4 \rangle \},$$

$$R_2 = \{ \langle 1;1 \rangle, \langle 1;2 \rangle, \langle 1;3 \rangle, \langle 2;1 \rangle, \langle 2;4 \rangle, \langle 3;1 \rangle, \langle 3;4 \rangle, \langle 4;4 \rangle \}.$$

9.

$$R_1 = \{ \langle b;1 \rangle, \langle b;2 \rangle, \langle b;3 \rangle, \langle b;4 \rangle, \langle c;2 \rangle, \langle c;4 \rangle, \langle d;2 \rangle, \langle d;4 \rangle, \langle e;2 \rangle, \langle e;4 \rangle \},$$

$$R_2 = \{ \langle 2;1 \rangle, \langle 2;2 \rangle, \langle 2;3 \rangle, \langle 2;4 \rangle, \langle 3;2 \rangle, \langle 3;4 \rangle, \langle 4;2 \rangle, \langle 4;4 \rangle \}.$$

10.

$$R_1 = \{ \langle a;3 \rangle, \langle b;2 \rangle, \langle c;1 \rangle, \langle c;3 \rangle, \langle d;4 \rangle, \langle e;3 \rangle, \langle e;4 \rangle \},$$

$$R_2 = \{ \langle 1;1 \rangle, \langle 2;4 \rangle, \langle 3;1 \rangle, \langle 3;2 \rangle, \langle 3;3 \rangle, \langle 3;4 \rangle, \langle 4;4 \rangle \}.$$

1.3. AKSLANTIRISHLAR

KIRISH

Ushbu bobda akslantirish, ya'ni funktsiya tushunchalari ham kiritiladi. Zamonaviy dasturlash tillarida funktsiyalar juda keng qo'llaniladi. Ular bisga qism dasturlarni alohida agratib hisoblash imkoniyatini beradi. Ba'zi dasturlash tillarida bimuncha ko'p uchraydigan $\sin x$, $\log x$, $|x|$ kabi funktsiyalar uchun maxsus bazalar mavjud. Funktsional dasturlash tillarida sodda funktsiyalardan foydalanib, murakkab funktsiyalarni tadqiq qilish uchun biz funktsiyalar kompozitsiyalarini yaxshi bilishimiz kerak bo'ladi. Ushbu bobning amaliy tadbiqu sifatida funktsiyalar kompozitsiyalarini hisoblashni o'rganib chiqamiz.

1.3.1. Chekli to'plamda akslantirish tushunchasi.

Ta'rif 1. Agar biyor X to'plamning har bir x elementiga qandaydir qonuniyat bo'yicha yagona $f(x)$ ob'yekt mos qo'yilgan bo'lsa, bu f moslik funktsiya deyiladi.

Ta'rif 2. $f \subset A \times B$ munosabat funktsiya yoki A to'plamdan B to'plamga akslantirish deyiladi, agar da quyidagi shartlar bajarilsa:

$$1) D_1(f) = A, \quad D_2(f) \subseteq B,$$

$$2) (x, y_1) \in f, (x, y_2) \in f \text{ ekanligidan } y_1 = y_2 \text{ ekanligi kelib chiqsa.}$$

Funktsiya $f: A \rightarrow B$ yoki $A \xrightarrow{f} B$ kabi belgilanadi, agar $(x, y) \in f$ bo'lsa, u holda $y = f(x)$ kabi yoziladi va f funktsiya x elementga y elementni mos qo'yadi deb gapiriladi. $y \in B$ elementga x elementning tasviri, $x \in A$ elementga y ning asli deyiladi.

Agar $D_1(f) \subset A$ bo'lsa, f funktsiya qismaniy funktsiya deyiladi.

Ixtiyoriy funksiya $f: A \rightarrow B$ bu binar munosabat. Shuning uchun teskari munosabat f^{-1} ni qurish mumkin. Agar buning natijasida yana funksiya hosil bo'lsa, u holda f ga teskarilanuvchi funksiya deyiladi va teskari funksiya $f^{-1}: B \rightarrow A$ ko'rinishida belgilanadi.

Misol 1. 1) $g = \{(1, 2), (2, 3), (3, 2)\}$ - munosabat funksiya bo'ladi.

2) $R = \{(1, 2), (1, 3), (2, 3)\}$ - munosabat funksiya bo'lmaydi.

3) $f = \{(x, x^2 - 2x + 3), x \in R\}$ - munosabat funksiya bo'ladi va $y = x^2 - 2x + 3$ ko'rinishda ham yoziladi.

Ta'rif 3. Agar

1) $D_1(f) = D_1(g);$

2) ixtiyoriy $x \in D_1(f)$ uchun $f(x) = g(x)$ bajarilsa, $f: A \rightarrow B$ va $g: C \rightarrow D$

akslantirishlarga teng akslantirishlar deyiladi.

Teorema 1. $f: A \rightarrow B$ akslantirish va $X, Y \subseteq A$ lar uchun $f(X \cup Y) = f(X) \cup f(Y)$ tenglik o'rinni.

(Birlashmaning obrazi obrazlar birlashmasiga teng.)

Isboti: Aytaylik, $b \in f(X \cup Y)$ bo'lsin. Demak, shunday $a \in X \cup Y$ mavjudki, uning uchun $f(a) = b$. Agar $a \in X$ bo'lsa, u holda $f(a) = b \in f(X)$, bundan esa $b \in f(X) \cup f(Y)$ kelib chiqadi. Xuddi shuningdek, $a \in Y$ ham isbotlanadi. Demak, $f(X \cup Y) \subseteq f(X) \cup f(Y)$ ekanligi isbotlandi.

Endi $b \in f(X) \cup f(Y)$ bo'lsin. Aniqlik uchun $b \in f(X)$ ni qaraylik, demak, shunday $a \in X$ mavjudki, uning uchun $f(a) = b$. Bundan $a \in X$ va $a \in X \cup Y$ ekanligi, demak, $b \in f(X \cup Y)$ ekanligi kelib chiqadi. Xuddi shuningdek, $b \in f(Y)$ ham isbotlanadi. Demak, $f(X) \cup f(Y) \subseteq f(X \cup Y)$ ekanligi isbotlandi.

$f(X \cup Y) \subseteq f(X) \cup f(Y)$ va $f(X) \cup f(Y) \subseteq f(X \cup Y)$ o'rinli bo'lsa, demakki, $f(X \cup Y) = f(X) \cup f(Y)$ tenglik o'rinli. Teorema isbotlandi.

Teorema 2. $f: A \rightarrow B$ akslantirish va $X, Y \subseteq B$ lar uchun $f^{-1}(X \cup Y) = f^{-1}(X) \cup f^{-1}(Y)$ tenglik o'rinli.

(Birlash maning proobrazi proobrazlar birlashmasiga teng.)

Isboti: $a \in f^{-1}(X \cup Y)$ elementni olaylik, bu $f(a) \in X \cup Y$ ekanini bildiradi, ya'ni $f(a) \in X$ yoki $f(a) \in Y$. Agar $f(a) \in X$ bo'lsa, u holda proobraz ta'rifiga ko'ra $a \in f^{-1}(X)$ bo'ladi, bundan esa $a \in f^{-1}(X) \cup f^{-1}(Y)$ ekanligi kelib chiqadi. Xuddi shu uingdek, agar $f(a) \in Y$ bo'lsa, u holda $a \in f^{-1}(Y)$. Bundan

$$f^{-1}(X \cup Y) \subseteq f^{-1}(X) \cup f^{-1}(Y)$$

kelib chiqadi.

Endi aksincha qism to'plam bo'lishini ko'rsatamiz.

$a \in f^{-1}(X) \cup f^{-1}(Y)$ bo'lsin, bundan $a \in f^{-1}(X)$ yoki $f(a) \in Y$. Agar $a \in f^{-1}(X)$ bo'lsa, u holda $f(a) \in X$ bo'ladi. Shuningdek, $f(a) \in X \cup Y$ bo'ladi, bundan $a \in f^{-1}(X \cup Y)$ kelib chiqadi. $a \in f^{-1}(Y)$ bo'lgan hol ham shunday yo'l bilan isbotlanadi va $f^{-1}(X) \cup f^{-1}(Y) \subseteq f^{-1}(X \cup Y)$ hosil qilinadi. Bu ikkita isbotlangan qism to'plamlar birlashtirilsa, talab qilingan tenglikka kelamiz.

$$f^{-1}(X \cup Y) = f^{-1}(X) \cup f^{-1}(Y).$$

Teorema isbotlandi.

Teorema 3. $f: A \rightarrow B$ akslantirish va $X, Y \subseteq A$ lar uchun $f(X \cap Y) \subseteq f(X) \cap f(Y)$ tenglik o'rinli.

Isboti: $b \in f(X \cap Y)$ bo'lsin. Obraz ta'rifiga ko'ra, shunday $a \in X \cap Y$ elementlar topiladiki, ular uchun $f(a) = b$ tenglik o'rinli. $a \in X \cap Y$ ekanligidan $a \in X \cap a \in Y$ kelib chiqadi, demak, $f(a) = b \in f(X)$ va $f(a) = b \in f(Y)$, ya'ni

$b \in f(X) \cap f(Y)$. Bulardan talab qilingan tasdiq kelib chiqadi:
 $f(X \cap Y) \subseteq f(X) \cap f(Y)$

Teorema isbotlandi.

Misol 2. Teskari tasdiq o'rinli bo'lmashligini misol yordamida ko'ramiz.

$$f(x) = x^2 : R \rightarrow \cup R, \cup \{0\}$$

akslantirish bo'lsin.

X va Y to'plamlar sifatida $X = [-1; 0]$, $Y = [0; 1]$ lami ko'raylik. Ravshanki, $f(X) = [0; 1]$, $f(Y) = [0; 1]$, demak ularning kesishmasi $f(X) \cap f(Y) = [0; 1]$. So'ngra $[-1; 0] \cap [0; 1] = \{0\}$ ekanligidan $f(X \cap Y) = f(\{0\}) = \{0\}$ ni aniqlaymiz. Bu holda qism to'plam bo'lish $f(X) \cap f(Y) \not\subseteq f(X \cap Y)$ munosabati bajarilmaydi.

Teorema 4. $f: A \rightarrow B$ akslantirish va $X, Y \subseteq B$ to'plamlar uchun $f^{-1}(X \cap Y) = f^{-1}(X) \cap f^{-1}(Y)$ tenglik o'rinli.

Isboti: $a \in f^{-1}(X \cap Y)$ bo'lsin, ya'ni $f(a) = b \in X \cap Y$, demak, $b \in X \cap b \in Y$, shuning uchun $a \in f^{-1}(X)$ va $a \in f^{-1}(Y)$ bundan $a \in f^{-1}(X) \cap f^{-1}(Y)$.

Demak, $f^{-1}(X \cap Y) \subseteq f^{-1}(X) \cap f^{-1}(Y)$.

Endi teskari munosabatni isbotlash uchun $a \in f^{-1}(X) \cap f^{-1}(Y)$ ni olamiz, bundan $a \in f^{-1}(X)$ va $a \in f^{-1}(Y)$, demak, $f(a) \in X$ va $f(a) \in Y$, ya'ni $f(a) \in X \cap Y$, shuningdek, $a \in f^{-1}(X \cap Y)$ o'rinli ekanligi kelib chiqadi. Bundan esa $f^{-1}(X) \cap f^{-1}(Y) \subseteq f^{-1}(X \cap Y)$. Olingan qism to'plamlar birlashtirilsa, talab qilingan tenglikka kelamiz:

$$F^{-1}(X \cap Y) = F^{-1}(X) \cap F^{-1}(Y).$$

Teorema isbotlandi.

Ta'rif 4. Agar f^{-1} munosabat qismaniy funktsiya bo'lsa, ya'ni $\forall x_1, x_2 \in D_f(f)$ dan olingan $x_1 \neq x_2$ uchun $f(x_1) \neq f(x_2)$ bajarilsa, f funktsiyaga o'zaro bir qiymatli funktsiya yoki in'yektiv funktsiya deyiladi va $f: A \xrightarrow{1-1} B$ kabi belgilanadi.

Demak, in'yektiv funksiyada takrorlanuvchi qiymatlar bo'lmaydi. Bundan $f(x_1) = f(x_2)$ dan $x_1 = x_2$ kelib chiqadi.

Misol 3. $f(x) = 4x + 3$ funksiya $f(x): R \rightarrow R$ in'yektiv funksiya bo'lishini ko'rsating.

Yechilishi: Faraz qilaylik, $f(x_1) = f(x_2)$ bo'lsin, ya'ni $4x_1 + 3 = 4x_2 + 3$, bundan $4x_1 = 4x_2$, $x_1 = x_2$ kelib chiqadi. Demak, f - in'yektiv funksiya bo'ladi.

Ta'rif 5. Agar $D_r(f) = B$ bo'lsa, $f: A \rightarrow B$ funksiya A ni B ga ustiga akslantirish yoki syur'yektiv funksiya deyiladi va $f: A \xrightarrow{\text{ustiga}} B$ kabi belgilanadi.

Misol 4. 3-misoldagi $f(x) = 4x + 3$ funksiyaning syur'yektivlikka tekshiramiz.

Yechilishi: Aytaylik, $b \in R$ bo'lsin. Ta'rifga ko'ra, f - syur'yektiv funksiya bo'lishi uchun $D_r(a) = b$ o'rinli bo'ladigan shunday haqiqiy son $a \in R$ ni topish mumkin. Buning uchun $b = 4a + 3$ deb olsak, $a = \frac{b-3}{4}$ son topiladi. Demak, f - syur'yektiv funksiya.

Ta'rif 6. Ham in'yektiv, ham syur'yektiv bo'lgan f funksiya A va B to'plamlarning biyektiv funksiyasi deyiladi va $f: A \longleftrightarrow B$ kabi belgilanadi.

Misol 5. $f(x) = 4x + 3$ funksiya ham in'yektiv, ham syur'yektiv, demak biyektiv ham bo'ladi.

Umuman olganda, $f(x) = ax + b$ ($a \neq 0$) akslantirishlarning barchasi $f(x): R \rightarrow R$ biyektiv bo'ladi.

Misol 6. $f(x) = \sin x$ tenglik uchun:

- a) $f(x): R \rightarrow R$ akslantirish in'yektsiya ham, sur'yektiv ham bo'lmaydi.
- b) $f(x): R \rightarrow [-1; 1]$ akslantirishni olsak, bu sur'yektiv akslantirish bo'ladi, lekin in'yektiv bo'lmaydi.
- v) $f(x): [-\frac{\pi}{2}; \frac{\pi}{2}] \rightarrow [-1; 1]$ deb oladigan bo'lsak, bu akslantirish biyektiv bo'ladi.

Misol 7. $f(x) = x^2$ tenglik uchun:

- a) $f(x): R \rightarrow R$ akslantirish in'yektiv ham, sur'yektiv ham emas.
- b) $f(x): [0; \infty) \rightarrow R$ in'yektiv bo'ladi, sur'yektiv emas.
- v) $f(x): R \rightarrow [0; \infty)$ sur'yektiv bo'ladi, in'yektiv emas.
- g) $f(x): [0; \infty) \rightarrow [0; \infty)$ biyektiv akslantirish bo'ladi.

Keltirilgan misollardan ko'rinadiki, $f: A \rightarrow B_x$ akslantirishlarda nafaqat f amahning tuzilishi, balki A va B to'plamlarning ham tuzilishi muhim rol o'ynaydi..

Ta'rif 7. 1) $f: A \rightarrow B$ - biyektiv akslantirish bo'lsin. f akslantirishga teskari akslantirish f^{-1} deb, quyidagi shartlarni qanoatlantiruvchi akslantirishga aytiladi:

- a) $D_r(f^{-1}) = D_r(f) = B$;
- b) $D_r(f^{-1}) = D_r(f) = A$;
- v) ixtiyoriy $x \in A$ uchun $f(x) = y \Leftrightarrow x = f^{-1}(y)$

2) $Id_A: A \rightarrow A$ akslantirish quyidagicha aniqlanadi;

- a) $D_r(Id_A) = D_r(Id_A) = A$;
- b) ixtiyoriy $x \in A$ uchun $Id_A(x) = x$.

Id_A ga A da birlik akslantirish yoki ayniy akslantirish deyiladi.

Misol 28. $f_i: \mathbb{R} \rightarrow \mathbb{R}$, $i=1, 2, 3$, funksiyalarni qaraylik.

- 1) $f_1(x) = e^x$ funksiya in'yektiv, lekin sur'yektiv emas.
- 2) $f_2(x) = x \sin x$ funksiya in'yektiv emas, lekin sur'yektiv.
- 3) $f_3(x) = 2x - 1$ funksiya ham in'yektiv, ham sur'yektiv, demak biyektiv bo'ladi.

Nazorat uchun savollar:

1. Akslantirish tushunchasiga ta'rif bering.
2. Qisimiy funksiya deb nimaga aytiladi?
3. Birlashmaning obrazi obrazlar birlashmasiga tengligini isbotlang.
4. Birlashmaning proobrazi proobrazlar birlashmasiga teng ekanini isbotlang.
5. In'yektiv funksiya ta'rifini keltiring. Misol keltiring.
6. Sur'yektiv funksiya ta'rif bering.
7. Biyektiv funksiya ta'rif bering.
8. Ayrinij akslantirish deganda nimani tushunasiz?

Mustaqil yechish uchun masalalar:

1. $A = \{1, 2, 3, 4\}$, $B = \{a, b, c, d\}$ to'plamlar dekart ko'paytmasida aniqlangan quyidagicha R munosabatlar funksiya bo'ladimi? U holda in'yektivlik, sur'yektivlik va biyektivlikka tekshiring:

- a) $R = \{(1, a), (1, b), (2, a), (3, d)\}$
- b) $R = \{(1, a), (2, b), (3, a), (4, d)\}$
- c) $R = \{(1, a), (2, c), (3, b), (3, d)\}$
- d) $R = \{(2, a), (1, b), (2, c), (4, d)\}$
- e) $R = \{(3, b), (2, a), (1, c), (4, d)\}$

- f) $R = \{(4, c), (3, b), (3, a), (4, d)\}$
 g) $R = \{(4, a), (1, b), (2, a), (3, c)\}$
 i) $R = \{(3, b), (2, c), (1, a), (4, d)\}$

2. Agar $f_i(x): (-\infty; +\infty) \rightarrow (-\infty; +\infty)$ berilgan bo'lsa, ularni in'yektivlik, sur'yektivlik, biyektivlikka tekshiring:

- | | |
|---------------------------------|----------------------------------|
| a) $f(x) = x^2$ | e) $f(x) = \ln x$ |
| b) $f(x) = \operatorname{tg} x$ | f) $f(x) = 2x + 1$ |
| c) $f(x) = \cos x$ | g) $f(x) = \operatorname{ctg} x$ |
| d) $f(x) = \log_a x$ | i) $f(x) = 2x + 1$ |

3. $A = \{x: x \in \mathbb{R}, x \neq 1\}$ to'plam va $f: A \rightarrow A$ akslantirish $f(x) = \frac{x}{x-1}$ formula bilan berilgan bo'lsin. f ni biyektivlikka tekshiring va unga teskari funktsiyani toping.

1.3.2. Akslantirishlar superpozitsiyasi.

Ta'rif 1. $f: A \rightarrow B$ va $g: C \rightarrow D$ akslantirishlar berilgan bo'lsin. f va g akslantirishlar superpozitsiyasi deb,

$$1) D_f(g \circ f) = A;$$

$$2) D_g(g \circ f) = C;$$

$$3) \text{ ixtiyoriy } x \in D_f(g \circ f) \text{ uchun } (g \circ f)(x) = g(f(x))$$

shartlarni qanoatlantiruvchi $g \circ f: A \rightarrow C$ akslantirishga aytiladi.

Akslantirishlar superpozitsiyasi kompozitsiya yoki funktsional ko'paytma yoki murakkab funktsiya deb ham ataladi $g \circ f(x)$.

Teorema 1. $F: A \rightarrow B$ biyektiv akslantirish bo'lsin. U holda:

- 1) F^{-1} ham biyektiv akslantirish bo'ldi;
- 2) $F \circ F^{-1} = I_B$;
- 3) $F^{-1} \circ F = I_A$;
- 4) $I_B \circ F = F$;
- 5) $F \circ I_A = F$;
- 6) $(F^{-1})^{-1} = F$.

Isboti: 1). F^{-1} ham biyektiv akslantirish bo'lishini ko'rsatamiz. Aytaylik, $F^{-1}(y_1) = F^{-1}(y_2) = x$, u holda $F(x) = y_1$ va $F(x) = y_2$, lekin ta'rifga ko'ra akslantirish in'yektiv bo'lishi kerak, shuning uchun $y_1 = y_2$.

Endi sur'yektivligini isbotlaymiz. Faraz qilaylik, $x \in A$ va $F(x) = y$, u holda teskari funksiya ta'rifiga ko'ra $F^{-1}(y) = x$, ya'ni A to'plamdan olingan ixtiyoriy elementning preobrazi mavjud F^{-1} .

2). Ixtiyoriy $y \in B$ elementni olaylik va $F^{-1}(y) = x$ bo'lsin, u holda $F(x) = y$, ya'ni $F(F^{-1}(y)) = y$, bundan ixtiyoriy $y \in B$ uchun $F(F^{-1}(y)) = I_B(y)$, demak, $F \circ F^{-1} = I_B$.

3). 2) - kabi isbotlanadi.

4). $x \in A$ va $F(x) = y \in B$ bo'lsin, u holda $I_B(y) = y$ yoki ixtiyoriy $x \in A$ element uchun $I_B(F(x)) = F(x)$, demak, $I_B \circ F = F$.

5). 4) - kabi isbotlanadi.

6). $D(F) = A$, $V(F) = B$. Bundan $D(F^{-1}) = B$, $V(F^{-1}) = A$. Shuningdek, $D((F^{-1})^{-1}) = A$, $V((F^{-1})^{-1}) = B$, ya'ni $D((F^{-1})^{-1}) = D(F)$, $V((F^{-1})^{-1}) = V(F)$. $x \in A$ element va $F(x) = y$ berilgan bo'lsin, u holda $F^{-1}(y) = x$ va yana teskari

akslantirish ta'rifidan foydalanib, $(F^{-1})^{-1}(x) = y$ ni hosil qilamiz, bu degani ixtiyoriy $x \in A$ uchun $(F^{-1})^{-1}(x) = F(x)$, shuning uchun $(F^{-1})^{-1} = F$.

Teorema isbotlandi.

Teorema 2. f va g akslantirishlar uchun quyidagi shartlar o'rinli:

- 1) Agar $f: A \rightarrow B$, $g: B \rightarrow C$ bo'lsa, u holda $g \circ f: A \rightarrow C$
- 2) Agar $f: A \rightarrow B$ bo'lsa, u holda $id_B \circ f = f$, $f \circ id_A = f$.
- 3) Agar $f: A \xrightarrow{m} B$, $g: B \xrightarrow{n} C$ bo'lsa, u holda $f \circ g: A \xrightarrow{m \circ n} C$.
- 4) Agar f va g lar in'yektiv akslantirish bo'lsa, u holda $f \circ g$ ham in'yektiv akslantirish bo'ladi.
- 5) Agar $f: A \leftrightarrow B$, $g: B \leftrightarrow C$ bo'lsa, u holda $f \circ g: A \leftrightarrow C$ bo'ladi.

Teorema 3. Agar $f: A \rightarrow B$, $g: B \rightarrow C$, $h: C \rightarrow D$ akslantirishlar uchun $h \circ (g \circ f) = (h \circ g) \circ f$ munosabat o'rinli (superpozitsiyaning assotsiativligi).

Isboti: Ko'rish mumkinki, akslantirishlar kompozitsiyasi binar munosabatlar kompozitsiyasining xususiy holidan iborat. Binar munosabatlar uchun assotsiativlik qonuni bajarilganligi uchun, akslantirishlar kompozitsiyasi uchun ham bajariladi.

Misol 1. Ikkita $f: \mathbb{R} \rightarrow \mathbb{R}$, $f(x) = x^2$ va $g: \mathbb{R} \rightarrow \mathbb{R}$, $g(x) = 4x + 3$ funktsiyalar uchun $f \circ g$, $g \circ f$, $f \circ f$, $g \circ g$ kompozitsiyalarni toping.

Yechilishi: $(f \circ g)(x) = f(g(x)) = f(4x + 3) = (4x + 3)^2 = 16x^2 + 24x + 9;$

$$(g \circ f)(x) = g(f(x)) = g(x^2) = 4x^2;$$

$$(f \circ f)(x) = f(f(x)) = f(x^2) = x^4;$$

$$(g \circ g)(x) = g(g(x)) = g(4x + 3) = 4(4x + 3) + 3 = 16x + 15$$

Agar f akslantirish va $X \subset D_f(f)$ bo'lsa, u holda $\{f(x) : x \in X\}$ to'plam X to'plamning f akslantirishi natijasida tasviri deyiladi va $f(X)$ kabi belgilanadi. A ni B ga akslantiruvchi barcha funktsiyalar to'plami B^A bilan belgilanadi. $B^A = \{f : f : A \rightarrow B\}$.

Ta'rif 2. $f : A^n \rightarrow B$ funktsiya A dan B ga n -o'rinli funktsiya deyiladi, agar y qiymat n o'rinli f funktsiyaning (x_1, x_2, \dots, x_n) argument qiymatidagi qiymati bo'lsa, va u $y = f(x_1, x_2, \dots, x_n)$ kabi yoziladi.

Ta'rif 3. $f : A^n \rightarrow A$ funktsiya A to'plamda n -o'rinli algebraik amal deyiladi.

$n=1$ bo'lganda, f funktsiyaga unar amal, $n=2$ bo'lganda esa f funktsiyaga binar amal deyiladi. $n=0$ bo'lganda $f : A^0 \rightarrow A$ amal $\{(\emptyset, a)\}$ biror bir $a \in A$ uchun bo'ladi. Ko'p hollarda A to'plamda 0 o'rinli amal $\{(\emptyset, a)\}$ ni A to'plamdagi konstanta deb ataladi va a element bilan ifodalanaadi.

Misol 2. 1) Haqiqiy sonlarni qo'shish amali 2 o'rinli, ya'ni binar amal $+: \mathbb{R}^2 \rightarrow \mathbb{R}$ bo'ladi, chunki qo'shish amali bir juft (a, b) songa $a+b$ sonni mos qo'yadi.

2) \mathbb{R} to'plamning ixtiyoriy ajratib ko'rsatilgan elementini, masalan $\sqrt{2}$ ni 0 o'rinli amal deyish mumkin, ya'ni \mathbb{R} da konstantadir.

Ta'rif 4. $\{0, 1\}$ qiymatlardan ixtiyoriy birini qabul qiladigan funktsiyaga binar funktsiya deyiladi.

Ta'rif 5. a) $F_1: A_1 \rightarrow B, F_2: A_2 \rightarrow B$ akslantirishlar berilgan bo'lsin. F_1 va F_2 akslantirishlar kelishilgan deyiladi, agarda ixtiyoriy $x \in D(F_1) \cap D(F_2)$ uchun $F_1(x) = F_2(x)$ tenglik bajarilsa.

6) $F_i: A_i \rightarrow B$ ($i \in I$) akslantirishlar oilasi berilgan bo'lsin. F_i ($i \in I$) akslantirishlar oilasi kelishilgan deyiladi, agarda F_i akslantirishlar o'zaro kelishilgan bo'lsa, ya'ni ixtiyoriy $i, j \in I$ va $x \in D(F_i) \cap D(F_j)$ lar uchun $F_i(x) = F_j(x)$ tenglik bajarilsa.

Agar akslantirishlarning $D(F_i)$ aniqlanish sohalari o'zaro kesishmasa, u holda

F_i ($i \in I$) akslantirishlar oilasi kelishilgan bo'ladi.

Nazorat uchun savollar:

1. Funktsiya kompozitsiyasi va uning xossalari ni keltirib.
2. n -o'rinli funktsiya va n -o'rinli algebraik amal tushunchalari farqini ayting.
3. Kelishilgan akslantirish deb nimaga aytiladi?
4. Kelishilgan akslantirishlar oilasi deb nimaga aytiladi?
5. $f: A \rightarrow B$, $g: B \rightarrow C$, $h: C \rightarrow D$ akslantirishlar uchun $h \circ (g \circ f) = (h \circ g) \circ f$ superpozitsiya amalining assotsiativligini isbotlang.

Muqabil yechish uchun masalalar:

Quyida keltirilgan $f, g: \mathbb{R} \rightarrow \mathbb{R}$ funksiyalar uchun $f \circ g$, $g \circ f$, $f \circ f$, $g \circ g$ kompozitsiyalar aniqlansin.

1. $f(x) = x^2 - 2$ va $g(x) = 2x^3 + 5x + 1$

2. $f(x) = x^3$ va $g(x) = \begin{cases} 1 + 2x, & \text{agar } x \geq 0 \text{ bo'lsa,} \\ -x, & \text{agar } x < 0 \text{ bo'lsa.} \end{cases}$

$$3. f(x) = \begin{cases} 1+x, & \text{agar } x \geq 0 \text{ bo'lsa,} \\ 1-x & \text{agar } x < 0 \text{ bo'lsa.} \end{cases} \quad \text{va} \quad g(x) = \begin{cases} 1+x & \text{agar } x \geq 1 \text{ bo'lsa,} \\ 2x-2 & \text{agar } x < 1 \text{ bo'lsa.} \end{cases}$$

$$4. f(x) = \begin{cases} x^2, & \text{agar } x \geq 1 \text{ bo'lsa,} \\ x & \text{agar } x < 1 \text{ bo'lsa.} \end{cases} \quad \text{va} \quad g(x) = \begin{cases} x+1 & \text{agar } x < 2 \text{ bo'lsa,} \\ 4-x & \text{agar } x \geq 2 \text{ bo'lsa.} \end{cases}$$

$$5. f(x) = \begin{cases} x^2, & \text{agar } x \leq 1 \text{ bo'lsa,} \\ e^{-x+1} & \text{agar } x > 1 \text{ bo'lsa.} \end{cases} \quad \text{va} \quad g(x) = \begin{cases} \cos x & \text{agar } x < 0 \text{ bo'lsa,} \\ 2x+1 & \text{agar } x \geq 0 \text{ bo'lsa.} \end{cases}$$

$$6. f(x) = \begin{cases} \sin x, & \text{agar } x \leq 0 \text{ bo'lsa,} \\ -x & \text{agar } x > 0 \text{ bo'lsa.} \end{cases} \quad \text{va} \quad g(x) = \begin{cases} -x-1 & \text{agar } x < -1 \text{ bo'lsa,} \\ -x^2+1 & \text{agar } x \geq -1 \text{ bo'lsa.} \end{cases}$$

$$7. f(x) = \begin{cases} x^3, & \text{agar } x \leq 1 \text{ bo'lsa,} \\ -x+2 & \text{agar } x > 1 \text{ bo'lsa.} \end{cases} \quad \text{va} \quad g(x) = \begin{cases} -x^2 & \text{agar } x < -1 \text{ bo'lsa,} \\ \sin x & \text{agar } x \geq -1 \text{ bo'lsa.} \end{cases}$$

$$8. f(x) = \begin{cases} 3x+1, & \text{agar } x \leq 0 \text{ bo'lsa,} \\ x^2+1 & \text{agar } x > 0 \text{ bo'lsa.} \end{cases} \quad \text{va} \quad g(x) = \begin{cases} |x| & \text{agar } x < 1 \text{ bo'lsa,} \\ -(x-1)^2+1 & \text{agar } x \geq 1 \text{ bo'lsa.} \end{cases}$$

$$9. f(x) = \begin{cases} x+1, & \text{agar } x \leq 0 \text{ bo'lsa,} \\ -x+1 & \text{agar } x > 0 \text{ bo'lsa.} \end{cases} \quad \text{va} \quad g(x) = \begin{cases} -x-2 & \text{agar } x < -2 \text{ bo'lsa,} \\ x+2 & \text{agar } x \geq -2 \text{ bo'lsa.} \end{cases}$$

$$10. f(x) = \begin{cases} \cos x, & \text{agar } x \leq 0 \text{ bo'lsa,} \\ -x^2+1 & \text{agar } x > 0 \text{ bo'lsa.} \end{cases} \quad \text{va} \quad g(x) = \begin{cases} \sin x & \text{agar } x < \frac{\pi}{2} \text{ bo'lsa,} \\ -x+\pi & \text{agar } x \geq \frac{\pi}{2} \text{ bo'lsa.} \end{cases}$$

$$11. f(x) = \begin{cases} 1+x, & \text{agar } x \geq 0 \text{ bo'lsa,} \\ 1-x & \text{agar } x < 0 \text{ bo'lsa.} \end{cases} \quad g(x) = \begin{cases} |x| & \text{agar } x < 2 \text{ bo'lsa,} \\ 4-x & \text{agar } x \geq 2 \text{ bo'lsa.} \end{cases}$$

$$12. f(x) = \begin{cases} x^2, & \text{agar } x \geq 1 \text{ bo'lsa,} \\ x & \text{agar } x < 1 \text{ bo'lsa.} \end{cases} \quad g(x) = \begin{cases} \cos x & \text{agar } x < 0 \text{ bo'lsa,} \\ 2x + 1 & \text{agar } x \geq 0 \text{ bo'lsa.} \end{cases}$$

$$13. f(x) = \begin{cases} x^2, & \text{agar } x \leq 1 \text{ bo'lsa,} \\ e^{-x+1} & \text{agar } x > 1 \text{ bo'lsa.} \end{cases} \quad g(x) = \begin{cases} -x - 1 & \text{agar } x < -1 \text{ bo'lsa,} \\ -x^2 + 1 & \text{agar } x \geq -1 \text{ bo'lsa.} \end{cases}$$

$$14. f(x) = \begin{cases} \sin x, & \text{agar } x \leq 0 \text{ bo'lsa,} \\ -x & \text{agar } x > 0 \text{ bo'lsa.} \end{cases} \quad g(x) = \begin{cases} -x^2 & \text{agar } x < -1 \text{ bo'lsa,} \\ \sin x & \text{agar } x \geq -1 \text{ bo'lsa.} \end{cases}$$

$$15. f(x) = \begin{cases} x^3, & \text{agar } x \leq 1 \text{ bo'lsa,} \\ -x + 2 & \text{agar } x > 1 \text{ bo'lsa.} \end{cases} \quad g(x) = \begin{cases} -x - 2 & \text{agar } x < -2 \text{ bo'lsa,} \\ x + 2 & \text{agar } x \geq -2 \text{ bo'lsa.} \end{cases}$$

$$16. f(x) = \begin{cases} 3x + 1, & \text{agar } x \leq 0 \text{ bo'lsa,} \\ x^2 + 1 & \text{agar } x > 0 \text{ bo'lsa.} \end{cases} \quad g(x) = \begin{cases} -x^2 & \text{agar } x < -1 \text{ bo'lsa,} \\ \sin x & \text{agar } x \geq -1 \text{ bo'lsa.} \end{cases}$$

1.3.3. Dirixle printsipi

$f: A \rightarrow B$ funktsiya A chekli to'plamni B chekli to'plamga akslantirsin.

Deylik, A to'plam n ta elementdan iborat bo'lsin: $A = \{a_1, a_2, \dots, a_n\}$.

Dirixle printsipi: Agar $|A| > |B|$ bo'lsa, u holda hech bo'lmaganda f ning bitta qiymati bir marotadan ortiq uchraydi, ya'ni $a_i \neq a_j$ elementlar juftligi topiladiki, ular uchun $f(a_i) = f(a_j)$ bo'ladi.

Oddiy qilib aytadi gan bo'lsak, Dirixle printsipining ma'nosi: 10 ta quyoni 9 katakka har bir katakda bittadan quyon o'tiradigan qilib joylash mumkin emas.

Misol 1. Avtobusda 15 nafar yo'lovchi ketyapti. Ulardan hech bo'lmaganda 2 tasining tug'ilgan kuni bir xil oyda bo'lishi mumkinligini ko'rsating.

Yechilishi: Avtobusdagi odamlar to'plamini A , 12 ta oy nomlarini esa B deb belgilaymiz. $f: A \rightarrow B$ funktsiya avtobusdagi har bir kishiga uning tug'ilgan oyini mos qo'ysin. $|A|=15$, $|B|=12$ demak, $|A| > |B|$. Dirixle printsipiga ko'ra, f funktsiya takrorlanuvchi qiymatga ega. Bundan esa, hech bo'lmaganda 2 ta kishining tug'ilgan kuni bir xil oyda bo'lishi kelib chiqadi.

Misol 2. Agar hech bo'lmaganda 2 ta kishining familiyasi bir xil harfda boshlanib, bir xil harf bilan tugaydigan bo'lsa, telefon ma'lumotnomasiga yozilgan familiyalarning minimal soni qanday bo'ladi?

Yechilishi: A - ma'lumotnomadagi familiyalar to'plami,

B - o'zbek alifbosi 26 ta harfdan olingan harflar juftligi to'plami. $f: A \rightarrow B$ bir xil familiyalarning birinchi va oxirgi harflarini mos qo'yuvchi funktsiya. Masalan, $f(\text{Abdullayev}) = (a, v)$.

B to'plam $26 \cdot 26 = 676$ juft harfdan iborat. Dirixle printsipiga ko'ra, agar $|A| > |B| = 676$ bo'lsa, familiyasi bir xil harfda boshlanib, bir xil harf bilan tugaydigan hech bo'lmaganda 2 ta kishi topiladi. Shuning uchun telefon ma'lumotnomasi 676 tadan kam bo'lmagan familiyadan tuzilgan bo'lishi kerak.

1.3.4. To'plamlarning quvvati va kardinal sonlar.

Har qanday A to'plam uchun uning barcha qism to'plamlari to'plami $P(A) = 2^A$ mavjud bo'lib, ushbu to'plamlar oilasini tahlil qilish juda muhim ahamiyatga ega.

Teorema 1. n ta elementdan iborat $X = \{x_1, x_2, \dots, x_n\}$ to'plamning barcha qism to'plamlari to'plami X to'plamda aniqlangan, soni 2^n ta bo'lgan binar funktsiyalar to'plamiga biyektiv bo'ladi.

Teorema 2. Ixtiyoriy bo'sh bo'lmagan A to'plamning barcha qism to'plamlardan iborat to'plam quvvati A to'plam quvvatidan katta bo'ladi.

Isboti: Ushbu teorema A bo'sh to'plam bo'lgan holda ham o'rinli. $A = \emptyset$ bo'sh to'plamning barcha qism to'plamlari $\{\emptyset\}$ ko'rinishda bo'ladi, ya'ni quvvati 1 ga teng, shuning bilan birga $|\emptyset| = 0$.

N natural sonlar to'plamining $M = \{0, 1\}$ to'plamiga barcha akslantirishlar to'plamini qaraylik. Bu turdagi har qanday akslantirish har bir natural soniga 0 yoki 1 ni mos qo'yadi va bu moslik cheksiz ketma-ketlikni hosil qiladi: $i_1, i_2, \dots, i_n, \dots$, bunda $i_n = 0$ yoki 1 bo'ladi, ya'ni cheksiz o'nli kasmi ifodalaydi: $0, i_1, i_2, \dots, i_n, \dots$. Shunday qilib, barcha cheksiz kasrlar to'plami N natural sonlar to'plamining barcha qism to'plamlari quvvatiga teng bo'ladi. N natural sonlar to'plami quvvatini $|N| = \alpha_0$ deb olsak, u holda barcha cheksiz kasrlar to'plamining quvvati 2^{α_0} ga teng bo'ladi.

Ta'rif 1. Agar A to'plamning quvvati N natural sonlar to'plami quvvatidan katta bo'lsa, u holda A to'plam sanoqsiz to'plam deyiladi.

Har bir qism to'plam Z ga $\langle y_1, y_2, \dots, y_n \rangle$ binar funktsiyani biyektiv mos qo'yamiz, y_i elementlar quyidagicha aniqlanadi:

$$y_i = \begin{cases} 1, & \text{agar } x_i \in Z \text{ bo'lsa} \\ 0, & \text{agar } x_i \notin Z \text{ bo'lsa} \end{cases}$$

Natijada quyidagicha 2^3 ta binar funktsiyalar to'plamiga ega bo'lamiz:

$$000, 100, 010, 001, 110, 101, 011, 111.$$

Misol. $A = \{1, 2, 3\}$ to'plamning qism to'plamlari to'plami

$$2^A = \{\{\emptyset\}, \{1\}, \{2\}, \{3\}, \{1, 2\}, \{1, 3\}, \{2, 3\}, \{1, 2, 3\}\}.$$

Teorema 2. Ixtiyoriy bo'sh bo'lmagan A to'plamning barcha qism to'plamlaridan iborat to'plam quvvati A to'plam quvvatidan katta bo'ladi.

Isboti: Ushbu teorema A bo'sh to'plam bo'lgan holda ham o'rinli. $A = \emptyset$ bo'sh to'plamning barcha qism to'plamlari $\{\emptyset\}$ ko'rinishda bo'ladi, ya'ni quvvati 1 ga teng, shuning bilan birga $|\emptyset| = 0$.

N natural sonlar to'plamining $M = \{0;1\}$ to'plamiga barcha akslantirishlar to'plamini qaraylik. Bu turdagi har qanday akslantirish har bir natural soniga 0 yoki 1 ni mos qo'yadi va bu moslik cheksiz ketma-ketlikni hosil qiladi: $i_1, i_2, \dots, i_n, \dots$, bunda $i_n = 0$ yoki 1 bo'ladi, ya'ni cheksiz o'nli kasrni ifodalaydi: $0, i_1, i_2, \dots, i_n, \dots$. Shunday qilib, barcha cheksiz kasrlar to'plamni N natural sonlar to'plamining barcha qism to'plamlari quvvatiga teng bo'ladi. N natural sonlar to'plami quvvatini $|N| = \alpha_0$ deb olsak, u holda barcha cheksiz kasrlar to'plamining quvvati 2^{α_0} ga teng bo'ladi.

Ta'rif 1. Agar A to'plamning quvvati N natural sonlar to'plami quvvatidan katta bo'lsa, u holda A to'plam sanoqsiz to'plam deyiladi.

Har bir qism to'plam Z ga $\langle y_1, y_2, \dots, y_n \rangle$ binar funktsiyani biyektiv mos qo'yamiz, y elementlar quyidagicha aniqlanadi:

$$y_i = \begin{cases} 1, & \text{agar } x_i \in Z \text{ bo'lsa} \\ 0, & \text{agar } x_i \notin Z \text{ bo'lsa} \end{cases}$$

Natijada quyidagicha 2^3 ta binar funktsiyalar to'plamiga ega bo'lamiz:

$$000, 100, 010, 001, 110, 101, 011, 111.$$

Misol. $A = \{1, 2, 3\}$ to'plamning qism to'plamlari to'plami

$$2^A = \{\{\emptyset\}, \{1\}, \{2\}, \{3\}, \{1, 2\}, \{1, 3\}, \{2, 3\}, \{1, 2, 3\}\}.$$

Cheksiz to'plamlar (masalan to'g'ri chiziq, tekislik, ...)ni soniga ko'ra taqqoslashda, ularning elementlari soni cheksiz bo'lganligi sababli bu to'plamlar tarkibining yanada aniqroq baholari zarur bo'ladi. Ma'lum baholar to'plamlarning quvvati va ekvivalentligi tushunchalariga asoslanadi.

Ta'rif 2. A chekli yoki cheksiz to'plamlar oilasidan olingan X va Y to'plamlar uchun $f: X \rightarrow Y$ biyektisiya mavjud bo'lsa, u holda X va Y to'plamlar ekvivalent deyiladi.

Ekvivalentlik munosabati refleksiv, simmetrik va tranzitivlik xossalariga ega bo'lganligi uchun ham biyektiv munosabat A to'plamlar oilasini ekvivalent elementlar sinfiga ajratadi.

Teorema 3. Agar f funksiya chekli X to'plamni Y to'plamga o'zaro bir qiymatli akslantirish bo'lsa, u holda $|X| = n$ va $|Y| = n$ shartlar ekvivalent bo'ladi.

Shunday qilib, quvvat turli chekli ekvivalent to'plamlar uchun umumiy mezon hisoblanadi.

Elementlari soni cheksiz bo'lgan ekvivalent to'plamlar uchun ham bu printsip o'rinli. Cheksiz to'plamlar uchun quvvat tushunchasini aniqlash maqsadida kardinal son tushunchasini kiritamiz.

Ta'rif 3. Cheksiz to'plam elementlari sonini aniqlaydigan simvolni kardinal son deyiladi.

Natural qatorning kardinal soni α_0 simvol bilan belgilanadi va alfa nol deb o'qiladi.

Ixtiyoriy chekli X to'plam uchun $|X| = n$ o'rinli bo'lsin. U holda, tabiiyki $n < \alpha_0$ taqqoslash o'rinli. Natural qator barcha to'plam ostilar to'plami kardinal sonini α bilan belgilanadi va 1- teoremaga ko'ra $\alpha = 2^{\alpha_0}$.

$\alpha = \alpha_0$ mi yoki $\alpha > \alpha_0$ bo'ladimi?

Aytaylik, $\alpha > \alpha_0$ bo'lsin. U holda natural sonlar to'plami quvvati uning to'plam ostilari to'plami quvvatidan ki chik bo'lishi kelib chiqadi.

Bundan quyidagi imkoniyatlarga ega bo'lamiz.

1. X dan $P(X)$ ga o'tib yanada quvvatliroq to'plamlarni qurish;
2. Quvvatlar shkalasini (cheksiz to'plamlar uchun ham) tuzib chiqish.

Nazorat uchun savollar:

1. Cheksizlik aksiomasini keltiring.
2. To'planning quvvati deganda nimani tushunasiz?
3. Ekvivalent to'plam tushunchasini ta'riflang.
4. Kardinal son deb nimaga aytiladi?

1.3.5. Sanoqli va kontinual to'plamlar.

Tasdiq 1. Musbat juft sonlar to'plarining quvvati α_0 ga teng.

Isboti: $\{2, 4, 6, \dots\}$ bilan natural sonlar to'plami quvvatlarini taqqoslash uchun juft sonlar to'plarining elementlarini quyidagicha nomerlab chiqamiz:

$$\begin{array}{cccc} 2, & 4, & 6, & 8, \dots \\ \downarrow & \downarrow & \downarrow & \downarrow \\ 1, & 2, & 3, & 4, \dots \end{array}$$

Bu usul bilan $k = 2n$ biyektsiyani o'rnatdik, bu erda n -- natural son. Demak, musbat juft sonlar to'plami natural sonlar to'plarining qismi bo'lsa-da, ularning quvvatlari teng ekan.

Tasdiq 2. Natural sonlar to'plamining quvvati α_0 ga teng.

Isboti: Natural va butun sonlar to'plamlari o'rtasida biyektsiya qurilgan deb ko'ramiz. Buning uchun butun sonlar qatorini quyidagicha yozib chiqarib va mos ravishda natural sonlar bilan nomerlaymiz:

$$\begin{array}{ccccccccc} 0, & -1, & 1, & -2, & 2, & \dots & & & & \\ \downarrow & \downarrow & \downarrow & \downarrow & \downarrow & & & & & \\ 1, & 2, & 3, & 4, & 5, & \dots & & & & \end{array}$$

Shunday qilib, butun va natural sonlar o'rtasida ekvivalentlik munosirasi o'rnatildi, ya'ni $|Z| = \alpha_0$.

Tasdiq 3. Ratsional sonlar to'plamining quvvati α_0 ga teng.

Isboti: Bilamizki ixtiyoriy q ratsional sonni qisqarmaydigan kasr ko'rinishida ifodalash mumkin: $q = \frac{m}{n}$, bu erda m va n lar butun sonlar. Ratsional sonning balandligi deb, $|m|+n$ yig'indiga aytiladi. Masalan, 1 balandlikka faqat $\frac{0}{1}$ soni ega bo'ladi, 2 balandlikka $\frac{1}{1}$ va $-\frac{1}{1}$ sonlar, 3 balandlikka $\frac{2}{1}$, $\frac{1}{2}$, $-\frac{2}{1}$, $-\frac{1}{2}$ sonlar ega bo'ladi. Tushunarliki, berilgan balandlikdagi sonlar soni chekli bo'ladi. Shuning uchun ham barcha ratsional sonlarni balandliklari oshishiga qarab raqamlab chiqish mumkinki, bunda hatto bir xil balandlikka ega bo'lgan sonlar ham o'z raqamlariga ega bo'lishadi. Natijada natural va ratsional sonlar o'rtasida biyektsiya o'rnatiladi.

Ma'lumki, to'plam sanoqli bo'lishi uchun u natural sonlar qatoriga biyektsiya mos qo'yilgan bo'lishi kerak.

Sanoqli to'plamlarning muhim xossalari keltiramiz.

1-xossa. Sanoqli to'plamning har qanday qism to'plami yo chekli, yoki sanoqli bo'ladi.

2-xossa. Chekli yoki sanoqlita sanoqli to'plamlarning yig'indisi yana sanoqli bo'ladi.

Aytaylik A_1, A_2, \dots – sanoqli to'plamlar bo'lsin. A_1, A_2, \dots to'plamlarning barcha elementlarini quyidagicha cheksiz jadval ko'rin ishida yozish mumkin:

$$\begin{array}{cccc} a_{11} & a_{12} & a_{13} & a_{14} \dots \\ a_{21} & a_{22} & a_{23} & a_{24} \dots \\ a_{31} & a_{32} & a_{33} & a_{34} \dots \\ a_{41} & a_{42} & a_{43} & a_{44} \dots \\ \dots & \dots & \dots & \dots \end{array}$$

i -qatorda A_i to'plamning barcha elementlari joylashgan. Ushbu elementlarni diagonal bo'yicha raqamlab chiqamiz:

$$\begin{array}{cccc} a_{11} & \rightarrow & a_{12} & \rightarrow & a_{13} & \rightarrow & a_{14} & \dots \\ & \swarrow & & \nearrow & & \swarrow & & \\ a_{21} & & a_{22} & & a_{23} & & a_{24} & \dots \\ \downarrow & \nearrow & & \swarrow & & & & \\ a_{31} & & a_{32} & & a_{33} & & a_{34} & \dots \\ & \swarrow & & \nearrow & & & & \\ a_{41} & & a_{42} & & a_{43} & & a_{44} & \dots \\ \downarrow & & & & & & & \\ \dots & & \dots & & \dots & & \dots & \dots \end{array}$$

Shu bilan birga bir nechta to'plamlarga tegishli bo'lgan elementlarni faqat bir marta belgilaymiz. Shunda yigindidagi har bir element o'zining raqamiga ega

bo'lad i va natural sonlar qatori bilan chekli yoki sanoqlita to'plamlar yig'indisi o'rtasida o'zaro bir qiymatli moslik o'rnatiladi.

3-xossa. Har qanday cheksiz to'plam sanoqlita elementga ega bo'lgan qism to'plamga ega.

Teorema 1. $[0; 1]$ kesmadagi haqiqiy sonlar to'plami cheksizdir.

Isboti: Faraz qilaylik, $[0; 1]$ kesmadagi haqiqiy sonlar sanoqli bo'lsin. U holda bu sonlarni quyidagicha ifodalash mumkin:

$$\alpha_1 = 0, \alpha_{11}\alpha_{12}\alpha_{13}\dots\alpha_{1n}\dots$$

$$\alpha_2 = 0, \alpha_{21}\alpha_{22}\alpha_{23}\dots\alpha_{2n}\dots$$

.....

$$\alpha_n = 0, \alpha_{n1}\alpha_{n2}\alpha_{n3}\dots\alpha_{nm}\dots$$

.....

$b = 0, \beta_1\beta_2\beta_3\dots\beta_n\dots$ haqiqiy sonni quyidagicha qoida bo'yicha quramiz.

Birinchi nol va vergul qo'yamiz. Keyin β_i larni quyidagicha tanlaymiz.

$$\beta_i = \begin{cases} 2 & \text{agar } \alpha_n = 1 \text{ bolsa,} \\ 1 & \text{agar } \alpha_n \neq 1 \text{ bolsa.} \end{cases}$$

Shu printsipda barcha sonlarni ko'rib chiqamiz. Natijada biror bir α songa teng bo'lmagan b son hosil bo'ladi. Ushbu son birinchi sondan hech bo'lmaganda verguldan keyingi birinchi soni bilan, ikkinchi sondan hech bo'lmaganda verguldan keyingi ikkinchi son bilan farq qiladi va hokazo. Shunday qilib $[0; 1]$ oraliqdagi sonlar to'plami sanoqli degan taxminimiz noto'g'ri, chunki $[0; 1]$ oraliqda shunday son topiladiki, biz sanoqli deb sanab chiqqan sonlar ichida u yo'q. Demak $[0; 1]$ oraliqdagi sonlar to'plami sanoqsiz.

Teorema isbotlandi.

Ta'rif. $[0; 1]$ kesmadagi nuqtalar to'plami quvvati kontinuum deyiladi va C kabi belgilanadi. $[0, +\infty)$ oraliq quvvati ham C ga teng, chunki $-\ln[0, 1] = [0, +\infty)$ biyeksiya o'rinli. Aynan shu funksiya orqali $[0, +\infty)$ va $(-\infty, +\infty)$ oraliqlar o'rtasida biyeksiya o'rnatish mumkin. Demak $[0, 1]$, $[0, +\infty)$, $(-\infty, +\infty)$ oraliqlar ekvivalent.

$[0; 1] \times [0; 1]$ kvadrat quvvati kontinuumga teng.

isboti. Haqiqatdan, $A(x, y)$ nuqta $[0; 1] \times [0; 1]$ kvadratga tegishli bo'lsin. x va y larni $[0; 1]$ dagi ko'rsatishda yozib olamiz:

$x = 0, x_1 x_2 \dots$; $y = 0, y_1 y_2 \dots$ va har b \bar{a} r $A(x, y)$ nuqtaga $a = 0, x_1 y_1 x_2 y_2 \dots$ haqiqiy mos qo'ya'miz. Tushunarliki, kvadratning turli xil nuqtalariga turli xil haqiqiy mos keladi. Teskari moslik ham o'rinli ekanligini Kantor isbotlagan.

Uning ushbu g'oyasi kubdagi va ixtiyoriy n -o'lchovli jismdagi nuqtalar to'plamidagi sanoqsizligi isbotiga kalit beradi.

Teorema 2. Natural sonlar qatorining barcha qism to'plamlari to'plamining quvvati kontinuumga teng.

ol. $[1, 5]$ kesma quvvatini aniqlash uchun $[1; 5]$ kesma bilan $[0; 1]$ kesma o'rtasida o'zaro bir qiymatli moslik o'rnatamiz. $f(x) = \frac{x}{4} - \frac{1}{4}$ funksiya $[1; 5]$ oraliqni $[0; 1]$ oraliqqa akslantiruvchi biyektiv funksiya bo'ladi. Shunday qilib, $[1; 5]$ kesmaning tartibi $[0; 1]$ kesma tartibiga teng, $[0; 1]$ kesmaning quvvati esa kontinuumga teng. $|[1; 5]| = |[0; 1]| = c$.

Teorema 3. Haqiqiy sonlar to'plam sanoqsiz va quvvati 2^{\aleph_0} kontinuumga teng.

Nazorat uchun savollar

1. Sanoqli va kontinual to'plamlarni tushuntiring
2. Sanoqli to'plamlarning xossalari haqida qaysi xossalarni keltiring.
3. Natural sonlar to'plamining quvvati qanchaga teng?
4. Ratsional sonlar to'plamining quvvati qanchaga teng?
5. Ratsional sonlar to'plamining quvvati α_0 ga tengligini isbotlang.

Mustaqil yechish uchun masalalar

Sanoqsiz to'plamlar quvvatini toping:

1. $(+4, +\infty)$ oraliq quvvati aniqlansin.
2. $(+2, +\infty)$ oraliq quvvati aniqlansin.
3. $(+5, +\infty)$ oraliq quvvati aniqlansin.
4. $(+3, +\infty)$ oraliq quvvati aniqlansin.
5. $(-\infty, -4]$ oraliq quvvati aniqlansin.

1.4. TO'PLAMLAR NAZARIYASINING AKSIOMATIK TIZIMI

To'plamlar nazariyasi barcha matematik bilimlar tizimining baquvvat po'devori bo'lib xizmat qiladi. Har bir tadqiqot ob'yektini biror to'plam sifatida tasavvur qilish mumkin. Biroq to'plamlar universumini erkin holda, hech bir shartlarsiz qo'llash ba'zan ziddiyatga olib kelishi mumkin. Ziddiyatlar matematika paradoks deb yuritiladi. To'plamlarga bog'liq bo'lgan 2 ta paradoksni keltiramiz. Bular ingliz matematigi Bertran Artur Uil'yam Rassel (1872 – 1970 yy) va Kantor paradokslari.

Rassel paradoksi. R barcha to'plamlar to'plami bo'lsin va bu to'plamlar o'z-o'zining elementlari bo'lmasin, ya'ni $R = \{x | x \notin x\}$. U holda ixtiyoriy x to'plam uchun $x \in R \leftrightarrow x \notin x$. Agar x o'rniga R ni qo'ysak, u holda $R \in R$ bajariladi, faqat va faqat $R \notin R$ da, bu esa ziddiyat.

Kantor paradoksi. $P(A)$ – A to'plamning barcha qism to'plamlari oilasi va $P(A) \subseteq A$, ya'ni $|P(A)| \leq |A|$ bo'lsin. Ammo, boshqa tomondan olib qaraydigan bo'lsak, ixtiyoriy A to'plam uchun $|P(A)| \geq |A|$. U holda Kantor – Bemshteyn teoremasiga ko'ra $|P(A)| = |A|$ bo'lishi kerak. Bu esa ixtiyoriy bo'sh bo'lmagan A to'plamning barcha qism to'plamlari to'plamining quvvati A to'plamni o'zining quvvatidan katta bo'ladi, teoreмага zid.

Ma'lumki, barcha aksiomatik nazariyalarda avvalo asosiy tushunchalar ta'riflanib olinadi va undan keyin bu tushunchalar uchun aksiomalar tuziladi.

To'plamlar nazariyasining asosiy tushunchasi to'plamning o'zidir. To'plam biror ob'yektlarni saralab olish bilan tuziladi, bu ob'ektlar ixtiyoriy tabiatli bo'lishi mumkin. Paradokslarga duch kelmaslik maqsadida to'plamning elementlari tushunchasini birmuncha aniqlashtirish va ba'zi cheklavlarni qo'yish mumkin. Masalan, ob'ektlar majmuasini 2 xil turga ajratish mumkin:

1) sinflar;

2) to'plamlar, ya'ni boshqa bir sinfning elementi bo'lgan sinflarlar.

To'plamlar mantiqiy nuqtay nazardan qadam ba qadam quriladi, masalan, "oldin" munosabati qadamni tartiblaydi. Har bir to'plam ma'lum qadamdan keyin quriladi va keyingina foydalanish mumkin bo'ladi.

Bunday tizim nemis matematigi Ernst Fridrix Ferdinand Sermelo (1871-1953 yy) tomonidan 1908 yilda ishlab chiqildi va isroillik matematik Abraxam Adol'f Frenkel (1891-1965 yy) tomonidan kengaytirildi. Hozirda *Sermelo – Frenkel aksiomatik tizimi* (ZF) deb yuritiladi.

ZF tizimi quyidagi aksiomalardan iborat:

1^o. Hajm aksiomasi: To'plam o'zining elementlari bilan to'liq aniqlanadi. Ikki to'plam teng deyiladi, faqat va faqat ular bir xil elementlardan tashkil topgan bo'lsa: $\forall x(x \in A \leftrightarrow x \in B) \leftrightarrow A = B$.

2^o. Birlashma (yig'indi) aksiomasi: Har qanday A to'planning barcha elementlari birlashmasi yana to'plam bo'ladi, ya'ni ixtiyoriy A to'plam uchun to'plam elementlaridan tuzilgan $\cup A$ to'plam mavjud. Agar $\exists A$, u holda $\exists \cup A = \{a | \text{biror } b \in A \text{ uchun } a \in b\}$.

3^o. Daraja (barcha qism to'plamlar to'plami) aksiomasi: Ixtiyoriy A to'plamning barcha qism to'plamlari jamlanmasi yana to'plam hosil qiladi. $\exists A$, u holda $\exists P(A) = \{B | B \subseteq A\}$.

4^o. O'rniga qo'yish (almashtirish) aksiomasi: A da aniqlangan har bir A to'plam va f funktsiya uchun $x \in A$ bo'lganda $f(x)$ ob'yektlarni saqlovchi to'plam mavjud: $\exists B = \{y | x \in A \text{ va } y = f(x)\}$.

5^o. Regulyarlik aksiomasi: agar A to'plamdagi har bir to'plam minimal elementga ega bo'lsa, u holda A to'plamga regulyar to'plam deyiladi.

Har qanday bo'sh bo'lmagan A to'plam $a \cap A = \emptyset$ bo'lgan $a \in A$ elementga va bu element minimaldir.

Bu aksiomani boshqacha talqin qilish ham mumkin: Cheksiz kamayuvchi to'plamlar ketma-ketligi $a_1 \supseteq a_2 \supseteq \dots$ mavjud emas.

6^o. Cheksizlik aksiomasi: Hech bo'lmaganda bitta cheksiz to'plam natural sonlar qatori mavjud, ya'ni $\exists N = \{0; 1; 2; \dots; n; \dots\}$, bunda $0 \neq \emptyset$, $n+1 = n \cup \{n\}$.

7^o. Ajratish aksiomasi: Ixtiyoriy $a \in A$ da $F(x)$ tasdiq yo rost, yoki yolg'on bo'lgan ixtiyoriy A to'plam va F xossa berilgan bo'lsin. U holda A to'plamning F rost bo'lgan elementlaridan tashkil topgan $\exists B = \{a \in A \text{ va } F(a) = 1\}$ to'plam mavjud.

Aksioma nomlanishi shuni bildiradiki, biz A to'plamning barcha elementlari orasidan $F(x)$ ni qanoatlantiruvchi $a \in A$ elementlarni ajratyapmiz.

Ba'zan ajratish aksiomasi o'miga aksiomalar tizimiga quyidagi ikkita aksioma qo'shiladi:

1. Bo'sh to'plamning mavjudligi aksiomasi $\exists \emptyset$.
2. To'plamlar juftligining mavjudligi aksiomasi: agar $\exists A$ va $\exists B$, u holda $\exists \{A, B\}$.

Ushbu ikkita aksiomani keltirilgan 7 ta aksiomadadan oson keltirib chiqarish mumkin. Masalan. $\emptyset = \{x | x \neq x\}$. Cheksizlik aksiomasiga asosan biror bir A to'plam berilgan bo'lsin. U holda $\forall x(x \neq x \rightarrow x \in A)$ va ajratish aksiomasiga ko'ra $\exists \emptyset = \{x | x \neq x, x \in A\}$.

To'plamlar nazariyasining aksiomalar tizimi to'liq bo'lishi, ya'ni barcha ma'lum matematik mulohazalarni qamrab olishi uchun ZF aksiomalar tizimiga bir-biriga raqib bo'lgan ikkita aksiomadadan birini kiritish zarur. Bular AC (*axiom of choice*) tanlash aksiomasi va AD (*axiom of determinateness*) ixchamlash aksiomasidir. Tanlash aksiomasi qo'shilgan ZF aksiomalar tizimiga ZFC aksiomalar tizimi deyiladi.

Tanlash aksiomasi 1904 yilda Serme tomonidan taklif qilingan.

Aytaylik, har bir $x \in X$ uchun $A_x \neq \emptyset$ to'plam berilgan bo'lsin. A_x to'plamdan qandaydir $y \in A_x$ elementni tanlab, barcha $x \in X$ uchun $f(x) \in A_x$ funktsiyani hosil qilamiz, bunda $f(x) = y$ bo'ladi. Bu tanlash funktsiyasi deyiladi.

Tanlash aksiomasi. Bo'sh bo'lmagan har qanday to'plamlar oilasi A_x uchun tanlash funktsiyasi mavjud, ya'ni $\forall A_x \neq \emptyset \exists f: P(A_x) \rightarrow A_x$, bunda $\forall X \subseteq A_x, X \neq \emptyset$ uchun $f(X) \in X$.

Ixchamlash aksiomasini 1962 yilda Miychelskiy va Gyugo Dionisiy Shteyngauz (1887-1972 yy)lar taklif qilishgan.

Ixchamlash aksiomasi. Har qanday $A \subseteq I$ to'plam ixchamlangan bo'ladi. Bu yerda I to'plam Ber fazosi (natural sonlarning barcha cheksiz ketma-ketliklari to'plami) deyiladi. Rene Lui Ber (1874-1932 yy) frantsiz matematik.

Nazorat uchun savollar:

1. Paradoks nima?
2. Russel paradoksini tushuntiring.
3. Kantor paradoksini ayting.
4. Hajm aksiomasi qanday ta'riflanadi?
5. Birlashma (yig'indi) aksiomasini keltiring.
6. Daraja (barcha qism to'plamlar to'plami) aksiomasi.
7. O'rniga qo'yish (almashtirish) aksiomasini ayting.
8. Regulyarlik aksiomasi qanday ta'riflanadi?
9. Cheksizlik aksiomasini keltiring.
10. Ajratish aksiomasini keltiring.
11. To'plamlar nazariyasining aksiomatik tizimi asoschilarini ayting.

II BOB.
KOMBINATORIKA
KIRISH

Kombinatorika – diskret matematikaning bir bo‘limi bo‘lib, u ehtimollar nazariyasi, matematik mantiq, sonlar nazariyasi, hisoblash texnikasi va kibernetika so‘halarida qo‘llanilgani uchun muhim ahamiyatga ega.

Insoniyat o‘z faoliyati davomida ko‘p marotaba ayrim predmetlarni barcha joylashtirish usullari sonini sanab chiqish yoki biror bir harakatni amalga oshirishdagi barcha mavjud usullarni aniqlash kabi masalalarga duch keladi.

1) 26 kishini kassada navbatga necha xil usulda joylashtirish mumkin?

2) Xokkey bo‘yicha olimpiya birinчилиgida necha xil usulda oltin, kumush va bronza medallarni taqsimlash mumkin.

Bunday tipdagi masalalarga kombinatorika masalalari deyiladi.

2.1. Kombinatorikaning asosiy masalalari.

Kombinatorika masalalari oson degan tushuncha hozirgi kunda eskirdi. Kombinatorika masalalari soni va turi tez sur'atlarda o'smoqda. Ko'pgina amaliy masalalar bevosita yoki bilvosita kombinatorika masalalariga keltirilib yechiladi.

Hozirgi kunda kombinatorika usullaridan foydalanib yechiladigan zamonaviy masalalarga quyidagi 5 turdagi masalalar kiradi:

1. Joylashtirish masalalari – tekislikda predmetlarni joy-joyiga qo'yish;
2. To'ldirish va qamrab olish masalalari – masalan, berilgan fazoviy shakllarni berilgan shakl va o'lchamdagi eng kam sonli jismlar bilan to'ldirish haqidagi masala;
3. Marshrutlar haqidagi masala – mukammal reja masalasi, masalan, eng qisqa yo'lni topish masalasi;
4. Graflar nazariyasining kombinatorik masalalari – tarmoqlarni rejalashtirish masalasi: transport yoki elektr tarmoqlari masalalari, grafni bo'yash haqidagi masala;
5. Ro'yhatga olish masalasi – biror qoidani kuzatish uchun berilgan elementlaraborini tashkil etuvchi predmetlar sonini topish masalari kabi.

Kombinatorika masalalarini yechishda diskret to'plam tadqiq qilinadi, ya'ni bu to'plam alohida ajratilgan elementlardan tashkil topgan deb qaraladi. Ko'p hollarda bu to'plamlar chekli bo'ladi, lekin elementlar soni cheksiz bo'lgan to'plamlar inkor qilinmaydi.

2.2. Gurublash, joylashtirish va o'rin almashtirishlar.

Kombinatorika masalalarini yechish asosiy ikki turga bo'linadi:

- a) qism to'plamlarni tanlashga ko'ra;
- b) elementlar tartibiga ko'ra.

Qism to'plamlarni tanlash usuli tanlanma tushunchasi bilan bog'liq.

Ta'rif 1. n elementli A_n to'plamdan k elementli qism to'plam ajratib olish (n, k) -tanlanma deyiladi, bunda k -tanlanma hajmi deyiladi.

Ajratilgan qism to'planning har bir elementi bilan 1 dan n gacha bo'lgan sonlar o'rtasida bir qiymatli moslik o'rnatilgan bo'lsa, to'plam tartiblangan tanlanma, aksincha tartiblanmagan deyiladi.

Agar to'plam elementlaridan biror bir ro'yxat tuzib, keyin har bir elementga ro'yxatda turgan joy raqami mos qo'yilsa, har qanday chekli to'plamni tartiblash mumkin. Bundan ko'rinadiki, bittadan ortiq elementi bo'lgan to'plamni bir nechta usul bilan tartiblash mumkin. Agar tartiblangan to'plamlar elementlari bilan farq qilsa, yoki ularning tartibi bilan farq qilsa, ular turlicha deb hisoblanadi.

Ta'rif 2. Agar tanlangan qism to'plamda elementlar tartibi ahamiyatsiz bo'lsa, u holda tanlanmalarga (n, k) -guruhlash deyiladi va C_n^k ko'rinishida belgilanadi. C - inglizcha "combination", ya'ni "guruhlash" so'zining bosh harfidan olingan.

Tanlanmalarda elementlar takrorlanishi va takrorlanmasligi mumkin.

Ta'rif 3. Elementlari takrorlanuvchi tartiblanmagan (n, k) -tanlanmaga n elementdan k tadan takrorlanuvchi guruhlash deyiladi va \bar{C}_n^k ko'rinishida belgilanadi.

Ta'rif 4. Elementlari takrorlanuvchi tartiblangan (n, k) -tanlanma n elementdan k tadan takrorlanuvchi joylashtirish deyiladi va \bar{A}_n^k kabi belgilanadi. A inglizcha "arrangement" - "tartibga keltirish" so'zining bosh harfidan olingan.

Ta'rif 5. Agar tartiblangan tanlanmalarda elementlar o'zaro turlicha bo'lsa, u holda takrorlanmaydigan joylashtirish deyiladi va A_n^k kabi belgilanadi.

Ta'rif 6. n tadan n ta tartiblangan tanlanmaga o'rin almashtirish deyiladi va P_n kabi belgilanadi. O'rin almashtirish joylashtirishning xususiy xoli hisoblaradi.

P inglizcha "permutation" – "o'rin almashtirish" so'zining bosh harfidan olingan.

Misol. $A_3 = \{m, n, l\}$ to'plamning 3 ta elementdan 2 tadan barcha tartiblangan va tartiblanmagan, takrorlanuvchi va takrorlanmaydigan tanlanmalarini ko'rsating.

1) $A_3^2 = \{\{m, n\}, \{m, l\}, \{n, l\}, \{n, m\}, \{l, m\}, \{l, n\}\} = 6$ ta takrorlanmaydigan joylashtirish,

2) $\widetilde{A}_3^2 = \{\{m, m\}, \{m, n\}, \{m, l\}, \{n, n\}, \{n, l\}, \{n, m\}, \{l, m\}, \{l, n\}, \{l, l\}\} = 9$ ta takrorlanadigan joylashtirish;

3) $C_3^2 = \{\{m, n\}, \{m, l\}, \{n, l\}\} = 3$ ta takrorlanmaydigan guruhlash;

4) $\widetilde{C}_3^2 = \{\{m, m\}, \{m, n\}, \{m, l\}, \{n, n\}, \{n, l\}, \{l, l\}\} = 6$ ta takrorlanuvchi guruhlashlar mavjud.

Nazorat uchun savollar:

1. Kombinatorika usullaridan foydalanib yechiladigan zamonaviy masalalarga qanday masalalar kiradi?
2. Kombinatorika masalalarini yechish asosan nechta turga bo'linadi va ular nimalardan iborat?
3. Tanlanma deb nimaga aytiladi?
4. Tartiblangan to'plam deb nimaga aytiladi?
5. Tartiblangan va tartiblanmagan to'plamlarning farqi nimada?
6. O'rin almashtirish ta'rifini ayting.
7. Joylashtirish deb nimaga aytiladi?
8. Guruhlashga ta'rif bering.

Mustaqil yechish uchun masalalar:

1. $\{4, 5, 6\}$ to'planning 3 ta elementidan 2 tadan barcha tartiblangan va tartiblanmagan, takrorlanuvchi va takrorlanmaydigan tanlanmalarini tuzing.
2. $\{0, 1, 2, 3\}$ to'planning 4 ta elementdan 2 tadan barcha tartiblangan va tartiblanmagan tanlanmalarini ko'rsating.
3. $\{2, 3, 4, 5\}$ to'planning 4 ta elementdan 3 tadan barcha takrorlanuvchi va takrorlanmaydigan tanlanmalarini ko'rsating.

2.3. KOMBINATORIKANING ASOSIY QOIDALARI

Kombinatorikaning asosiy masalalaridan yana biri, bu turli shartlarga ko'ra chekli to'plamda elementlar sonini aniqlash masalasidir.

Oson ko'ringan to'plam quvvatini topish masalasiga ko'p hollarda javob berishda taraddudlanib qolamiz. Biz bu savolga I bobning 1.1.10. va 1.3.3. mavzularida to'xtalganmiz. Bu bobda esa to'plam elementlari sonini topish kombinatorikaning ilkkita yangi printsiplari: yig'indi va ko'paytma qoidalari asosida amalga oshiriladi.

2.3.1. Yig'indi qoidasi.

Ta'rif. Agar S to'plamdan A qism to'plamni n usul bilan tanlash mumkin bo'lsa, undan farqli boshqa B qism to'plamni m usulda tanlash

mumkin bo'lsa va bunda A va B larni bir vaqtda tanlash mumkin bo'lmasa, u holda S to'plamdan $A \cup B$ tanlanmani $n + m$ usulda olish mumkin.

Agar $A \cap B = \emptyset$ bo'lsa, u holda A va B to'plamlar kesishmaydigan to'plamlar deyiladi.

Xususiyl holda, agar barcha $i, j = 1, 2, \dots, k$, $i \neq j$ lar uchun $A_i \cap A_j = \emptyset$ bo'lsa, u holda $S = A_1 \cup A_2 \cup \dots \cup A_k$ to'plam S to'plamning o'zaro kesishmaydigan qism to'plamlari yoki oddiygina qilib bo'laklari deyiladi. Demak, yig'indi qoidasida A va B lar S to'plamning bo'laklaridir.

Misol. 219-12 guruh talabalari 16 nafar yigit va 8 nafar qizlardan iborat bo'lib, ular orasidan bir kishini ajratib olishi kerak bo'lsa, ularning soni qo'shiladi va $16+8=24$ talaba orasidan tanlab olinadi.

2.3.2. Ko'paytma qoidasi.

Ta'rif. Agar S to'plamdan A tanlanmani n usulda va har bir n usulda mos B tanlanmani m usulda amalga oshirish mumkin bo'lsa, u holda A va B tanlanmani ko'rsatilgan tartibda $n \cdot m$ usulda amalga oshirish mumkin.

To'plamlar nazariyasi nuqtai nazaridan qaraydigan bo'lsak, bu qoida to'plamlarning Dekart ko'paytmasi tushunchasiga mos keladi.

Misol. "Zukhrotravel" turistik kompaniyasi "Xiva – Chirchiq" yo'nalishida sayohat uyushtirmoqchi bo'lsa, necha xil usulda sayohat smetasini ishlab chiqish mumkin.

Xivadan Chirchiqqa to'g'ridan to'g'ri jamoat transporti yo'q, shuning uchun "Xiva – Toshkent – Chirchiq" yo'nalishi bo'yicha harakatlanishga to'g'ri keladi.

Xivadan Toshkentga samolyot, avtobus yoki poyezdda yetib borish mumkin, demak, 3 xil usuldan birini tanlash mumkin;

Toshkentdan Chirchiqqa esa avtobus yoki poyezdda borish mumkin, ya'ni 2 xil tanlanma mavjud.

"Xiva – Chirchiq" sayohatini $3 \cdot 2 = 6$ xil usulda tashkil qilish mumkin.

2.3.3. Ko'paytma qoidasini umumlashtirish.

Ta'rif. Aytaylik birin-ketin k ta harakatni amalga oshirish kerak bo'lsin. Agar birinchi harakatni n_1 usulda, ikkinchi harakatni n_2 usulda, va hokazo k -harakatni n_k usulda amalga oshirish mumkin bo'lsa, u holda barcha k ta harakat $n_1 \cdot n_2 \cdot n_3 \cdot \dots \cdot n_k$ usulda amalga oshiriladi.

Misol 1. Ikkinchi bosqich talabarlari III semestrda 12 ta fanni o'rganishadi. Seshanba kuniga 3 ta turli fanni nechta usulda dars jadvaliga joylash mumkin?

Bu misolda 12 ta fanni takrorlanmasdan 3 tasini joylashtirish kerak. Buning uchun birinchi fanni 12 usulda, ikkinchi fanni 11 usulda va uchinchi fanni 10 ta usulda tanlash mumkin. Ko'paytirish qoidasiga asosan $12 \cdot 11 \cdot 10 = 1320$.

Demak, 3 ta turli fanni 1320 usulda joylash mumkin ekan.

Misol 2. Diskret matematika fanidan talabalar o'rtasida bo'ladigan olimpiadaning mamlakat bosqichida 16 nafar talaba qatnashmoqda. Necha xil usulda I, II va III o'rinlar taqsimlanishi mumkin?

Yechilishi: I o'rinni 16 talabadan biri egallashi mumkin. I o'rin sohibi aniqlangandan keyin, II o'rinni qolgan 15 talabadan biri egallaydi va nihoyat III o'rin qolgan 14 talabadan biriga nasib qiladi. Demak I, II va III o'rin g'oliblarini $16 \cdot 15 \cdot 14 = 3360$ xil usulda aniqlash mumkin.

Misol 3. 5 soniga bo'linadigan 4 xonali sonlar nechta?

Yechilishi: Masalada takrorlanuvchi joylashtirish haqida so'z bormoqda. Birinchi xonaga $Z = \{0; 1; 2; 3; 4; 5; 6; 7; 8; 9\}$ to'planning 10 ta elementidan bitasini tanlash mumkin, lekin 0 ni birinchi xonaga qo'yish mumkin emas, aks holda son 3 xonali bo'lib qoladi. Bo'linish belgisiga ko'ra son 5 ga bo'linishi uchun 0 yoki 5 bilan tugashi kerak.

Dernak, \mathbb{E} -xona raqami uchun 9 ta tanlash mavjud;

\mathbb{Z} -va \mathbb{X} -xona raqamlari uchun esa 10 ta tanlash usuli bor;

4-xona, ya'ni oxirgi raqam uchun 0 yoki 5 raqamlari bo'lib, 2 ta tanlash mavjud.

U holda ko'paytirish qoidasidan foydalansak, $9 \cdot 10 \cdot 10 \cdot 2 = 1800$ ta 5 ga bo'linadigan 4 xonali son borligini aniqlaymiz.

Agar biror m murakkab son berilgan bo'lsa, uning bo'luvchilar sonini topish uchun oldin tub sonlar ko'paytmasi shakliga keltiriladi:

$$m = p_1^{\alpha_1} \cdot p_2^{\alpha_2} \cdot \dots \cdot p_n^{\alpha_n}$$

bunda p_1, p_2, \dots, p_n - tub sonlar, $\alpha_1, \alpha_2, \dots, \alpha_n$ daraja ko'rsatkichlari bo'lib, m murakkab sonning bo'luvchilari soni

$$(\alpha_1 + 1) \cdot (\alpha_2 + 1) \cdot \dots \cdot (\alpha_n + 1)$$

ga teng bo'ladi.

Misol. 48 sonining bo'luvchilari sonini topish uchun $48 = 2^4 \cdot 3$ ni topamiz.

U holda 48 ning bo'luvchilari soni $(4+1) \cdot (1+1) = 5 \cdot 2 = 10$ ekanligi topiladi.

Nazorat uchun savollar:

1. Kombinatorikaning 1-qoidasini keltiring.
2. Kombinatorikaning 2-qoidasini keltiring.
3. Ko'paytmaning umumlashgan qoidasini ayting.
4. Tub va murakkab son deb nimaga aytiladi?
5. Berilgan sonning bo'luvchilari soni qanday topiladi?

Maistaqil yechish uchun masalalar:

1. Qandolat do'konida kun oxiriga kelib bir nechta pishiriq qoldi: 4 ta vaflii, 3 ta shokoladli va 1 ta mevali. Xaridor pishiriqni nechta usulda tanlashi mumkin?
2. Musobaqada qatnashish uchun universitetning 8 nafar yigit, 6 nafar qizdan iborat tennis komandasidan juftlik nechta usulda ajratiladi?
3. Yengil avtomobillarning davlat belgisi 3 ta raqam va o'zbek alifbosining 3 ta harfidan iborat. Raqam va harflar ixtiyoriy ketma-ketlikda bo'lishi mumkin deb hisoblasak, DAN idorasi nechta turli xil avtomobil raqamini berishi mumkin?
4. Quyida berilgan sonlarning nechta turli bo'luvchilari bor?
 - a) 635016;
 - b) 2474;
 - c) 17645;
 - d) 30599;
 - e) 2520;
 - f) 5480;
 - g) 12600;
 - k) 12600;

2.4. O'RING ALMASHTIRISH, JOYLASHTIRISH va GURUHLASHLARNI HISOBLASH FORMULALARI

2.4.1. Takrorlanmaydigan joylashtirishlar

Avvalo barcha mumkin bo'lgan A_n^k joylashtirishlarni topib olamiz. Bu masalani yechish uchun ko'paytma qoidasidan foydalanamiz.

n ta elementi bo'lgan S to'plamda birinchi elementni tanlash uchun n ta imkoniyat bor, ikkinchi elementni tanlash uchun esa $n-1$ ta imkoniyat qoladi. Joylashtirish takrorlanmaydigan bo'lgani uchun tanlab olingan element keyingi tanlanmalarda ishtirok etmaydi. Shuning uchun k -elementni tanlash uchun $n-(k-1) = n-k+1$ imkoniyat qoladi. U holda barcha takrorlanmaydigan joylashtirishlar soni:

$$A_n^k = n \cdot (n-1) \cdot (n-2) \cdot \dots \cdot (n-k+1)$$

ga teng bo'ladi.

Bu formulani boshqacha ko'rinishda yozish mumkin:

$$\begin{aligned} A_n^k &= n \cdot (n-1) \cdot (n-2) \cdot \dots \cdot (n-k+1) = \\ &= n \cdot (n-1) \cdot (n-2) \cdot \dots \cdot (n-k+1) \cdot \frac{(n-k) \cdot (n-k-1) \cdot \dots \cdot 2 \cdot 1}{(n-k) \cdot (n-k-1) \cdot \dots \cdot 2 \cdot 1} = \\ &= \frac{n \cdot (n-1) \cdot (n-2) \cdot \dots \cdot (n-(k-1)) \cdot (n-k) \cdot \dots \cdot 2 \cdot 1}{(n-k) \cdot \dots \cdot 2 \cdot 1} = \frac{n!}{(n-k)!} \end{aligned}$$

Bu yerda “!” belgisi faktorial deb o'qiladi.

1 dan n gacha bo'lgan barcha natural sonlar ko'paytmasi $n!$ ga teng. Faktorialni hisoblashda $0! = 1$ va $1! = 1$ deb qabul qilingan.

Teorema. n elementga ega bo'lgan S to'planning k elementi tartiblangan takrorlanmaydigan qism to'plamlari soni

$$A_n^k = \frac{n!}{(n-k)!}$$

ga teng.

Misol 1. 7 kishidan iborat nazorat guruhini 4 nafar a'zosi bo'lgan nechta kichik guruhlarga ajratish mumkin?


Izlanayotgan usullar soni 7 ta elementdan 4 tadan joylashtirishlar soniga teng, ya'ni

$$A_7^4 = \frac{7!}{(7-4)!} = \frac{7!}{3!} = \frac{3! \cdot 4 \cdot 5 \cdot 6 \cdot 7}{3!} = 840$$

Misol 2. Talaba 3 ta imtixonni bir hafta davomida topshirishi kerak. Bu harakatni necha xil usulda amalga oshirish mumkin?

Javob: $A_6^3 = 120$

Shu o'rinda eslatib o'tamiz, tadqiqotlarda joylashtirishlar sonini hisoblashga to'g'ri kelsa, unda Excel dasturlar paketidagi ПЕРЕСТ komandasidan foydalanish mumkin, masalan $A_{72}^7 = 859541760$ ni hisoblang:



2.4.2. Berilgan to'planning o'rin almashtirishlari soni.

Avval aytganimizdek, o'rin almashtirish joylashtirishning xususiy holdan iborat, shuning uchun ham o'rin almashtirishni n ta elementdan n dan joylashtirish deb qarash mumkin:

$$P_n = A_n^n = \frac{n!}{(n-n)!} = n!$$

Bu son n elementli qism to'plamni tartiblash usullari soniga teng bo'ladi.

Misol 1. 2.1. paragrafdagi 26 kishini kassada navbatga necha xil usulda joylashtirish mumkin degan savolga endi javob berish mumkin: $P_n = 26!$

Misol 2. Uchta elementdan iborat $A = \{a, b, c\}$ to'planning elementlaridan tuzilgan o'rin almashtirishlar soni 6 ga teng:

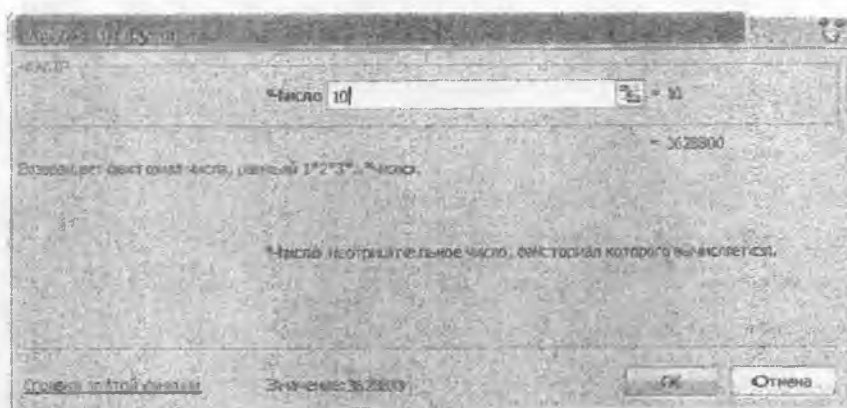
$$(a, b, c), (a, c, b), (b, a, c), (b, c, a), (c, a, b), (c, b, a).$$

Teorema. n elementga ega bo'lgan S to'planning barcha o'rin almashtirishlari soni $P_n = n!$ ga teng.

Misol 3. Javonga 5 ta kitobni necha xil usulda joylashtirish mumkin.

$$P_5 = 5! = 120$$

Tadqiqotlarda o'rin almashtirishlarni hisoblashga to'g'ri kelsa, unda Excel dasturlar paketidagi **ФАКТР** komandasidan foydalanish mumkin, masalan 10! ni hisoblash uchun quyidagicha ish tutiladi:



Мисол 4. $\{1, 2, 3, \dots, 2n\}$ to'plam elementlarini juft sonlari juft o'rinlarda keladigan qilib necha xil usulda tartiblashtirish mumkin?

Yechilishi:

Juft sonlarni juft nomerli o'rinlarga (bunday joylar n ta) $n!$ ta usulda qo'yib chiqish mumkin, bu usullarning har biri ga toq sonlarni toq nomerli o'rinlarga $n!$ ta usulda qo'yib chiqish mos keladi. Shuning uchun ham ko'paytirish qoidasiga ko'ra barcha o'rniga qo'yishlar soni

$$n \cdot n! = (n!)^2$$

ga teng bo'ladi.

Мисол 5. n ta elementdan berilgan ikkita elementi yonma-yon turmaydigan nechta o'rin almashtirish bajarish mumkin.

Yechilishi:

a va b elementlar berilgan bo'lsin. Bu elementlar yonma-yon turgan o'rin almashtirishlar sonini aniqlaymiz.

Birinchi hol a element b elementdan oldin kelishi mumkin, bunda a birinchi o'ringda, ikkinchi o'ringda, va hokazo $(n-1)$ - o'ringda turishi mumkin.

Ikkinchi hol b element a elementdan oldin kelishi mumkin, bunday holatlar ham $(n-1)$ ta bo'ladi. Shunday qilib, a va b elementlar yonma-yon keladigan holatlar soni $2 \cdot (n-1)$ ta bo'ladi. Bu usullarning har biriga qolgan $(n-2)$ ta elementning $(n-2)!$ ta o'rin almashtirishi mos keladi. Demak, a va b elementlar yonma-yon keladigan barcha o'rin almashtirishlar soni $2 \cdot (n-1) \cdot (n-2)! = 2(n-1)!$ ta bo'ladi. Shuning uchun ham yonma-yon turmaydigan o'rin almashtirishlar soni

$$n! - 2(n-1)! = (n-1)!(n-2)$$

ga teng bo'ladi.

Nazorat uchun savollar:

1. Biror bir natural sonning bo'luvchilari soni qanday topiladi?
2. O'rin almashtirish deganda nimani tushunasiz?
3. O'rin almashtirishni Excel dasturlar paketidan foydalanib hisoblash qanday amalga oshiriladi?

Mustaqil yechish uchun masalalar:

1. Ifodaning qiymatini toping:

$$a) \frac{14!}{12!}; \quad b) \frac{10!}{4! \cdot 6!}; \quad c) \frac{17! - 16 \cdot 16! - 15 \cdot 15!}{15!}; \quad d) \frac{(m+3)!}{m!}$$

2. Kasrni qisqartiring:

$$a) \frac{n!}{(n-1)!}; \quad b) \frac{(n-2)!}{n!}; \quad c) \frac{(n-3)!}{(n-1)!}; \quad d) \frac{2n(2n-1)}{2n!}, n \in \mathbb{N}$$

3. 36 ta karta aralashirilganda necha xil variant mavjud?
4. Stipendiya uchun 5 ta sardor kassaga necha xil usulda navbatga turishlari mumkin?

2.4.3. Takrorlanuvchi joylashtirishlar.

n ta elementi bo'lgan S to'plamda birinchi elementni tanlash uchun n ta imkoniyat bor, joylashtirish takrorlanuvchi bo'lgani uchun qolgan ixtiyoriy element uchun ham n ta imkoniyat qoladi. Ko'paytirish qoidasiga ko'ra barcha takrorlanadigan joylashtirishlar soni quyidagiga teng bo'ladi:

$$\bar{A}_n^k = \underbrace{n \cdot n \cdot \dots \cdot n}_{k \text{ marta}} = n^k$$

2.4.4. Takrorlanmaydigan guruhlashlar.

Bizga tartiblanmagan takrorlanmaydigan n ta elementi bo'lgan S to'plam berilgan bo'lsin. C_n^k bilan A_n^k ni taqqoslaymiz. Bilamizki, k ta elementni $k!$ ta usulda tartiblash mumkin, ya'ni

$$k! \cdot C_n^k = A_n^k$$

bo'ladi. Bundan

$$C_n^k = \frac{A_n^k}{k!} = \frac{n!}{k!(n-k)!} \quad \text{kelib chiqadi.}$$

Misol 1. Har uchasi bir to'g'ri chiziqda yotmagan n ta nuqta berilgan. Nuqtalarni ikkitalab tutashtirish natijasida nechta kesma o'tkazish mumkin?

Yechilishi: masala shartiga ko'ra chizmada qavariq n burchak hosil bo'ladi. U holda 1-nuqta $(n-1)$ ta nuqta bilan, 2-nuqta $(n-2)$ ta nuqta bilan va h.k., $(n-1)$ - nuqta 1 ta nuqta bilan tutashtiriladi/ Bunda hosil bo'lgan to'g'ri chiziqlar soni

$$(n-1)+(n-2)+(n-3)+\dots+2+1 = \frac{1+(n-1)}{2}(n-1) = \frac{n(n-1)}{2} = C_n^2$$

ga teng bo'ladi.

Misol 2. Restoranida 7 ta asosiy taomdan 3 tasini tanlash imkoniyati berilsa, nechta usulda buyurtma qilish mumkin?

Yechilishi: Bu misolda takrorlanmaydigan 7 ta elementdan 3 tadan guruhlashni topish kerak:

$$C_7^3 = \frac{7!}{(7-3)!3!} = \frac{7!}{4!3!} = \frac{4! \cdot 5 \cdot 6 \cdot 7}{4! \cdot 1 \cdot 2 \cdot 3} = 35.$$

Misol 3. Sportloto lotareya o'yinida 36 ta natural sondan 6 tasini topgan kishi asosiy yutuqqa ega bo'ladi. Asosiy yutuqni olish imkoniyati qanday?

Yechilishi: Yutuq raqamlar oltitaligi 36 tadan 6 ta takrorlanmaydigan guruhlashga teng:

$$C_{36}^6 = \frac{36!}{(36-6)!6!} = \frac{36!}{30!6!} = \frac{31 \cdot 32 \cdot 33 \cdot 34 \cdot 35 \cdot 36}{1 \cdot 2 \cdot 3 \cdot 4 \cdot 5 \cdot 6} = 1947792$$

Misolning javobidan ko'rinadiki, asosiy yutuqni olish imkoniyati judayam kam, ya'ni 1 947 792 tadan 1 taga teng.

5, 4, va 3 ta raqamni topgan kishilarga ham yutuq beriladi, lekin bu yutuq shi kishilar o'rtasida teng taqsimlanadi. Bu holda 2 xil guruhlash mavjud, biri C_6^3 o'xradli tanlov va ikkinchisi C_{30}^3 omadsiz tanlov. U holda 3 ta raqamni topgan yutuq ega'ari imkoniyati:

$$C_{30}^3 \cdot C_6^3 = \frac{30!}{27!3!} \cdot \frac{6!}{3!3!} = \frac{28 \cdot 29 \cdot 30}{1 \cdot 2 \cdot 3} \cdot 4 \cdot 5 = 81200.$$

Yutuqli bo'lish ehtimoli $\frac{81200}{1947792} \approx 0.042$ ga teng.

Teorema 1. n ta elementi bo'lgan S to'planning barcha tartiblanmagan k elementli qism to'plamlari soni

$$C_n^k = \frac{n!}{k!(n-k)!}$$

ga teng.

Ushbu teoremani umumlashtiramiz:

n ta elementi bo'lgan S to'plamni k ta qism to'plamlar yig'indisi ko'rinishida necha xil usulda yoyish mumkin degan savolni qo'yamiz. Buning uchun S to'plamni $S = A_1 \cup A_2 \cup \dots \cup A_m$ o'zaro kesishmaydigan k ta qism to'plamlarga ajratish mumkin bo'lsin. Bunda ularning elementlari soni mos ravishda

$$N(A_1) = k_1, N(A_2) = k_2, \dots, N(A_m) = k_m$$

bo'lib, k_1, k_2, \dots, k_m berilgan sonlar uchun

$$k_i \geq 0, \quad k_1 + k_2 + \dots + k_m = n$$

shartlar bajariladi. A_1, A_2, \dots, A_m to'plamlar umumiy elementga ega emas.

S to'planning k_1 elementli A_1 qism to'plamini $C_n^{k_1}$ usulda tanlash mumkin, qolgan $n-k_1$ element ichidan k_2 elementli A_2 qism to'plamini $C_{n-k_1}^{k_2}$ usulda tanlash mumkin va hokazo. Turli xil A_1, A_2, \dots, A_m qism to'plamlarni tanlash usullari ko'paytirish qoidasiga ko'ra

$$\begin{aligned} & C_n^{k_1} \cdot C_{n-k_1}^{k_2} \cdot C_{n-k_1-k_2}^{k_3} \cdot \dots \cdot C_{n-k_1-k_2-\dots-k_{m-1}}^{k_m} = \\ & = \frac{n!}{k_1!(n-k_1)!} \cdot \frac{(n-k_1)!}{k_2!(n-k_1-k_2)!} \cdot \frac{(n-k_1-k_2)!}{k_3!(n-k_1-k_2-k_3)!} \cdot \dots \cdot \frac{(n-k_1-k_2-\dots-k_{m-1})!}{k_m!(n-k_1-k_2-\dots-k_m)!} = \\ & = \frac{n!}{k_1! \cdot k_2! \cdot \dots \cdot k_m!} \end{aligned}$$

Demak, quyidagi teorema isbotlandi.

Teorema 2. Aytaylik k_1, k_2, \dots, k_m butun nonanfiy sonlar bo'lib, $k_1 + k_2 + \dots + k_m = n$ va S to'plam n ta elementdan iborat bo'lsin. S ni elementlari mos ravishda k_1, k_2, \dots, k_m ta bo'lgan A_1, A_2, \dots, A_m m ta qism to'plamlar yigindisi ko'rinishida ifodalash usulini soni

$$C_n(k_1, \dots, k_m) = \frac{n!}{k_1! \cdot k_2! \cdot \dots \cdot k_m!}$$

ta bo'ladi.

$C_n(k_1, \dots, k_m)$ sonlarga **polinomial koeffitsiyentlar** deyiladi.

Misol 4. "Baraban" so'zidagi harflarni qatnashtirib, nechta so'z (ma'nosi bo'lishi shart emas!) yasash mumkin?

Yechilishi: "b" harfi $k_1=2$ ta,

"a" harfi $k_2=3$ ta,

"r" harfi $k_3=1$ ta,

"n" harfi $k_4=1$ ta, jami harflar soni $n=7$ ta, demak,

$$C_7(2,3,1,1) = \frac{7!}{2! \cdot 3! \cdot 1! \cdot 1!} = 420.$$

Misol 5. "Lola" so'zidagi harflardan nechta so'z yasash mumkin?

$$C_4(2,1,1) = \frac{4!}{2! \cdot 1! \cdot 1!} = 12.$$

Teorema 2(a). Elementlarining k_1 tasi 1- tipda, k_2 tasi 2-tipda, va hokazo k_m tasi m -tipda bo'lgan n elementli to'planning barcha o'rin almashtirishlar soni

$$C_n(k_1, \dots, k_m) = \frac{n!}{k_1! \cdot k_2! \cdot \dots \cdot k_m!}$$

ta bo'ladi.

Tadqiqotlarda ko'p miqdordagi takrorlanuvchi o'rin almashtirishlarni hisoblashga to'g'ri kelsa, unda Excel dasturlar paketidagi МУЛЬТИНОМ komandasidan foydalanish mumkin, masalan

$$C_{10}(1,2,4,3) = \frac{10!}{1! \cdot 2! \cdot 4! \cdot 3!} = 12600$$

ekanligini tezlik bilan hisoblash hech qanday qiyinchilik tug'dirmaydi.



2.4.5. Guruhlarning xossalari

$$1^{\circ}. C_{n+m}^n = C_{n+m}^m$$

$$2^{\circ}. C_n^k = C_{n-1}^k + C_{n-1}^{k-1}$$

$$3^{\circ}. C_{2n}^n = (C_n^0)^2 + (C_n^1)^2 + \dots + (C_n^n)^2$$

Ushbu xossalarni isbotlash uchun kombinatsiyalarni faktorial ko'rinishida yozib chiqish va hisoblash yetarli.

Teorema. n elementli to'planning barcha qism to'plamari soni 2^n ga teng va quyidagi tenglik o'rinli:

$$\sum_{k=0}^n C_n^k = 2^n$$

Hqiqatdan ham, C_n^k - n elementli to'planning barcha k elementli to'plam ostilari soni bo'lgani uchun, tushunarliki barcha to'plam ostilar soni

$$C_n^0 + C_n^1 + \dots + C_n^n$$

yig'indiga teng bo'lib, ularning yig'indisi 2^n ga teng bo'ladi.

Misol. 30 ta talabadan 20 tasi o'g'il bolalar, tavakkaliga jurnaldagi ro'yhat bo'yicha 5 talaba chaqirildi, ularning ichida ko'pi bilan 3 tasi o'g'il bola bo'ladigan qilib necha xil usulda tanlash mumkin?

Yechilishi: Masala shartida berilgan to'plamni sodda to'plamlar yig'indisi shaklida yozib olamiz:

$$A = \{0 \text{ tasi o'g'il bola, } 5 \text{ tasi qiz bola}\}$$

$$B = \{1 \text{ tasi o'g'il bola, } 4 \text{ tasi qiz bola}\}$$

$$C = \{2 \text{ tasi o'g'il bola, } 3 \text{ tasi qiz bola}\}$$

$$D = \{3 \text{ tasi o'g'il bola, } 2 \text{ tasi qiz bola}\}$$

$\{\text{Ko'pi bilan 3 tasi o'g'il bola}\} = A \cup B \cup C \cup D$ kesidmaydigan to'plamlar yig'indisining quvvati, ushbu to'plamlar quvvatlari yig'indisiga teng bo'ladi:

$$\begin{aligned} n(\{\text{ko'pi bilan 3 tasi o'g'il bola}\}) &= n(A \cup B \cup C \cup D) = n(A) + n(B) + n(C) + n(D) = \\ &= C_{20}^0 \cdot C_{10}^5 + C_{20}^1 \cdot C_{10}^4 + C_{20}^2 \cdot C_{10}^3 + C_{20}^3 \cdot C_{10}^2 + C_{20}^4 \cdot C_{10}^1 = \\ &= \frac{10!}{5! \cdot 15!} + \frac{20!}{1! \cdot 19!} \cdot \frac{10!}{4! \cdot 6!} + \frac{20!}{2! \cdot 18!} \cdot \frac{10!}{3! \cdot 7!} + \frac{20!}{3! \cdot 17!} \cdot \frac{10!}{2! \cdot 8!} = \\ &= 504 + 4200 + 190 \cdot 120 + 1140 \cdot 45 = 26478900 \end{aligned}$$

Demak, 30 ta talabdan ko'pi bilan 3 tasi o'g'il bola bo'ladigan 26.478.900 tanlash usuli mavjud.

Nazorat uchun savollar:

1. Takrorlanadigan joylashtirish deb nimaga aytiladi?
2. Takrorlanmaydigan joylashtirish deb nimaga aytiladi?
3. Takrorlanadigan guruhlash deb nimaga aytiladi?
4. Takrorlanmaydigan guruhlash deb nimaga aytiladi?
5. Faktorial nima?
6. Excel dasturlar paketidagi МУЖЬТИНОМ komandasidan qachon foydalaniladi?
7. Excel dasturlar paketidagi ПЕРЕСТ komandasi vazifasi nimadan iborat?

Mustaqil yechish uchun masalalar:

1. Xonada n ta chiroq bor. k ta chiroqni yoqib xonani necha xil usulda yoritish mumkin? Xonani hammasi bo'lib necha xil usulda yoritish mumkin?

2. n ta nuqta berilgan, ularning ixtiyoriy 3 tasi bitta chiziqda yotmaydi. Ixtiyoriy ikkita nuqtani tutashtirib nechta chiziq o'tqazish mumkin?
3. Har bir keyingi raqami oldingisidan katta bo'lgan nechta 4 xonali sonni tuzish mumkin?
4. Har bir keyingi raqarni oldingisidan kichik bo'lgan nechta 4 xonali sonni tuzish mumkin?
5. Xalqaro komissiya 9 kishidan iborat. Komissiya materiallari seyfa saqlanadi. Kamida 6 kishi yig'ilgandagina seyfni ochish imkoni bo'lishi uchun, seyf nechta qulfdan iborat bo'lishi kerak va ular uchun nechta kalit tayyorlash kerak va ularni komissiya a'zolari o'rtasida qanday taqsimlash kerak?
6. Kitob javonida tasodifiy tartibda 15 ta darslik terilgan bo'lib, ularning 9 tasi o'zbek tilida, 6 tasi rus tilida. Tavakkaliga 7 ta darslik olindi. Olingan darsliklarning roppa-rosa 4 tasi o'zbekcha, 3 tasi ruscha bo'ladigan qilib nechta xil usulda tanlab olish mumkin?
7. $C_n^1 + C_n^3 + C_n^5 + \dots$ yig'indi hisoblansin.
8. $C_n^0 + C_n^4 + C_n^8 + \dots$ yig'indi hisoblansin.
9. $C_n^0 - C_n^1 + C_n^2 - \dots + (-1)^n C_n^n = 0$ tenglik isbotlansin.
10. Necha xil usulda 5 ta kitobdan 3 tadan qilib tanlab olish mumkin?
11. Necha xil usulda 7 odamdan 3 kishidan qilib komissiya tuzish mumkin?
12. $C_{n+m}^n = C_{n+m}^m$ tenglikni isbotlang.
13. $C_n^k = C_{n-1}^k + C_{n-1}^{k-1}$ tenglikni isbotlang.
14. $C_{2n}^n = (C_n^0)^2 + (C_n^1)^2 + \dots + (C_n^n)^2$ ayniyatni isbotlang.
15. $C_n^0 + C_n^1 + \dots + C_n^n = 2^n$ ayniyatni isbotlang.
16. $C_n^0 = C_n^n$ tenglikni isbotlang.

17. $C_n^1 = C_n^{n-1}$ tenglikni isbotlang.

18. $C_n^k = C_n^{n-k}$ tenglikni isbotlang.

19. Quyidagi so'zlarni nechta usulda shifrlash mumkin?

- | | |
|---------------|--------------|
| a) BALLI; | e) PARABOLA; |
| b) GIPERBOLA; | f) ELLIPS; |
| c) SIMMETRIK; | g) SUMMA; |
| d) DADA; | j) GURUH. |

20. Tarkibida Aziz va Go'zal ham bo'lgan 12 nafar kishidan 5 kishilik komissiya tashkil qilinmoqchi. Nechta turlicha komissiya tashkil qilish mumkin? Agar

- komissiya tarkibiga Aziz ham, Go'zal ham kirgan bo'lsa;
- komissiya tarkibiga Aziz ham, Go'zal ham kirmagan bo'lsa;
- komissiya tarkibiga yoki Aziz, yoki Go'zal kirgan bo'lsa.

2.4.6. Takrorlanuvchi guruhlashlar.

Ta'rif. n ta elementli to'planning barcha tartiblanmagan takrorlanuvchi k ta elementli qisim to'plamlarini ajratish takrorlanuvchi guruhlash deyiladi.

S to'planning elementlari $1; 2; \dots; n$ sonlari bilan raqamlangan bo'lsin. S to'plam chekli yoki sanoqli bo'lgani uchun, har doim S to'plam elementlari va N natural sonlar to'plami elementlari o'rtasida bir qiymatli moslik o'rnatish mumkin. U holda S to'plam o'rniga o'zaro bir qiymatli moslik kuchiga asosan, unga ekvivalent bo'lgan $S' = \{1; 2; \dots; n\}$ to'planning C_n^k guruhlashlarini topish mumkin.

S' to'planning har qanday tanlanmasini $\{n_1; n_2; \dots; n_k\}$ ko'rinishda yozish mumkin, bunda $n_1 \leq n_2 \leq \dots \leq n_k$ ketma-ketlik o'rinli bo'lib, "tenglik" amali tanlanma takrorlanuvchi bo'lishi mumkinligini bildiradi.

k ta elementli tanlanma $\{n_1; n_2; \dots; n_k\}$ ga k ta elementli to'plam $\{n_1; n_2 + 1; \dots; n_k + k - 1\}$ ni mos qo'yamiz, bunda elementlar turlicha bo'ladi.

$\{n_1; n_2; \dots; n_k\}$ va $\{n_1; n_2 + 1; \dots; n_k + k - 1\}$ to'plamlar orasidagi moslik yana o'zaro bir qiymatli bo'lib, $\{n_1; n_2 + 1; \dots; n_k + k - 1\}$ to'plam $S' \cup \{1; 2; \dots; k - 1\}$ to'plamdan $n + k - 1$ tadan takrorlanmaydigan k elementli guruhlash bo'ladi.

U holda takrorlanmaydigan C_{n+k-1}^k guruhlashlar soni \tilde{C}_n^k takrorlanuvchi guruhlash soniga teng bo'ladi, ya'ni

$$\tilde{C}_n^k = C_{n+k-1}^k = \frac{(n+k-1)!}{k!(n-1)!} = \frac{n \cdot (n+1) \cdot \dots \cdot (n+k-1)}{k!}$$

Teorema. n ta elementdan k ta elementli takrorlanuvchi guruhlashlar soni $\tilde{C}_n^k = C_{n+k-1}^k$ ga teng.

Misol. 4 ta o'yin kubigini tashlab, nechta turlicha variant hosil qilish mumkin?

Yechilishi: Har bir o'yin kubigida 1 dan 6 gacha raqamlardan bittasi tushishi mumkin, ya'ni har bir kubikda 6 ta variant bo'lishi mumkin. Agar 4 ta o'yin kubigi tashlansa, har bir variantni 4 ta ob'yektning tartiblanmagan takrorlanuvchi ketma-ketligi deyish mumkin, ularning har biri uchun esa 6 ta imkoniyat bor:

$$\tilde{C}_n^k = \frac{(n+k-1)!}{k!(n-1)!} = \frac{(6+4-1)!}{4!5!} = \frac{9!}{4!5!} = \frac{6 \cdot 7 \cdot 8 \cdot 9}{1 \cdot 2 \cdot 3 \cdot 4} = 126$$

Nazorat uchun savollar:

1. Takrorlanuvchi guruhlash deb nimaga aytiladi?
2. n ta elementdan k ta elementli takrorlanuvchi guruhlashlar soni nimaga teng?

3. Polinomial koeffitsiyentlar qanday hisoblanadi?

4. Takrorlanuvchi guruhlashlarning tadbiqiga misol keltiring.

Mустаqil yechish uchun masalalar:

1. 0, 1, 2, 3, 4, 5, 6 raqamlaridan iborat DOMINO o'yini toshlari nechta?

2. 0, 1, 2, ..., k raqamlaridan iborat DOMINO o'yini toshlari nechta?

3. Qandalotchilik sexida 11 turdagi shirinlik ishlab chiqariladi. 6 ta bir xil yoki 6 ta har xil shirinlikni necha xil usulda tanlash mumkin?

4. Muzqaymoq do'konida 8 xil turdagi muzqaymoq sotilayapti. 5 kishiga necha xil usulda muzqaymoq olish mumkin?

$$5. \binom{C_1^1}{C_2^1} + \binom{C_1^2}{C_2^2} + \binom{C_1^3}{C_2^3} = 5A_7^2$$

$$6. A_x^{x-3} = \binom{C_{x-3}^{x-3} + C_{x-1}^{x-4}}{C_{x-1}^3} P_3$$

$$7. A_x^3 = P_{x-2} + C_x^4 - P_{x-1} = 39$$

$$8. 15 \cdot C_x^{x-2} = 0,5 \cdot A_{x+1}^{x-1}$$

$$9. A_x^{x-6} = x \cdot C_{x-1}^{x-6}$$

$$10. C_{x-2}^{x-3} : C_x^{x-1} = A_{x-1}^{x-4} : 30$$

$$11. A_{x+1}^2 - A_x^2 - A_{x-1}^2 = P_3 - P_{x+1}$$

$$12. A_x^4 \cdot P_{x-4} = 42 \cdot P_{x-2}$$

$$13. P_x = C_x^{x-2} \cdot P_4 \cdot 2!$$

$$14. 120 \cdot A_{2x}^x = (P_x)^2 \cdot C_{2x}^x$$

$$15. \begin{cases} C_x^x = C_x^{x+1} \\ C_x^2 = 153 \end{cases}$$

$$16. \begin{cases} C_x^{x+1} = 2,5x \\ C_{x-1}^x = 0 \end{cases}$$

17. $C_{m+1}^{m+1} : C_{m+1}^m : C_{m+1}^{m-1} = 5 : 5 : 3$ munosabat berilgan bo'lsa, n va m ni toping.

2.5. N'YUTON BINOMI. POLINOMIAL TEOREMA

2.5.1. N'yuton binomi.

Maktab kursidan qisqa ko'paytirish formulalari bilan tanishsiz, masalan ikki son yig'indisining kvadrati

$$(a+b)^2 = (a+b) \cdot (a+b) = aa + ab + ba + bb = a^2 + 2ab + b^2$$

yoki ikki son yig'indisining kubini topish

$$(a+b)^3 = (a+b) \cdot (a+b) \cdot (a+b) = a^3 + 3a^2b + 3ab^2 + b^3$$

kabi masalalarda a va b laroldidagi koeffitsiyentlarni topish masalasi kelib chiqadi. Koeffitsiyentlarni topish usulini frantsuz matematigi Blez Paskal (1623 – 1662 yy) fanga kiritgan, hozirda Paskal uchburchagi deb ataladi:

			1					$n=0$			
			1	1				$n=1$			
			1	2	1			$n=2$			
			1	3	3	1		$n=3$			
			1	4	6	4	1	$n=4$			
			1	5	10	10	5	1	$n=5$		
			1	6	15	20	15	6	1	$n=6$	
			1	7	21	35	35	21	7	1	$n=7$
			1	8	28	56	70	56	28	8	$n=8$

n soni yetarlicha katta bo'lganda, $(a+b)^n$ uchun Paskal uchburchagini tashkil qiluvchi sonlar C_n^k ga teng bo'ladi:

$$\begin{array}{cccccccc}
 & & & & C_0^0 & & & & \\
 & & & & C_1^0 & C_1^1 & & & \\
 & & & C_2^0 & C_2^1 & C_2^2 & & & \\
 & & C_3^0 & C_3^1 & C_3^2 & C_3^3 & & & \\
 & C_4^0 & C_4^1 & C_4^2 & C_4^3 & C_4^4 & & & \\
 C_5^0 & C_5^1 & C_5^2 & C_5^3 & C_5^4 & C_5^5 & & & \\
 \dots & \dots & \dots & \dots & \dots & \dots & \dots & & \\
 C_n^0 & C_n^1 & \dots & \dots & \dots & \dots & \dots & C_n^{n-1} & C_n^n
 \end{array}$$

Paskal uchburchagining tashqi tomonlaridagi sonlar har doim 1 ga teng bo'ladi, chunki $C_n^0 = C_n^n = 1$. Paskal uchburchagining yana bir qonuniyati, uchburchakdagi 2 ta ketma-ket sonni qo'shish natijasida keyingi qatordagi shu 2 son o'rtasida turgan sonni topish mumkin. Bu xossa Paskal formulasi deb nomlanadi:

$$C_{n-1}^{k-1} + C_{n-1}^k = C_n^k$$

Bunda $0 < k < n$.

Isboti:

$$\begin{aligned}
 C_{n-1}^{k-1} + C_{n-1}^k &= \frac{(n-1)!}{(n-k)!(k-1)!} + \frac{(n-1)!}{(n-k-1)!k!} = \frac{(n-1)!}{(n-k-1)!(k-1)!} \left(\frac{1}{n-k} + \frac{1}{k} \right) = \\
 &= \frac{(n-1)!}{(n-k-1)!(k-1)!} \cdot \frac{n}{(n-k)k} = \frac{n!}{(n-k)!k!} = C_n^k.
 \end{aligned}$$

Teorema (Binomial teorema). Quyidagi tenglik o'rinli

$$\begin{aligned}(a+b)^n &= \sum_{k=0}^n C_n^k \cdot a^k \cdot b^{n-k} = \\ &= C_n^0 \cdot a^0 \cdot b^n + C_n^1 \cdot a^1 \cdot b^{n-1} + \dots + C_n^k \cdot a^k \cdot b^{n-k} + \dots + C_n^n \cdot a^n \cdot b^0\end{aligned}$$

bu yerda C_n^k sonlarga binomial koeffitsiyentlar, tenglamaga esa N'yuton binomi deyiladi.

Isboti: Formulani matematik induksiya metodidan foydalanib isbotlash mumkin. Haqiqatan ham,

$$n=1 \text{ bo'lganda } (a+b)^1 = C_1^0 \cdot a^0 \cdot b^1 + C_1^1 \cdot a^1 \cdot b^0 = b + a;$$

$$n=2 \text{ da } (a+b)^2 = C_2^0 \cdot a^0 \cdot b^2 + C_2^1 \cdot a^1 \cdot b^{2-1} + C_2^2 \cdot a^2 \cdot b^0 = b^2 + 2ab + a^2.$$

Endi formulani $n-1$ uchun o'rinli deb faraz qilib, quyidagiga ega bo'lamiz:

$$(a+b)^n = (a+b)^{n-1}(a+b) = a \cdot (a+b)^{n-1} + b \cdot (a+b)^{n-1} =$$

$$= \sum_{k=0}^{n-1} C_{n-1}^k a^{k+1} b^{(n-1)-k} + \sum_{k=0}^{n-1} C_{n-1}^k a^k b^{(n-1)-k+1}.$$

Yig'indida indekslarni almashtiramiz: $k = j - 1$, $j = k + 1$, u holda

$$\sum_{k=0}^{n-1} C_{n-1}^k a^{k+1} b^{(n-1)-k} = \sum_{j=1}^n C_{n-1}^{j-1} a^j b^{n-j}$$

bo'ladi. Bundan

$$(a+b)^n = \sum_{k=1}^n C_{n-1}^{k-1} a^k b^{n-k} + \sum_{k=0}^{n-1} C_{n-1}^k a^k b^{n-k}.$$

Oxirgi tenglikda yig'indilar chegaralarini tenglashtiramiz. Buning uchun yordamchi $C_{n-1}^{-1} = 0$, $C_{n-1}^n = 0$ tengliklarni kiritamiz, u holda

$$\sum_{k=1}^n C_{n-1}^{k-1} a^k b^{n-k} = \sum_{k=0}^n C_{n-1}^{k-1} a^k b^{n-k}$$

va

$$\sum_{k=0}^{n-1} C_{n-1}^k a^k b^{n-k} = \sum_{k=0}^n C_{n-1}^k a^k b^{n-k}$$

tenglilar hosil bo'ladi.

Bu tengliklarni o'rniga qo'yib, quyidagini hosil qilarniz:

$$(a+b)^n = \sum_{k=0}^n (C_{n-1}^{k-1} + C_{n-1}^k) a^k b^{n-k} = \sum_{k=0}^n C_n^k a^k b^{n-k}.$$

Teorema isbotlandi.

Hozirda N'yuton binomi deb yuritiladigan yuqoridagi formulani Isaak N'yuton (1643-1727 yy) gacha O'rta osiyolik olimlar, yurtdoshlarimiz: matematik, astronom, shoir Umar Xayyom (1048-1122 yy) va Mirzo Ulug'bekning shogirdi G'iyosiddin Jamshid al-Koshiy "Arifmetika kaliti" asarida yorqin misollarda ko'rsatib bergan. Yevropada esa B. Paskal o'z ishlarida qo'llagan. N'yutonning xizmati shundaki, u formulani daraja ko'psatkichi n ning butun bo'lmagan hol uchun umumlashtirdi.

$|x| < 1$ uchun n ning butun bo'lmagan qiymatida N'yuton binomi formulasining ko'rinishi quyidagicha bo'ladi:

$$(1+x)^a = 1 + ax + \frac{a(a-1)}{2!} x^2 + \frac{a(a-1)(a-2)}{3!} x^3 + \dots + \frac{a(a-1)(a-2)\dots(a-k+1)}{k!} x^k + \dots$$

Binom yoyilmasi ko'pgina kombinatorika formulalarida asos bo'lib xizmat qiladi, masalan:

1. $a=b=1$ bo'lganda $\sum_{k=0}^n C_n^k = 2^n$ hosil bo'ladi. Bu son n ta elementli S to'planning barcha mumkin bo'lgan tartiblanmagan qism to'plamlari soniga teng.
2. $a=1, b=-1$ bo'lganda $\sum_{k=0}^n C_n^k (-1)^k = 0$ ga teng, ya'ni toq va juft o'rinda turgan binomial koeffitsiyentlar yig'indisi 2^{n-1} ga va ular o'zaro ham teng bo'ladi.

Nazorat uchun savollar:

1. Qisqa ko'paytirish formulalarini keltiring.
2. Binomial koeffitsiyent formulasini yozing.
3. N'yuton binomi deb ataluvchi formulani yana kimlarning ishlarida uchratish mumkin?
4. n ning butun bo'lmagan qiymatida N'yuton binomining ko'rinishi qanday?
5. Binomial teoremani isbotlang.
6. Paskal uchburchagi deganda nimani tushunasiz?
7. Binom yoyilmasini qaysi kombinatorika formulalarida ko'rish mumkin?
8. Paskal formulasini isbotlang.
9. G'iyosiddin Jamshid al-Koshiy "Arifmetika kaliti" asarida nima haqda yozgan?

Mustaqil yechish uchun masalalar:

Paskal uchburchagining 8-qatori quyidagicha bo'lsa,

1 7 21 35 35 21 7 1

- a) 9-qator elementlarini aniqlang;
- b) 10-qator elementlarini aniqlang;

v) Agar a, b, c – 8-qatoridagi ketma-ket joylashgan sonlar bo'lsa, u holda 10-qatoridagi sonlardan biri $a + 2b + c$ yig'indiga teng bo'lishini ko'rsating;

g) $C_n^k + 2C_n^{k-1} + C_n^{k-2} = C_{n+2}^{k+2}$ tenglikni $0 \leq k \leq n-2$ bo'lgan hol uchun

Paskal formulasidan foydalanib isbotlang.

2.5.2. Polinomial teorema.

Teorema (N'yuton binomining umumlashgan teoremasi).

k ta qo'shiluvchiga ega bo'lgan $(a_1 + a_2 + \dots + a_k)^n$ ifoda uchun N'yuton formulasi quyidagiga teng:

$$(a_1 + a_2 + \dots + a_k)^n = \sum_{\substack{r_1 \geq 0, \dots, r_k \geq 0 \\ r_1 + r_2 + \dots + r_k = n}} \frac{n!}{r_1! r_2! \dots r_k!} \cdot a_1^{r_1} \cdot a_2^{r_2} \cdot \dots \cdot a_k^{r_k}$$

ya'ni yig'indi $r_1 + r_2 + \dots + r_k = n$ tenglamaning barcha nonanfiy butun yechimlari uchun hisoblanadi.

Misol 1. N'yuton polinomi formulasiidan foydalanib $(a + b + c)^3$ ni hisoblaymiz.

Agar qavslarni ochib, soddalashtiradigan bo'lsak, bir qancha amallarni bajargandan keyin quyidagi tenglikka kelamiz:

$(a + b + c)^3 = a^3 + b^3 + c^3 + 3a^2b + 3a^2c + 3ab^2 + 3b^2c + 3ac^2 + 3bc^2 + 6abc$.
Barcha hisoblashlardan keyin 10 ta haddan iborat bo'lgan tenglik hosil bo'ladi.

Bu tenglikni polinomial formuladan oson topish mumkin: bizning misolda $n = 3$, $k = 3$, ya'ni

$$\begin{cases} r_1 \geq 0, r_2 \geq 0, r_3 \geq 0, \\ r_1 + r_2 + r_3 = 3. \end{cases}$$

Turli koeffitsiyentlar ham 3 ta, bular:

$$\frac{3!}{3! \cdot 0! \cdot 0!} = 1, \quad \frac{3!}{2! \cdot 1! \cdot 0!} = 3, \quad \frac{3!}{1! \cdot 1! \cdot 1!} = 6.$$

Natijani yozish uchun chekli sondagi r_1, r_2, r_3 indekslarni barcha mumkin bo'lgan kombinatsiyalari jadvalini tuzgan ma'qul:

r_1	r_2	r_3
3	0	0
0	3	0
0	0	3
2	1	0
2	0	1
1	2	0
0	2	1
1	0	2
0	1	2
1	1	1

U holda

$$(a + b + c)^3 = 1 \cdot (a^3 + b^3 + c^3) + 3 \cdot (a^2b + a^2c + ab^2 + b^2c + ac^2 + bc^2) + 6 \cdot abc.$$

hosil bo'ladi.

Misol 2. $(x + y + z)^9$ darajani yoyishdan hosil bo'lgan $x^3y^2z^4$ had oldidagi koeffitsiyentni toping.

Yechilishi: $\frac{9!}{3!2!4!} = 1260.$

Misol 3. 15 talabani nechta usulda 3 ta o'quv guruhiga 5 nafardan guruhlarga ajratish mumkin?

Yechilishi: Bizda 15 ta ob'yekt bor, ularni 5 tadan 3 ta guruhga ajratish kerak. Bu ishni

$$\frac{15!}{5!5!5!} = 68796$$

usulda bajarish mumkin.

Misol 4. "MASALA" so'zidagi harflarni nechta xil usulda o'rin almashtirish mumkin?

Yechilishi: Ushbu so'z 6 ta harfdan iborat bo'lgani uchun uni 6! Usulda o'rin almashtirish mumkin. Biroq unda 3 ta "A" harfi qatnashgan, "A" harflarini o'rin almashtirgan bilan yangi so'z hosil bo'lmaydi. 3 ta harfni o'rin almashtirishlar soni 3! ga tengligidan $\frac{7!}{3!} = 840$ qiymat topiladi.

Demak, "MASALA" so'zidagi harflarni o'rin almashtirish bilan 840 ta turli "so'z" hosil qilish mumkin ekan.

Nazorat uchun savollar:

1. Polinomial koeffitsiyentlar formulasini yozing.
2. Polinomial teoremani ayting va formulasini yozing.
3. Polinomial koeffitsiyentlarning xossalari yozing.

Mustaqil yechish uchun masalalar:

1. $(x + y + z)^9$ darajani yoyishdan hosil bo'lgan $x^5 y^2 z^2$ had oldidagi koeffitsiyentni toping.

2. $(x + y + 3)^7$ darajani yoyishdan hosil bo'lgan x^3y^2 had oldidagi koeffitsiyentni toping.
3. $(2x + y + z)^9$ darajani yoyishdan hosil bo'lgan $x^4y^2z^3$ had oldidagi koeffitsiyentni toping.
4. $(x + y + z - 1)^6$ darajani yoyishdan hosil bo'lgan $x^2y^2z^2$ had oldidagi koeffitsiyentni toping.
5. $(a + b)^{12}$ darajani yoyishdan hosil bo'lgan a^5b^7 had oldidagi koeffitsiyentni toping.
6. "MATEMATIKA" so'zidan nechta turli xil so'z yasash mumkin?
 - a) Ulardan nechtasi "T" harfi bilan boshlanadi?
 - b) Ulardan nechtasida ikkita "M" yonma-yon joylashgan bo'ladi?

2.6. TO'PLAMLARNI BO'LAKLARGA AJRATISH

Ushbu mavzu to'plamlar nazariyasi bo'limida qaralmadi, chunki, bo'laklarga ajratish masalasi biroz murakkab bo'lib, uni hisoblash formulalari kombinatorika formulalaridan kelib chiqadi.

2.6.1. Bo'laklarga ajratish.

Ta'rif. Aytaylik, $\mathfrak{S} = \{B_1, B_2, \dots, B_n\}$ to'plam m ta elementdan iborat X to'plamning o'zaro kesishmaydigan n ta qism to'plamga ajratilgan bo'laklari bo'lsin. Bunda $B_i \subset X$, $\bigcup_{i=1}^n B_i = X$, $B_i \neq \emptyset$, agar $i \neq j$ bo'lsa, $B_i \cap B_j = \emptyset$.

B_i qism to'plamlar bo'lakning bloklari deyiladi.

Bo'sh bo'lmagan bloklarga ega bo'laklar bilan ekvivalentlik munosabati o'rtasida o'zaro bir qiymatli akslantirish mavjud.

Agar E_1 va E_2 X to'plamning bo'laklari bo'lib, har bir E_2 blok E_1 bloklarning birlashmasidan iborat bo'lsa, u holda E_1 bo'lak E_2 ning maydalangan bo'lagi deyiladi.

Maydalangan bo'laklar qisman tartiblangan bo'ladi.

2.6.2. II tur Stirling sonlari.

Ta'rif (Jeyms Stirling (1699-1770 yy)). m ta elementli to'plamning n ta bo'lakka ajratish soniga II tur Stirling soni deyiladi va quyidagicha belgilanadi:

S_n^m . Ta'rifga ko'ra

$$S_m^m = 1, \quad m > 0 \text{ bo'lsa } S_m^0 = 0,$$

$$S_0^0 = 1, \quad n > m \text{ bo'lsa } S_m^n = 0.$$

Teorema 1. $S_m^n = S_{m-1}^{n-1} + nS_{m-1}^n$ tenglik o'rinli.

Isboti: \mathfrak{S} to'plam $M = \{1, 2, \dots, m\}$ to'plamning n ta blokka ajratilgan bo'laklari bo'lsin.

$$\mathfrak{S}_1 = \{X \in \mathfrak{S} \mid \exists B \in X \quad (B = \{m\})\},$$

$$\mathfrak{S}_2 = \{X \in \mathfrak{S} \mid \neg \exists B \in X \quad (B = \{m\})\},$$

ya'ni m ta element alohida blok hosil qiladigan bo'lak \mathfrak{S}_1 ga, qolgan barcha bo'laklar \mathfrak{S}_2 ga tegishli bo'ladi. Bundan $\mathfrak{S}_2 = \{X \in \mathfrak{S} \mid m \in X \Rightarrow |X| > 1\}$ ekanligi ma'lum. U holda $\mathfrak{S} = \mathfrak{S}_1 \cup \mathfrak{S}_2$, $\mathfrak{S}_1 \cap \mathfrak{S}_2 = \emptyset$ o'rinli. Barcha \mathfrak{S}_2 bo'laklar quyidagicha hosil qilinadi: $\{1, 2, \dots, m-1\}$ to'plamning barcha bo'laklarini n ta blokka ajratamiz, ular S_{m-1}^n ta bo'ladi va har bir blokka navbat bilan m - elementni joylashtiramiz. Natijada $S_m^n = |\mathfrak{S}| = |\mathfrak{S}_1| + |\mathfrak{S}_2| = S_{m-1}^{n-1} + nS_{m-1}^n$ tenglik hosil bo'ladi.

Teorema isbotlandi.

Teorema 2. $S_m^n = \sum_{i=0}^{m-1} C_{m-1}^i S_i^{n-1}$ tenglik o'rinli.

Isboti: \mathfrak{S} to'plam $M = \{1, 2, \dots, m\}$ to'plamning n ta blokka ajratilgan bo'laklari bo'lsin. $\overline{B} = \{B \subset 2^M \mid m \in B\}$ to'plamlar oilasini qaraymiz. U holda \mathfrak{S} to'plam $\mathfrak{S} = \bigcup_{B \in \overline{B}} \mathfrak{S}_B$ ko'rinishida bo'ladi, bunda $\mathfrak{S}_B = \{X \mid X \in \mathfrak{S} \text{ va } B \in X\}$ va agar $B^1 \neq B^2$ bo'lsa, $\mathfrak{S}_{B^1} \cap \mathfrak{S}_{B^2} = \emptyset$. Aytaylik, $B \in \overline{B}$ va $b = |B|$ bo'lsin. U holda

$$|\mathfrak{S}_B| = S_{m-b}^{n-1}.$$

$$|\{B \in \overline{B} \mid b = |B|\}| = C_{m-1}^{b-1}$$

ekanligidan

$$S_m^n = |\mathfrak{S}| = \sum_{b=1}^{m-(n-1)} \left| \bigcup_{\substack{B \in \overline{B} \\ |B|=b}} \mathfrak{S}_B \right| = \sum_{b=1}^{m-(n-1)} C_{m-1}^{b-1} S_{m-b}^{n-1} = \sum_{i=m-1}^{n-1} C_{m-1}^{m-i} S_i^{n-1} = \sum_{i=n-1}^{m-1} C_{m-1}^i S_i^{n-1}$$

tenglik hosil bo'ladi, bu yerda $i = m - b$.

Teorema isbotlandi.

2.6.3. I tur Stirling sonlari.

Ta'rif. Syur'yektiv funksiyalar soni, ya'ni m ta predmetni n ta idishga taqsimlash soniga **I tur Stirling soni** deyiladi (bunda idishlarning barchasi band qilingan bo'ladi) va quyidagicha belgilanadi: s_m^n .

Teorema. I va II tur Stirling sonlari o'rtasida $s_m^n = m! S_m^n$ bog'liqlik o'rinli.

Isboti: $\{1, 2, \dots, m\}$ to'planning har bir bo'lagiga to'plamlar oilasi syur'yektiv funktsiya sifatida mos qo'yiladi. Shunday qilib, turli to'plamlar oilasining syur'yektivlik darajasi – bu II tur Stirling sonidir S_m^n . Barcha syur'yektiv funktsiyalar soni

$$s_m^n = m! S_m^n.$$

Teorema isbotlandi.

2.6.4. Bell soni.

Ta'rif (Erik Bell (1883-1960 yy)). m ta elementli to'planning barcha bo'laklar soni Bell soni deyiladi va $B(m)$ ko'rinishida belgilanadi:

$$B(m) = \sum_{n=0}^m S_m^n \text{ va } B(0) = 1.$$

Teorema 1. $B(m+1) = \sum_{i=0}^m C_m^i B(i)$ tenglik o'rinni.

Isboti: \mathfrak{S} to'plam $M_1 = \{1, 2, \dots, m+1\}$ to'planning barcha bo'laklari to'plarni bo'lsin. M_1 to'planning $m+1$ elementdan iborat qism to'plarni to'plarnini qaraylik $\overline{B} = \{B \subset 2^{M_1} \mid m+1 \in B\}$. U holda $\mathfrak{S} = \bigcup_{B \in \overline{B}} \mathfrak{S}_B$ ko'rinishida bo'ladi, bunda $\mathfrak{S}_B = \{X \in \mathfrak{S} \mid B \in X\}$. $B \in \overline{B}$ va $b = |B|$ bo'lsin. U holda $|\mathfrak{S}_B| = B(m+1-b)$. $|\{B \in \overline{B} \mid b = |B|\}| = C_m^{b-1}$ ekanligidan

$$B(m+1) = |\mathfrak{S}| = \sum_{b=1}^{m+1} C_m^{b-1} B(m-b+1) = \sum_{i=0}^m C_m^i B(i) = \sum_{i=0}^m C_m^i B(i)$$

tenglik hosil bo'ladi, bu yerda $i = m - b + 1$.

Teorema isbotlandi.

Nazorat uchun savollar:

1. To'plarni bo'laklarga ajratish deganda nima tushunasiz?
2. Bloklar deb nimaga aytiladi?
3. II tur Stirling sonlari deb nimaga aytiladi?
4. I tur Stirling sonlari deb nimaga aytiladi?
5. Bell soni deb nimaga aytiladi?
6. II tur Stirling sonlarining xossalari nima?

MATEMATIK MANTIQ ASOSLARI

KIRISH

Matematik mantiq diskret matematikaning asosiy bo'limi bo'lib, bu bo'lim mulohazalar algebrasi bilan boshlanadi. Matematik mantiq hamda to'plamlar nazariyasi birgalikda hozirgi zamonaviy matematikaning fundamenti hisoblanadi.

Amaliy nuqtai nazardan qaraydigan bo'lsak, matematik mantiq ma'lumotlar bazasini qurishda, elektrotexnika, informatika va hisoblash texnikasi va umuman barcha raqamli qurilmalarda dasturlash tili uchun asos bo'lib xizmat qiladi. Shuning uchun ham tahliliy mulohaza yuritishga qiziquvchi har bir kishi matematik mantiq bo'linimini o'rganishi kerak bo'ladi.

Insoniyat tomonidan to'plangan matematik bilimlarni jamlashda greklarning hissasi nihoyatda salmoqli bo'lgan, shuningdek, ular mantiq, ya'ni to'g'ri mulohaza yuritish san'ati bilan ham shug'ullanishgan.

Er. av. 389 yilda Platon (er. av. 427-347 yy) asos solgan falsafiy maktabda matematikaning ilk nazariy asoslari qurildi. Platon mantiqiy teoremlarni isbotlashning quyidagi 3 ta metodini ishlab chiqqdi:

- 1) analitik metod;
- 2) sintetik metod;
- 3) apagogik metod.

Analitik metod – har biri o'zidan oldingisining bevosita natijasi bo'lgan gaplar zanjirini hosil qilishdan iborat. Bu zanjirning birinchi elementini isbotlash kerak bo'lgan mulohaza, oxirgi elementini esa isbotlangan haqiqat tashkil qiladi.

Sintetik metod – analitik metodning aksibo'lib, unda birinchi element isbotlangan haqiqat va har bitta mulohaza o'zidan keyingisining natijasi bo'ladi.

Apagogik metod – teskarisini faraz qilish yo'li bilan isbotlash metodi bo'lib, unda zanjirning birinchi elementi isbotlash kerak bo'lgan mulohazani inkor qilish bo'ladi, oxirida esa ziddiyatga olib kelinadi.

Platonning shogirdlaridan Aristotel Stagirit (er.av. 384 -322 yy) alohida ajratib turadi. Aristotelni mantiq ilmining asoschisi desak, yanglishmaymiz, chunki u o'zigacha bo'lgan barcha mantiqiy bilimlarni janrladi va mantiqiy qonuniyatlar sistemasini yaratdi. Bu qonunlardan tabiatni tadqiq qilishda mulohazalar quroli sifatida foydalandi. Aristotelning olamni o'rganishdagi bilimlari yagona bo'lib, naturlar falsafa deb nom olgan.

Qadimgi greklar matematikani ikkiga ajratib o'rganishgan:

- 1) mantiqni hisoblash san'ati deb,
- 2) arifmetikani sonlar nazariyasi deb nomlashgan.

Ushbu bobda mulohazalar va ular ustida amallar, mantiqiy bog'liqliklar, Bul (mantiqiy) formulalari, mantiq qonunlari, mantiq funksiyalari, mantiq funksiyalari uchun rostlik jadvalini tuzish va aksincha, rostlik jadvali berilgan bo'lsa, mantiq funksiyasi ko'rinishini tiklash, mukammal diz'yunktiv va kon'yunktiv normal shakllar, rele - kontakt sxemalari, rele - kontakt sxemalarida analiz, sintez, minimallashtirish masalalari, Karno kartalari, Veych diagrammalari, yechimlar daraxti haqida so'z yuritiladi.

Shuningdek, elementlari 0 va 1 dan tashkil topgan to'plamlar ustida ish ko'riladi. Bu elementlar son sifatida emas, balki mantiqiy "ha", "yo'q" ma'nolarida ishlatiladi.

3.1. MULOHAZALAR ALGEBRASI

3.1.1. Sodda va murakkab mulohazalar.

Ta'rif 1. Rost yoki yolg'onligi aniq bo'lgan darak gap mulohaza deyiladi.

So'roq va undov gaplar mulohaza hisoblanmaydi, ya'ni: "Bugun kinoga kiramizmi?" yoki "Kitobga tegma!"

Mulohazalar lotin alifbosisining bosh harflari bilan belgilanadi: A, B, C,

Agar mulohaza rost bo'lsa $A=1$, yolg'on bo'lsa $A=0$ deb belgilaymiz, ba'zi adabiyotlarda, shuningdek, "Informatika va hisoblash texnikasi" fanining "ALGOL", "BOOLEAN", "C++" dasturlash tillarida rost mulohazaga "T", ya'ni "true" so'zining, yolg'on mulohazaga "F", ya'ni "false" so'zining bosh harflari ishlatiladi.

Misol 1. 1. $A = \text{"Ikki ko'paytiruv olti 14 ga teng"} = 0$

2. $B = \text{"Ikki qo'shuv ikki 4 ga teng"} = 1$

3. $C = \text{"Qoroq"} = 1$

4. $D = \text{"Bugun dushanba bo'lsa, u holda ertaga seshanba bo'ladi"} = 1$

5. $Z = \text{"agar } 1+1=3 \text{ bo'lsa, u holda jumadan keyin yakshanba keladi"} = ?$

5-mulohazaning rost yoki yolg'onligi haqida hozircha bir nima deyish qiyin, biroq mantiqiy amallarni kiritganimizdan keyin bu savolga osongina javob topasiz.

Shunday fikrlar boriki, ular tuzilishi bo'yicha mulohazaga o'xshaydi, lekin mulohaza emas. Masalan, ikki varaq qog'oz olamiz-da, ularni 1- va 2- deb raqamlaymiz. Birinchi qog'ozga "Ikkinchi varaqda yolg'on yozilgan" deb, ikkinchi qog'ozga esa "Birinchi varaqda rost yozilgan" degan mulohazani yozamiz. Bir qaraganda sodda mulohazaga o'xshaydi, biroq ...! Savol beramiz, bu mulohazalar rostni yoki yolg'onmi? Bu fikrlar ziddiyatga olib keladi, ya'ni ularni rost yoki yolg'onligi haqida aniq gapirib bo'lmaydi. Bunday mulohazalar matematikada mantiqiy paradoks deyiladi.

Demak, ko'rinishidan mulohazaga o'xshagan har qanday gap ham mulohaza bo'lavermaydi.

Mulohazalar sodda yoki murakkab bo'lishi mumkin.

Ta'rif 2. Agar A mulohazaning o'zi bir tasdiq bo'lib, ma'nosi bo'yicha u bilan ustma - ust tushmaydigan bir qismini ajratib ko'rsatish mumkin bo'lmasa, u holda A mulohazaga sodda mulohaza deyiladi.

Misol 2. A: "0 soni 1 sonidan kichik"

B: "Bugun havo iliq".

Ta'rif 3. Sodda mulohazalardan mantiqiy bog'lovchilar yoki mantiqiy amallar yordamida hosil qilingan mulohazaga murakkab mulohaza deyiladi.

Misol 3. C: "7 tub son va 6 toq son"

D: "Oy Yer atrofida aylanadi yoki O'zbekiston Yevropada joylashgan"

Mulohaza ikkita qiymatdan birini "rost", ya'ni "1" yoki "yolg'on", ya'ni "0" ni qabul qiladi. Bu qiymatlarga mulohazaning rostlik qiymatlari deyiladi.

Ta'rif 4. Mulohazaning rostlik qiymatlaridan tuzilgan jadvalga rostlik jadvali deyiladi.

Nazorat uchun savollar:

1. Platon mantiqiy teoremlarni isbotlashning qanday metodlarini ishlab chiqqidi?
2. Mulohaza deb nimaga aytiladi? Misol keltiring.
3. Mantiqiy paradoks deganda nimani tushunasiz?
4. Sodda mulohaza deb nimaga aytiladi?
5. Murakkab mulohaza qanday tuziladi?
6. Rostlik qiymatlariga ta'rif bering.
7. Rostlik jadvali nima?
8. Rost va yolg'on mulohazaga misol keltiring.
9. Naturfalsafa so'zining ma'nosini tushuntiring.

3.1.2. Asosiy mantiqiy bog'liqliklar.

Sodda mulohazalardan murakkab mulohazalarni hosil qilish uchun mulohazalar ustida bajarilishi mumkin bo'lgan mantiqiy amal(bog'liqlik)larning belgilaridan foydalaniladi.

Mulohazalar ustida quyidagi asosiy 5 ta mantiqiy amal bajariladi: inkor qilish amali, kon'yunksiya amali, diz'yunksiya amali, implikasiya amali va ekvivalentlik amali.

Ta'rif 1. A mulohazaning inkori deb, shunday yangi mulohazaga aytiladiki, agarda A mulohaza yolg'on bo'lsa, uning inkori chin bo'ladi va aksincha. A mulohazaning inkori $\neg A$ yoki \bar{A} kabi belgilanadi va "A emas" deb o'qiladi.

Inkor qilish amali uchun rostlik jadvalini tuzish mumkin:

A	$\neg A$
1	0
0	1

Ta'rif 2. A va B mulohazalarning kon'yunksiyasi deb, A va B mulohazalar bir vaqtda rost bo'lgandagina rost bo'lib, qolgan barcha hollarda yolg'on qiymat qabul qiluvchi mulohazaga aytiladi.

A va B mulohazalarining kon'yunksiyasi $A \& B$ yoki $A \& B$ kabi belgilanadi hamda "va" deb o'qiladi. A mulohaza kon'yunksiyaning birinchi hadi, B mulohaza esa ikkinchi hadi deyiladi. Kon'yunksiya amali xuddi 0 va 1 sonlarini ko'paytirishga o'xshagan uchun ham uni ko'pincha mantiqiy ko'paytirish deb ham atashadi.

Kon'yunksiya amalining rostlik jadvali quyidagicha:

A	B	A&B
0	0	0
0	1	0
1	0	0
1	1	1

Ta'rif 3. A va B mulohazalarning diz'yunktsiyasi deb, A va B mulohazalardan kamida bittasi rost bo'lganda rost bo'lib, qolgan hollarda yolg'on qiymat qabul qiluvchi mulohazaga aytiladi.

A va B mulohazalarning kon'yunktsiyasi $A \wedge B$ kabi belgilanadi hamda "yoki" deb o'qiladi. A mulohaza diz'yunktsiyaning birinchi hadi, B esa ikkinchi hadi deyiladi.

Diz'yunktsiya amalining rostlik jadvali quyidagicha:

A	B	$A \wedge B$
0	0	0
0	1	0
1	0	0
1	1	1

Ta'rif 4. $\{0; 1; \neg; \&; \vee\}$ - to'plamga mulohazalar algebrasi yoki Bul algebrasi deyiladi.

Ta'rif 5. A va B mulohazalarning implikatsiyasi deb, A mulohaza rost bo'lib, B yolg'on bo'lgandagina yolg'on, qolgan barcha hollarda rost qiymat qabul qiluvchi mulohazaga aytiladi.

A va B mulohazalarning implikasiyasi $A \rightarrow B$ kabi belgilanadi va "A dan B kelib chiqadi" yoki "Agar A o'rinli bo'lsa, B o'rinli bo'ladi" deb o'qiladi. A mulohaza implikasiyaning birinchi hadi, B esa ikkinchi hadi hisoblanadi.

Implikasiya amali uchun rostlik jadvali quyidagicha:

A	B	$A \rightarrow B$
0	0	1
0	1	1
1	0	0
1	1	1

Misol. A: "Bugun yomg'ir yog'di" va B: "Men soyabon oldim" mulohazalar bo'lsin. Agar yomg'irda ho'l bo'lganimizni 0, quruq bo'lganimizni 1 qiymatlar bilan belgilasak, implikasiyani shunday tushuntirish mumkin:

A	B	$A \rightarrow B$
Bugun yomg'ir yog'madi	Menda soyabon yo'q	1 (quruq)
Bugun yomg'ir yog'madi	Men soyabon oldim	1 (quruq)
Bugun yomg'ir yog'di	Menda soyabon yo'q	0 (ho'l)
Bugun yomg'ir yog'di	Men soyabon oldim	1 (quruq)

Ta'rif 6. A va B mulohazalarning ekvivalentligi deb, A va B mulohazalarning bir xil qiymatlarida rost bo'lib, har xil qiymatlarida esa yolg'on bo'luvchi mulohazaga aytiladi.

A va B mulohazalarning ekvivalentligi $A \sim B$, $A \leftrightarrow B$ kabi belgilanadi va "A va B teng kuchli", "A bo'ladi, qachonki B bo'lsa" yoki "A mulohaza

B uchun yetarli va zarur" deb o'qiladi. A mulohaza ekvivalentlikning birinchi hadi, B esa ikkinchi hadi hisoblanadi.

Ekvivalentlik amali uchun rostlik jadvali quyidagicha:

A	B	$A \sim B$
0	0	1
0	1	0
1	0	0
1	1	1

Halqali yig'indi amali $A \oplus B$.

Bu amal ekvivalentlik amalining inkoriga teng bo'ladi, ya'ni

$$A \oplus B = \neg(A \sim B)$$

Halqali yig'indi amali uchun rostlik jadvali quyidagicha:

A	B	$A \oplus B$
0	0	0
0	1	1
1	0	1
1	1	0

Sheffer shtrixi $A \mid B$.

Ushbu amalni kon'yunksiya va diz'yunksiya amallari yordamida hosil qilish mumkin, ya'ni

$$A \mid B = \neg(A \& B) = \neg A \vee \neg B$$

Sheffer shtrixi amali uchun rostlik jadvali quyidagicha:

A	B	$A \mid B$
0	0	1
0	1	1
1	0	1
1	1	0

Sheffer shtrixi amali uchun quyidagi xossalar o'rinni:

$$1^{\circ} \quad A \vee B = \neg A \mid \neg B = (A \mid A) \mid (B \mid B)$$

$$2^{\circ} \quad A \& B = \neg(A \mid B) = (A \mid B) \mid (A \mid B)$$

$$3^{\circ} \quad \neg A = A \mid A$$

Pirs strelkasi $A \downarrow B$.

Ushbu amalni ham kon'yunksiya va diz'yunksiya amallari yordamida hosil qilish mumkin, ya'ni

$$A \downarrow B = \neg(A \vee B) = \neg A \& \neg B$$

Pirs strelkasi amali uchun rostlik jadvali quyidagicha:

A	B	$A \downarrow B$
0	0	1
0	1	0
1	0	0
1	1	0

Pirs strelkasi amali uchun quyidagi xossalar o'rinli:

$$1^{\circ}. \quad A \vee B = \neg(A \downarrow B) = (A \downarrow B) \downarrow (A \downarrow B)$$

$$2^{\circ}. \quad A \& B = \neg A \downarrow \neg B = (A \downarrow A) \downarrow (B \downarrow B)$$

$$3^{\circ}. \quad \neg A = A \downarrow A$$

Pirs strelkasi qatnashgan Bul ifodasini Sheffer shtrixi yordamida hosil qilish mumkin:

$$\begin{aligned} A \downarrow B &= \neg A \& \neg B = \neg \neg(A \downarrow B) = \neg [(A \downarrow A) \downarrow (B \downarrow B)] = \\ &= [(A \downarrow A) \downarrow (B \downarrow B)] \downarrow [(A \downarrow A) \downarrow (B \downarrow B)] \end{aligned} \quad (1)$$

yoki Sheffer shtrixi qatnashgan Bul ifodasini Pirs strelkasi yordamida hosil qilish mumkin:

$$\begin{aligned} A \downarrow B &= \neg A \vee \neg B = \neg (\neg A \downarrow \neg B) = \neg [(A \downarrow A) \downarrow (B \downarrow B)] = \\ &= [(A \downarrow A) \downarrow (B \downarrow B)] \downarrow [(A \downarrow A) \downarrow (B \downarrow B)] \end{aligned} \quad (2)$$

Bundan ko'rinadiki, ixtiyoriy ifodani faqat Sheffer shtrixi yordamida yo Pirs strelkasi yordamida yoki faqatgina kon'yunksiya va inkor yordamida yoki faqatgina diz'yunksiya va inkor yordamida yozish mumkin ekan.

Nazorat uchun savollar:

1. Mantiqiy amallarni sanab bering.
2. Mulohazaning inkorini tushuntiring.
3. Mulohazalarning dis'yunksiyasi deb nimaga aytiladi?
4. Mulohazalarning kon'yunksiyasi deb nimaga aytiladi?
5. Implikasiya amalini tushuntiring.
6. Qanday mulohazalar ekvivalent bo'ladi?
7. Haqiqiy yig'indi amalini tushuntiring.
8. Sheffer shtrixi qanday vazifani bajaradi?
9. Sheffer shtrixi amalining xossalari nima?
10. Pirs strelkasi qanday vazifani bajaradi?
11. Pirs strelkasi amalining xossalari nima?
12. Ifodada Pirs strelkasidan Sheffer shtrixiga qanday o'tish mumkin?
13. Ifodada Sheffer shtrixidan Pirs strelkasiga qanday o'tish mumkin?

3.1.3. Predikalar. Umumiylik va mavjudlik kvantorlari.

Bizga natural sonlar to'plami N berilgan bo'lsin.

x element N to'plamning ixtiyoriy elementi bo'lsin. U holda quyidagi jumlar

$$A(x) = \{x \text{ soni } 7 \text{ ga bo'linadi}\};$$

$$B(x) = \{x > 10\};$$

$$C(x) = \{x \text{ tub son}\};$$

$$D(x) = \{(x-5)^2 < 10\}$$

darajalar bo'lganligi uchun mulohaza hisoblanadi, lekin ularning rost yoki yolg'onligi haqida hech narsa ayta olmaymiz.

Ta'rif. Rost yoki yolg'onligi noma'lum bo'lgan mulohazalar aniqmas mulohazalar yoki predikatlar deyiladi.

Yuqoridagi misollarda x ning o'rniga turli qiymatlarni qo'ysak, turlicha mulohazalar hosil bo'ladi, ya'ni

$$A(5) = \{7 \text{ soni } 7 \text{ ga bo'linadi}\} = 1;$$

$$A(13) = \{10 \text{ soni } 7 \text{ ga bo'linadi}\} = 0$$

Natural sonlar to'plamida berilgan biror $P(x)$ predikatni olaylik.

Agar $P(x)$ predikat bo'lsa, u holda $(\forall x)P(x)$ – yozuv N to'plamda ixtiyoriy x uchun $P(x)$ mulohaza o'rinli degan ma'noni bildiradi. Bu mulohaza rost bo'ladi, qachonki x ning ixtiyoriy qiymatida $P(x)$ o'rinli bo'lsa. Agarda x ning bittagina qiymatida o'rinli bo'lmasa, $P(x)$ mulohaza yolg'on bo'ladi. \forall - belgi umumiylik kvantori deyiladi.

Misol 1. $A(x) = \{4^x + 1 \text{ soni tub son}\}$ mulohazani ixtiyoriy x uchun tekshirib ko'ramiz:

$$A(1) = \{4^1 + 1 = 5 \text{ soni tub son}\} = 1;$$

$$A(2) = \{4^2 + 1 = 17 \text{ soni tub son}\} = 1;$$

$$A(3) = \{4^3 + 1 = 257 \text{ soni tub son}\} = 1;$$

$$A(4) = \{4^4 + 1 = 65537 \text{ soni tub son}\} = 1;$$

$$A(5) = \{4^5 + 1 = 4294967296 + 1 = 4294967297 \text{ soni tub son}\} = 0,$$

demak, $x=5$ da bu mulohaza yolg'on bo'ladi.

Shuning uchun ham $(\forall x)A(x)$ mulohaza yolg'on mulohaza hisoblanadi.

Misol 2. $(\forall x)B(x) = \{x^2 - x \text{ soni } 2 \text{ ga bo'linadi}\}$ mulohazani ixtiyoriy x uchun tekshirib ko'ramiz:

$B(1)$, $B(2)$, $B(3)$, ... larda mulohaza o'rinli, lekin bu usul bilan barcha sonlarni tekshirib chiqishning iloji yo'q, shuning uchun mulohazani rostligini quyidagicha isbotlash mumkin:

$x^2-x=x(x-1)$ ketma-ket kelgan 2 ta sonning ko'paytmasi da bittasi albatta juft son bo'ladi, demak bu ko'paytma har doim 2 ga bo'linadi.

Bundan $(\forall x)B(x)$ mulohazaning rostligi kelib chiqadi.

Agar $P(x)$ predikat bo'lsa, u holda $(\exists x)P(x)$ – yozuv N to'plamda shunday x element topiladiki, uning uchun $P(x)$ mulohaza o'rinli degan ma'noni bildiradi. Bu mulohaza rost bo'ladi, qachonki x ning kamida bitta qiymatida $P(x)$ o'rinli bo'lsa. \exists - belgi mavjudlik kvantori deyiladi.

Yuqoridagi misollarda $(\exists x)A(x)$ mulohaza ham, $(\exists x)B(x)$ mulohaza ham chin bo'ladi.

Umumiylik va mavjudlik kvantორlari uchun quyidagi xossalar o'rinli:

$$1^{\circ} \quad \neg(\forall x)P(x) = (\exists x) \neg P(x)$$

$$2^{\circ} \quad \neg(\exists x)P(x) = (\forall x) \neg P(x)$$

$$3^{\circ} \quad (\forall x)[P(x) \& D(x)] = (\forall x) P(x) \& (\forall x) D(x)$$

$$4^{\circ} \quad (\exists x)[P(x) \& D(x)] \Rightarrow (\exists x) P(x) \& (\exists x) D(x)$$

$$5^{\circ} \quad (\forall x)P(x) \vee (\forall x)D(x) \Rightarrow (\forall x)[P(x) \vee D(x)]$$

$$6^{\circ} \quad (\exists x)[P(x) \vee D(x)] \Rightarrow (\exists x) P(x) \vee (\exists x) D(x)$$

Nazorat uchun savollar:

1. Predikat deb nimga aytiladi?
2. Mavjudlik kvantორini tushuntiring.
3. Umumiylik kvantորini qanday tushutirish mumkin?
4. Umumiylik va mavjudlik kvantորlarining xossalari ni aytib bering.

Mustaqil yechish uchun masalalar:

1. $P(x) = \{x^2 + 1 = 0, x\text{-haqiqiy son}\}$ bo'lsa, $(\exists x)P(x)$ predikatni so'z bilan ifodalang va rostligini tekshiring.
2. $P(y) = \{y^2 = 25, y\text{-butun son}\}$ mulohaza uchun $(\exists y)P(y)$ ni ifodalang va rostligini tekshiring.

3.1.4. Formulalar. Formulalarning teng kuchliligi.

Ta'rif 1. To'g'ri tuzilgan murakkab mulohazaga formula deyiladi.

Formulalar grek harflari bilan belgilanadi: $\alpha, \beta, \gamma, \delta, \dots$

Agar A_1, A_2, \dots, A_n mulohazalar α formulada qatnashadigan barcha mulohazalar bo'lsa, $\alpha = \alpha(A_1, A_2, \dots, A_n)$ kabi belgilanadi.

Misol 1. a) $\alpha(A) = \neg A$;

b) $\beta(A, B, C) = A \& B \rightarrow C$;

c) $\gamma(A, B) = A \& B \vee \neg A \& \neg B$

bunda A, B, C, \dots sodd mulohazalar argument yoki mantiqiy o'zgaruvchilar. $\alpha, \beta, \gamma, \dots$ formulalar esa funktsiya deb ham yuritiladi.

Formulaning to'g'ri tuzilgan bo'lishida qavslarning o'rni juda muhim. Mantiqda ham xuddi algebra va arifmetikadagi singari qavslar amallar tartibini belgilab beradi.

Formulalarda qavslarni kamaytirish maqsadida amallarning bajarilish tartibi quyidagicha kelishib olingan. Agar formulada qavslar bo'lmasa,

birinchi inkor amali - \neg ,

ikkinchi kon'yunksiya - $\&$,

uchinchi bo'lib diz'yunksiya - \vee ,

undan so'ng implikatsiya - \rightarrow va

oxirida ekvivalentlik - \sim amali bajariladi.

Agar mulohazada bir xil arnal qatnashgan bo'lsa, u holda ularni tartibi bilan ketma-ket bajariladi: $A \rightarrow B \rightarrow C \rightarrow D = (((A \rightarrow B) \rightarrow C) \rightarrow D)$.

Tashqi qavslar qo'yilmaydi. Shuning uchun ham $A \rightarrow B$ mulohazani $A \leftrightarrow (B \wedge C)$ ko'rinishda yozish mumkin.

Kon'yunksiya amali diz'yunksiyaga qaraganda kuchliroq bog'lovchi hisoblanadi, ya'ni $A \vee B \wedge C = A \vee (B \wedge C)$.

Diz'yunksiya implikatsiyaga qaraganda kuchliroq bog'laydi, shuning uchun ham quyidagi tenglik o'rinli:

$$A \wedge B \vee C \rightarrow D = ((A \wedge B) \vee C) \rightarrow D.$$

Implikatsiya ekvivalentlikka qaraganda kuchliroq, ya'ni

$$A \leftrightarrow B \rightarrow C = A \leftrightarrow (B \rightarrow C).$$

Misol 3.

$$\begin{aligned} A \rightarrow \overline{B \vee C} &\leftrightarrow C \leftrightarrow \overline{A} \vee B \rightarrow C \cdot \overline{A} \vee B \rightarrow A = \\ &= A \rightarrow \overline{B \vee C} \leftrightarrow \overline{A} \vee B \rightarrow ((C \cdot \overline{A}) \vee B) \rightarrow A = \\ &= A \rightarrow \overline{B \vee C} \leftrightarrow (\overline{A} \vee B) \rightarrow ((C \cdot \overline{A}) \vee B) \rightarrow A = \\ &= (A \rightarrow \overline{B \vee C}) \leftrightarrow ((\overline{A} \vee B) \rightarrow ((C \cdot \overline{A}) \vee B)) \rightarrow A = \\ &= ((A \rightarrow \overline{B \vee C}) \leftrightarrow ((\overline{A} \vee B) \rightarrow ((C \cdot \overline{A}) \vee B))) \rightarrow A. \end{aligned}$$

Ta'rif 2. Argumenti va funksiya qiymati 0 yoki 1 qiymatni qabul qiluvchi n ta o'zgaruvchi A_1, A_2, \dots, A_n ga bog'liq bo'lgan har qanday $\alpha = \alpha(A_1, A_2, \dots, A_n)$ funksiya **Bul funksiyasi** deyiladi.

Ta'rif 3. $\alpha(A_1, A_2, \dots, A_n)$ formulaning mantiqiy imkoniyati deb, A_1, A_2, \dots, A_n o'zgaruvchilarning bo'lishi mumkin bo'lgan barcha rosluk qiymatlariga aytiladi.

Ta'rif 4. α formulaning barcha mantiqiy imkoniyatlarini o'z ichiga olgan jadvalga α formulaning mantiqiy imkoniyatlari jadvali deyiladi.

Teorema 1. n ta o'zgaruvchi qatnashgan formulaning 0 va 1 qiymatlarni qabul qiluvchi mumkin bo'lgan mantiqiy imkoniyatlari soni 2^n ga teng.

Isboti: Ushbu sonni I_n ko'rinishida belgilab va $I_n = 2^n$ ekanligini isbotlaymiz.

Aytaylik, $n=1$ bo'lsin. Bir o'zgaruvchili 0 va 1 qiymatlarni qabul qiluvchi formulaning barcha mumkin bo'lgan mantiqiy imkoniyatlari soni 2 ta, ya'ni 0 va 1. Bundan $I_1 = 2^1$ kelib chiqadi.

Matematik induksiya qonunidan foydalanib, $n=2$, $n=3$ da, ..., $n=k$ da to'g'ri deb faraz qilib, $n=k+1$ da to'g'riligini, ya'ni $I_{k+1} = 2^{k+1}$ tenglik to'g'riligini isbotlaymiz.

Haqiqatdan, qandaydir k elementli formula $(\alpha_1, \alpha_2, \dots, \alpha_k)$ qiymatlarni qabul qilsin. U holda bu qiymatlarga 0 va 1 ni kiritish bilan 2 ta $k+1$ uzunlikdagi qiymatlarni qabul qilish mumkin, ya'ni $(\alpha_1, \alpha_2, \dots, \alpha_k, 0)$ va $(\alpha_1, \alpha_2, \dots, \alpha_k, 1)$.

Demak, $k+1$ ta elementdan iborat formulaning mantiqiy imkoniyatlari soni k elementli formula mantiqiy imkoniyatlaridan 2 marta ko'p, ya'ni $I_{k+1} = 2 \cdot I_k = 2 \cdot 2^k = 2^{k+1}$.

Teorema isbotlandi.

Ta'rif 5. Agar α va β formulalar uchun umumiy bo'lgan mantiqiy imkoniyatlarda α va β bir xil qiymat qabul qilsa, u holda α va β formulalar teng kuchli deyiladi va $\alpha \equiv \beta$ kabi belgilanadi.

Boshqacha aytganda, agarda formulalarning rostlik jadvallari mos bo'lsa, ular teng kuchli bo'ladi.

Ta'rif 6. Agar barcha mantiqiy imkoniyatlarda α formula faqat 1 ga teng qiymat qabul qilsa, α formula **ayniy haqiqat** yoki **tavtologiya** deyiladi va $\alpha=1$ yoki $\models \alpha$ kabi belgilanadi.

Misol 2. $\alpha(A, B) = \neg(A \& B) \rightarrow (\neg A \vee \neg B)$ formulaning tavtologiya bo'lishi yoki bo'lmashligini rostlik jadvalini tuzib tekshirib ko'rish mumkin:

A	B	$\neg(A \& B)$	$\neg A$	$\neg B$	$\neg A \vee \neg B$	$\alpha(A, B) =$ $\neg(A \& B) \rightarrow (\neg A \vee \neg B)$
0	0	1	1	1	1	1
0	1	1	1	0	1	1
1	0	1	0	1	1	1
1	1	0	0	0	0	1

n ta o'zgaruvchi qatnashgan formulaning mumkin bo'lgan barcha mantiqiy imkoniyatlarini yozish uchun qabul qilingan tartib mavjud. Bu ketma-ketlik $(0, 0, \dots, 0, 0)$ dan boshlanadi. Har bir keyingi qatorda ikkilik sanoq sistemasida oldingi qatoridagi qiymatlarga 1 ni qo'shamiz va nihoyat hamma qiymatlar 1 lardan iborat bo'lganda ishni tugatamiz: $(1, 1, \dots, 1, 1)$.

Ikkilik sanoq sistemasida qo'shish qoidasini eslatib o'tamiz:

$$0+0=0,$$

$$0+1=1+0=1,$$

$$1+1=0.$$

Agar o'zgaruvchilar soni 3 ta yoki 4 ta bo'lsa, u holda mos ravishda 8 ta yoki 16 ta qator hosil bo'ladi:

n=3 bo'lsa			n=4 bo'lsa			
A	B	C	A	B	C	D
0	0	0	0	0	0	0
0	0	1	0	0	0	1
0	1	0	0	0	1	0
0	1	1	0	0	1	1
1	0	0	0	1	0	0
1	0	1	0	1	0	1
1	1	0	0	1	1	0
1	1	1	0	1	1	1
			1	0	0	0
			1	0	0	1
			1	0	1	0
			1	0	1	1
			1	1	0	0
			1	1	0	1
			1	1	1	0
			1	1	1	1

Teorema 2. Agar α va $\alpha \rightarrow \beta$ formulalar tautologiya bo'lsa, u holda β ham tautologiya bo'ladi.

Isboti. Teskarisini faraz qilish yo'li bilan isbotlaymiz, ya'ni β tautologiya bo'lmasin, u holda β ning barcha qiymatlari 0 bo'ladi. Lekin α tautologiya bo'lgani uchun har doim 1 qiymat qabul qiladi. Bundan $\alpha \rightarrow \beta = 0$ ekenligi kelib chiqadi, bu esa $\alpha \rightarrow \beta$ tautologiya degan teorema shartiga zid. Biz qarana - qarshilikka duch keldik. Demak, β tautologiya bo'lar ekan. Teorema isbotlandi.

Ta'rif 7. Agar barcha mantiqiy imkoniyatlarda α formula faqat 0 ga teng qiymat qabul qilsa, α formu la ayniy yolg'on yoki ziddiyat deyiladi va $\alpha=0$ kabi belgilanadi.

Misol 3. $\alpha(A)=\neg A\sim A$ formulaning ziddiyat ekanligini rostlik jadvalini tuzib tekshirib ko'ramiz:

A	$\neg A$	$\alpha(A)=\neg A\sim A$
0	1	0
1	0	0

Nazorat uchun savollar:

1. Qanday shart bajarilsa formulalar teng kuchli bo'ladi?
2. Qanday shart bajarilganda formulaga tautologiya deyiladi?
3. Qanday shart bajarilganda formulaga ziddiyat deyiladi?
4. Rostlik jadvali ta'rifini keltiring.
5. Agar α va $\alpha \rightarrow \beta$ formulalar tautologiya bo'lsa, u holda β ham tautologiya bo'lishini isbotlang.
6. Tautologiyaga misol keltiring.
7. Ziddiyatga misol keltiring.

3.2. MANTIQ QONUNLARI

3.2.1. Mantiq qonunlari.

Bizga biror α, β, γ mantiqiy formulalar berilgan bo'lsin. Ushbu formulalar uchun quyidagi mantiq qonunlari har doim o'rinli bo'ladi:

1. Ikkilangan rad etish qonuni: $\neg \neg \alpha \equiv \alpha$

2.

3. Kon'yunksiya va diz'yunksiya amallarining idempotentlik qonuni:

$$\alpha \& \alpha \equiv \alpha,$$

$$\alpha \vee \alpha \equiv \alpha$$

4. Kon'yunksiya va diz'yunksiya amallarining kommutativlik qonuni:

$$\alpha \& \beta \equiv \beta \& \alpha,$$

$$\alpha \vee \beta \equiv \beta \vee \alpha$$

5. Kon'yunksiya va diz'yunksiya amallarining assosiativlik qonuni:

$$\alpha \& (\beta \& \gamma) \equiv (\alpha \& \beta) \& \gamma,$$

$$\alpha \vee (\beta \vee \gamma) \equiv (\alpha \vee \beta) \vee \gamma$$

6. Kon'yunksiya va diz'yunksiya amallarining bir-biriga nisbatan distributivlik qonuni:

$$\alpha \& (\beta \vee \gamma) \equiv (\alpha \& \beta) \vee (\alpha \& \gamma),$$

$$\alpha \vee (\beta \& \gamma) \equiv (\alpha \vee \beta) \& (\alpha \vee \gamma)$$

7. Y'utilish qonunlari:

$$\alpha \& (\alpha \vee \beta) \equiv \alpha,$$

$$\alpha \vee (\alpha \& \beta) \equiv \alpha$$

8. De Morgan qonunlari: $\neg (a \vee b) \equiv \neg a \ \& \ \neg b$

A	B	$\neg (A \vee B)$	$\neg A \ \& \ \neg B$
0	0	1	1
0	1	0	0
1	0	0	0
1	1	0	0

$\neg (a \ \& \ b) \equiv \neg a \vee \neg b$

A	B	$\neg (A \ \& \ B)$	$\neg A \vee \neg B$
0	0	1	1
0	1	1	1
1	0	1	1
1	1	0	0

9. Tautologiya qonuni: $a \vee \neg a \equiv 1$

10. Ziddiyat qonuni: $a \ \& \ \neg a \equiv 0$

10. 0 va 1 qonunlari: $a \ \& \ 1 \equiv a, \quad a \ \& \ 0 \equiv 0$
 $a \vee 1 \equiv 1, \quad a \vee 0 \equiv a$
 $\neg 1 \equiv 0, \quad \neg 0 \equiv 1$

11. Kontrapozitsiya qonuni: $a \rightarrow b \equiv \neg b \rightarrow \neg a$

12. Implikatsiyadan qutilish qonuni: $a \rightarrow b \equiv \neg a \vee b$

13. Ekvivalentlikdan qutilish qonuni:

$$\alpha \leftrightarrow \beta \equiv (\alpha \rightarrow \beta) \& (\beta \rightarrow \alpha) \equiv \alpha \& \beta \vee \neg \alpha \& \neg \beta$$

14. Implikatsiya xossalari: $0 \rightarrow \alpha \equiv 1$, $1 \rightarrow \alpha \equiv \alpha$,
 $\alpha \rightarrow 1 \equiv 1$, $\alpha \rightarrow 0 \equiv \neg \alpha$.

Mantiq qonunlarini isbotlash uchun ularning rostlik jadvallari tuzish yetarli.

Nazorat uchun savollar:

1. Ikkilangan rad etish qonunini keltiring va isbotlang.
2. $\&$ va \vee amallarining idempotentligi qonunini keltiring va isbotlang.
3. $\&$ va \vee amallarining kommutativligi qonunini keltiring va isbotlang.
4. $\&$ va \vee amallarining assosiativligi qonunini keltiring va isbotlang.
5. $\&$ va \vee amallarining bir-biriga nisbatan distributivlik qonunlarini keltiring va isbotlang.
6. Yutilish qonunlarini keltiring va isbotlang.
7. De Morgan qonunlarini keltiring va isbotlang.
8. $\alpha \vee \neg \alpha \equiv 1$ ekanligini isbotlang.
9. Qarama-qarshilik qonunini keltiring va isbotlang.
10. Tautologiya va qarama-qarshilik qonunlarini isbotlang.
11. Kontrpozitsiya qonunini keltiring va isbotlang.
12. Implikatsiyadan qutilish qonunini keltiring va isbotlang.
13. Ekvivalentlikdan qutilish qoidasini keltiring va isbotlang.
14. Quyida keltirilgan qonunlarni to'g'riligini isbotlang

$$\alpha \rightarrow \alpha \equiv 1, 0 \rightarrow \alpha \equiv 1, 1 \rightarrow \alpha \equiv \alpha, \alpha \rightarrow 1 \equiv 1, \alpha \rightarrow 0 \equiv \neg \alpha.$$

3.2.2. Mantiq funksiyalari uchun rostlik jadvalini tuzish.

Misol 1. $\alpha(A, B, C) = (A \vee B) \leftrightarrow (C \rightarrow \bar{A})$

formulaning rostlik jadvalini tuzish uchun amallarni bajarish ketma-ketligidan

foydalanamiz: $\alpha(0,0,0) = (0 \vee 0) \leftrightarrow (0 \rightarrow \bar{0}) = 0 \leftrightarrow (0 \rightarrow 1) = 0 \leftrightarrow 1 = 0;$

$\alpha(0,0,1) = (0 \vee 0) \leftrightarrow (1 \rightarrow \bar{0}) = 0 \leftrightarrow (1 \rightarrow 1) = 0 \leftrightarrow 1 = 0;$

$\alpha(0,1,0) = (0 \vee 1) \leftrightarrow (0 \rightarrow \bar{0}) = 1 \leftrightarrow (0 \rightarrow 1) = 1 \leftrightarrow 1 = 1;$

$\alpha(0,1,1) = (0 \vee 1) \leftrightarrow (1 \rightarrow \bar{0}) = 1 \leftrightarrow (1 \rightarrow 1) = 1 \leftrightarrow 1 = 1;$

$\alpha(1,0,0) = (1 \vee 0) \leftrightarrow (0 \rightarrow \bar{1}) = 1 \leftrightarrow (0 \rightarrow 0) = 1 \leftrightarrow 1 = 1;$

$\alpha(1,0,1) = (1 \vee 0) \leftrightarrow (1 \rightarrow \bar{1}) = 1 \leftrightarrow (1 \rightarrow 0) = 1 \leftrightarrow 0 = 0;$

$\alpha(1,1,0) = (1 \vee 1) \leftrightarrow (0 \rightarrow \bar{1}) = 1 \leftrightarrow (0 \rightarrow 0) = 1 \leftrightarrow 1 = 1;$

$\alpha(1,1,1) = (1 \vee 1) \leftrightarrow (1 \rightarrow \bar{1}) = 1 \leftrightarrow (1 \rightarrow 0) = 1 \leftrightarrow 0 = 0.$

Rostlik jadvalini tuzamiz:

A	B	C	$A \vee B$	$\neg A$	$C \rightarrow \neg A$	$\alpha(A, B, C) = (A \vee B) \leftrightarrow (C \rightarrow \neg A)$
0	0	0	0	1	1	0
0	0	1	0	1	1	0
0	1	0	1	1	1	1
0	1	1	1	1	1	1
1	0	0	1	0	1	1
1	0	1	1	0	0	0
1	1	0	1	0	1	1
1	1	1	1	0	0	0

Misol 2. $\alpha(A, B, C) = \neg(A \& B) \rightarrow (A \vee B \sim C)$

formulaning rostlik jadvalini topish uchun amallarni bajarilish ketma-ketligi: 1) qavs ichidagi amal bajariladi, 2) \neg , 3) $\&$, 4) \vee , 5) \sim va 6) \rightarrow amallari birin-ketin bajariladi va formulaning rostlik jadvali tuziladi.

A	B	C	A&B	$\neg(A \& B)$	A∨B	A∨B~C	$\alpha(A, B, C) =$ $\neg(A \& B) \rightarrow (A \vee B \sim C)$
0	0	0	0	1	0	1	1
0	0	1	0	1	0	0	0
0	1	0	0	1	1	0	0
0	1	1	0	1	1	1	1
1	0	0	0	1	1	0	0
1	0	1	0	1	1	1	1
1	1	0	1	0	1	0	1
1	1	1	1	0	1	1	1

Mustaqil yechish uchun masalalar:

Quyidagi mantiq funksiyalari uchun rostlik jadvalarini tuzing:

1. $\alpha(A, B, C) = \neg A \& B \vee \neg(A \vee C)$
2. $\alpha(A, B, C) = C \rightarrow (\neg A \vee \neg B)$
3. $\alpha(A, B, C) = A \& B \rightarrow \neg(A \vee \neg B)$
4. $\alpha(A, B, C) = (A \& B \& \neg C) \sim (\neg A \vee B)$
5. $\alpha(A, B, C) = (\neg A \vee \neg C) \sim B$
6. $\alpha(A, B, C) = (A \rightarrow B) \rightarrow \neg C$
7. $\alpha(A, B, C) = (\neg A \rightarrow \neg B) \& (B \rightarrow C)$

8. $\alpha(A,B,C) = A \& (B \rightarrow C) \vee \neg B$
9. $\alpha(A,B,C) = \neg(A \& B \vee C)$
10. $\alpha(A,B,C) = (A \sim B) \& (\neg B \sim \neg C)$
11. $\alpha(A,B,C) = (\neg A \rightarrow \neg C) \sim B$
12. $\alpha(A,B,C) = (\neg B \vee \neg C) \rightarrow (A \vee C)$
13. $\alpha(A,B,C) = A \rightarrow (\neg B \vee \neg C)$
14. $\alpha(A,B,C) = (\neg A \rightarrow B) \& (\neg B \rightarrow A) \& \neg C$
15. $\alpha(A,B,C) = C \vee A \& \neg B$
16. $\alpha(A,B,C) = A \& (\neg A \& B \vee C) \& (A \vee \neg C)$
17. $\alpha(A,B,C) = (\neg A \vee B) \& (\neg B \vee A \& C)$
18. $\alpha(A,B,C) = A \& (B \sim A) \& (\neg A \vee \neg C)$
19. $\alpha(A,B,C) = (A \rightarrow B) \& A \& \neg C$
20. $\alpha(A,B,C) = (\neg A \& B) \rightarrow (C \& A)$
21. $\alpha(A,B,C) = (A \& B \sim C) \& A \& \neg C$
22. $\alpha(A,B,C) = (A \& B \vee \neg A \& \neg B) \& (C \rightarrow B)$
23. $\alpha(A,B,C) = (A \vee B \& \neg C \vee \neg A \& \neg B \& C) \& A \& \neg B$
24. $\alpha(A,B,C) = (A \rightarrow B) \& (C \rightarrow A)$
25. $\alpha(A,B,C) = (A \& \neg B \& C \vee \neg A \& \neg C) \& B$
26. $\alpha(A,B,C) = (A \oplus B \& C) \rightarrow A \vee C$
27. $\alpha(A,B,C) = (A \mid B) \rightarrow (\neg C \& B \oplus A)$
28. $\alpha(A,B,C) = (A \rightarrow \neg B) \oplus (C \vee A)$
29. $\alpha(A,B,C) = (A \vee B) \oplus (\neg C \sim B)$
30. $\alpha(A,B,C) = ((A \downarrow B) \& \neg C) \rightarrow A \mid ((\neg B \oplus \neg C) \sim \neg(A \vee C))$
31. $\alpha(A,B,C) = (A \& B \vee \neg B) \& (A \rightarrow B)$
32. $\alpha(A,B,C) = (A \vee C \& \neg B \vee \neg A \& \neg B \& \neg C) \& A \& \neg B$
33. $\alpha(A,B,C) = (A \rightarrow C) \& (B \rightarrow A)$

3.3. MUKAMMAL DIZ'YUNKTIV VA KON'YUNKTIV NORMAL SHAKLLAR

3.3.1. Normal shakllar.

Barcha mulohazalarni tadqiq qilish oson bo'lishi uchun mantiqiy qonunlar yordamida biror umumiy standart ko'rinishga keltirish mumkin.

Ta'rif 1. A mulohaza va $\alpha \in \{0,1\}$ uning qabul qilishi mumkin bo'lgan qiymatlari bo'lsin. U holda quyidagi tenglik o'rinli:

$$A^\alpha = \begin{cases} A, & \text{agar } \alpha = 1 \\ \neg A, & \text{agar } \alpha = 0. \end{cases}$$

Tasdiq 1. $A^\alpha = 1$ bo'ladi, faqat va faqat $A = \alpha$ bo'lsa.

Isbot qilish uchun rostlik jadvalini tuzish yetarli:

A	α	A^α
0	0	1
0	1	0
1	0	0
1	1	1

Barcha mulohazalarni tadqiq qilish oson bo'lishi uchun mantiqiy qonunlar yordamida ularni biror umumiy standart ko'rinishga keltirish mumkin. Masalan, har qanday Bul algebrasi formulasi uchun unga teng kuchli bo'lgan va faqatgina inkor \neg , kon'yunksiya $\&$ va diz'yunksiya \vee amallarini o'z ichiga olgan formulani

yoziş mumkin. Buning uchun implikasiya va ekvivalentlikdan qutilish qonunlaridan foydalanish yetarli.

Ta'rif 2. A_1, A_2, \dots, A_n mulohaza o'zgaruvchilarning yoki ularni inkorlarining kon'yunksiyasi **kon'yunktiv birhad** deyiladi.

Misol. $\neg A_1 \& A_2 \& A_3, \neg A_1 \& A_2 \& A_3 \& \neg A_4, A \& B, \neg A \& B, A \& \neg C;$

$\neg(A \& C)$ – kon'yunktiv birhad bo'la olmaydi, chunki agar qavs ochilsa, kon'yunksiya amali diz'yunksiya amaliga aylanib qoladi.

Ta'rif 3. A_1, A_2, \dots, A_n mulohaza o'zgaruvchilarning yoki ularni inkorlarining diz'yunksiyasi **diz'yunktiv birhad** deyiladi.

Misol. $\neg A_1 \vee A_2 \vee A_3, A \vee B \vee \neg C.$

Ta'rif 4. Kon'yunktiv birhadlarning diz'yunksiyaga **diz'yunktiv normal shakl (DNSh)** deyiladi.

Misol. $\neg A_1 \& A_2 \& A_3 \vee \neg A_1 \& A_2 \& A_3 \& \neg A_4, A \& B \vee \neg A \& B \vee A \& \neg C;$

Ta'rif 5. Diz'yunktiv birhadlarning kon'yunksiyasiga **kon'yunktiv normal shakl (KNSh)** deyiladi.

Misol. $(\neg A_1 \vee A_2 \vee A_3) \& (A_1 \vee \neg A_2 \vee \neg A_3).$

Har bir formulaning cheksiz ko'p diz'yunktiv va kon'yunktiv normal shakllari mavjud.

3.3.2. Mukammal normal shakllar

Ta'rif 1. Agar birhad A_i yoki $\neg A_i$ formulalar jufitigidan faqat bittasi qamashgan bo'lsa, A_1, A_2, \dots, A_n mulohaza o'zgaruvchilarning kon'yunktiv yoki diz'yunktiv birhadlari **mukammal** deyiladi.

Ta'rif 2. Agar kon'yunktiv normal shaklda A_1, A_2, \dots, A_n mulohaza o'zgaruvchilarning takrorlanmaydigan mukammal diz'yunktiv birhadlari qatnashgan bo'lsa, u holda mukammal kon'yunktiv normal shakl (MKNSh) deyiladi.

Ta'rif 3. Agar diz'yunktiv normal shaklda A_1, A_2, \dots, A_n mulohaza o'zgaruvchilarning takrorlanmaydigan mukammal kon'yunktiv birhadlari qatnashgan bo'lsa, u holda mukammal diz'yunktiv normal shakl (MDNSh) deyiladi.

Misol 1. $A \& B \vee \neg A \& B \vee A \& \neg B$ – MDNSh;

$(\neg A_1 \vee A_2 \vee A_3) \& (A_1 \vee \neg A_2 \vee \neg A_3)$ – MKNSh bo'ladi

Misol 2. $\alpha = (A \& B \rightarrow \bar{C}) \leftrightarrow (C \rightarrow B \& \bar{A})$ formulani DNSh ga keltiramiz.

$$\begin{aligned} \alpha &= (\overline{A \& B} \vee \bar{C}) \leftrightarrow (\bar{C} \vee \bar{A} \& B) = (\bar{A} \vee \bar{B} \vee \bar{C}) \leftrightarrow (\bar{C} \vee \bar{A} \& B) = (\bar{A} \vee \bar{B} \vee \bar{C}) \& (\bar{C} \vee \bar{A} \& B) \vee \\ &\vee (\overline{\bar{A} \vee \bar{B} \vee \bar{C}}) \& (\overline{\bar{C} \vee \bar{A} \& B}) = \bar{A} \& \bar{C} \vee \bar{B} \& \bar{C} \vee \bar{C} \& \bar{C} \vee \bar{A} \& \bar{A} \& B \vee \bar{B} \& \bar{A} \& B \vee \\ &\vee \bar{C} \& \bar{A} \& B \vee \bar{A} \& \bar{B} \& \bar{C} \& \bar{C} \& \bar{C} \& (\bar{A} \vee \bar{B}) = \bar{A} \bar{C} \vee \bar{B} \bar{C} \vee \bar{C} \vee \bar{A} \bar{B} \vee 0 \cdot \bar{A} \vee \\ &\vee \bar{A} \bar{B} \bar{C} \vee \bar{A} B C \& (\bar{A} \vee \bar{B}) = \bar{A} \bar{C} \vee \bar{B} \bar{C} \vee \bar{A} \bar{B} \vee \bar{A} \bar{B} \bar{C} \vee \bar{C} \vee \bar{A} B C = \\ &= \bar{C} (\bar{A} \vee \bar{B} \vee \bar{A} \bar{B} \vee 1) \vee \bar{A} \bar{B} \vee \bar{A} B C = \bar{C} \vee \bar{B} (\bar{A} \vee \bar{A}) (\bar{A} \vee C) = \bar{C} \vee \bar{A} \bar{B} \vee \bar{B} C = \\ &= \bar{C} \vee \bar{B} \vee \bar{A} \bar{B} = B \vee \bar{C} \text{ – MDNSh.} \end{aligned}$$

Misol 3. $\alpha = (A \leftrightarrow BC) \rightarrow (\bar{B} \leftrightarrow A)$ formulani MDNSh ga keltiramiz.

$$\begin{aligned} \alpha &= (A \cdot B \cdot C \vee \bar{A} \cdot \bar{B} \cdot \bar{C}) \rightarrow (\bar{B} \cdot A \vee \bar{B} \cdot \bar{A}) = \overline{A \cdot B \cdot C \vee \bar{A} \cdot \bar{B} \cdot \bar{C}} \vee \bar{A} \bar{B} \vee \bar{A} \bar{B} = \\ &= \overline{A \cdot B \cdot C} \vee \overline{\bar{A} \cdot \bar{B} \cdot \bar{C}} \vee \bar{A} \bar{B} \vee \bar{A} \bar{B} = \bar{A} \bar{B} \cdot \bar{A} \bar{B} \cdot \bar{A} \bar{C} \vee \bar{A} \bar{B} \vee \bar{A} \bar{B} = \\ &= (\bar{A} \vee \bar{B} \vee \bar{C}) (A \vee B) (A \vee C) \vee \bar{A} \bar{B} \vee \bar{A} \bar{B} = (\bar{A} \bar{B} \vee \bar{A} \bar{B} \vee \bar{C} \bar{A} \vee \bar{C} \bar{B}) (A \vee C) \vee \bar{A} \bar{B} \vee \bar{A} \bar{B} = \end{aligned}$$

$$\begin{aligned}
 &= \overline{ABC} \vee \overline{BA}A \vee \overline{BAC} \vee \overline{CAA} \vee \overline{CBA} \vee \overline{AB} \vee \overline{AB} = \\
 &= \overline{ABC} \vee \overline{AB} \vee \overline{ABC} \vee \overline{AC} \vee \overline{ABC} \vee \overline{AB} \vee \overline{AB} = \overline{AB}(C \vee 1) \vee \overline{AB}(1 \vee C) \vee \overline{AC}(1 \vee B) = \\
 &= \overline{AB} \vee \overline{AB} \vee \overline{AC} = \text{MDNSH.}
 \end{aligned}$$

Xuddi shuningdek, ixtiyoriy formulani MKNSh ga keltirish mumkin.

Nazorat uchun savollar:

1. Kon'yunktiv birhad deb nimaga aytiladi?
2. Diz'yunktiv birhad ta'rifini ayting.
3. Diz'yunktiv normal shakl deb nimaga aytiladi?
4. Kon'yunktiv normal shakl ta'rifini bering.
5. Mukammal kon'yunktiv (diz'yunktiv) birhad deganda nimani tushunasiz?
6. Mukammal kon'yunktiv normal shaklga ta'rif bering.
7. Mukammal diz'yunktiv normal shakl ta'rifini ayting.

Mustaqil yechish uchun masalalar:

Quyidagi formulalarni MDNSh va MKNShga keltiring:

1. $\alpha(x, y, z) = (x \oplus y \& z) \rightarrow x \vee z$
2. $\alpha(x, y, z) = (x | y) \rightarrow (\neg z \& y \oplus x)$
3. $\alpha(x, y, z) = (x \rightarrow \neg y) \oplus (z \vee x)$
4. $\alpha(x, y, z) = (x \vee y) \oplus (\neg z \sim y)$
5. $\alpha(x, y, z) = ((x \downarrow y) \& \neg z) \rightarrow x | ((\neg y \oplus \neg z) \sim (x \vee z))$
6. $\alpha(x, y, z) = (x \& y \vee \neg y) \& (x \rightarrow z)$
7. $\alpha(x, y, z) = (x \vee z \& \neg y \vee \neg x \& \neg y \& \neg z) \& x \& \neg y$
8. $\alpha(x, y, z) = (x \rightarrow z) \& (y \rightarrow x)$

9. $\alpha(x, y, z) = ((x \downarrow y) \mid z) \mid x \downarrow y$
10. $\alpha(x, y, z) = ((x \rightarrow y) \oplus (x \rightarrow y \& z)) \vee (x \downarrow y)$
11. $\alpha(x, y, z) = (x \rightarrow y) \oplus ((y \rightarrow z) \rightarrow x \& y)$
12. $\alpha(x, y, z) = (x \vee y) \downarrow (\neg x \rightarrow (y \rightarrow z))$
13. $\alpha(x, y, z) = x \rightarrow ((y \rightarrow z) \rightarrow y \& z)$
14. $\alpha(x, y, z) = (x \vee (y \rightarrow z)) \& (x \oplus y)$
15. $\alpha(x, y, z) = (x \downarrow y) \vee (x \rightarrow z) \mid (x \oplus y \& z)$
16. $\alpha(x, y, z) = (\neg x \vee y) \& ((y \mid \neg z) \rightarrow (x \rightarrow x \& z))$
17. $\alpha(x, y, z) = (x \mid \neg y) \& ((y \downarrow \neg z) \rightarrow (x \oplus z))$
18. $\alpha(x, y, z) = x \& ((y \& z) \oplus (\neg x \rightarrow z))$
19. $\alpha(x, y, z) = (((x \mid y) \downarrow \neg z) \mid y) \& (\neg y \rightarrow z)$
20. $\alpha(x, y, z) = ((x \mid y) \downarrow (y \mid \neg z)) \vee (x \oplus (y \rightarrow z))$
21. $\alpha(x, y, z) = (x \& y \rightarrow z) \& ((x \downarrow y) \mid z)$
22. $\alpha(x, y, z) = (x \rightarrow y) \downarrow (x \vee x \& y \vee \neg y \& z \vee \neg (x \& y \& z))$
23. $\alpha(x, y, z) = (\neg x \rightarrow (y \rightarrow z)) \downarrow (x \vee \neg y)$
24. $\alpha(x, y, z) = x \vee ((y \rightarrow z) \rightarrow y \& z)$
25. $\alpha(x, y, z) = (x \vee (y \rightarrow z)) \vee (x \oplus y)$
26. $\alpha(x, y, z) = (\neg x \downarrow y) \& ((x \vee z) \mid (x \& y \& z))$
27. $\alpha(x, y, z) = (\neg x \vee y) \& ((y \& \neg z) \rightarrow (x \rightarrow x \& z))$
28. $\alpha(x, y, z) = (x \vee \neg y) \& ((y \& \neg z) \rightarrow (x \& z))$
29. $\alpha(x, y, z) = x \& ((y \& z) \vee (\neg x \rightarrow z))$
30. $\alpha(x, y, z) = ((x \& y \& \neg z) \vee y) \& (\neg y \rightarrow z)$

3.3.3. Rostlik jadvali bo'yicha mantiq funksiyasi ko'rinishini tiklash.

Biz shu paytgacha berilgan formula uchun rostlik jadvalarini tuzishni qarab chiqdik. Savol tug'iladi: Aksincha, rostlik jadvali berilgan bo'lsa, mantiq funksiyasini tiklash mumkinmi?

Aytaylik, bizga A , B , C mulohaza o'zgaruvchilariga bo'liq bo'lgan $\alpha = \alpha(A, B, C)$ formula berilgan bo'lsin.

A	B	C	$\alpha = \alpha(A, B, C)$
0	0	0	0
0	0	1	1
0	1	0	1
0	1	1	0
1	0	0	0
1	0	1	1
1	1	0	0
1	1	1	1

Ushbu rostlik jadvaliga ega bo'lgan cheksiz ko'p teng kuchli formulalar mavjud. Ulardan ikkitasini, ya'ni rostlik jadvalidagi birlar qatori bo'yicha va rostlik jadvalidagi nolilar qatori bo'yicha mantiq funksiyasi ko'rinishini tiklashni ko'rib chiqamiz:

- 1) Rostlik jadvalida $\alpha = \alpha(A, B, C)$ formula 1 ga teng bo'lgan qator raqamlarini yozib chiqamiz.

2-qator

3-qator

6-qator

8-qator

Har bir qatorning mantiqiy imkoniyatlaridagina 1 ga teng bo'lgan, boshqa imkoniyatlarda esa 0 ga teng bo'lgan formulalarni yozib chiqamiz. Buning uchun 1 ga teng bo'lgan qatordagi mulohazalar qiymatlarini rostga aylantirib, mantiq qonunlariga asosan mulohazalar kon'yunksiyalarini olish kerak.

2-qator uchun: $\neg A \& \neg B \& C;$ 3- qator uchun: $\neg A \& B \& \neg C;$ 6-qator uchun: $A \& \neg B \& C;$ 8-qator uchun: $A \& B \& C$

bo'ladi. Agar 2-,3-,6-,8-qatorlar bo'yicha olingan formulalar diz'yunksiyalari olinsa, hosil bo'lgan formula izlanayotgan formula bo'ladi:

$$\alpha = \alpha(A, B, C) = \neg A \& \neg B \& C \vee \neg A \& B \& \neg C \vee A \& \neg B \& C \vee A \& B \& C \quad (1)$$

2) Rostlik jadvalida $\alpha = \alpha(A, B, C)$ formula 0 ga teng bo'lgan qator no'xtonlarini yozib chiqamiz:

1-qator

4-qator

5-qator

7-qator

Har bir qator mantiqiy imkoniyatlaridagina 0 ga teng bo'lgan, boshqa imkoniyatlarda esa 1 ga teng bo'lgan formulalarni yozib chiqamiz. Buning uchun 0 ga teng bo'lgan qatordagi fikr o'zgaruvchilari qiymatlarini 0(yolg'on) ga aylantirib, fikr o'zgaruvchilari diz'yunksiyasini olish lozim. U holda

1-qator uchun: $A \vee B \vee C;$ 4-qator uchun: $A \vee \neg B \vee \neg C;$ 5-qator uchun: $\neg A \vee B \vee C;$

7-qator uchun: $\neg AV \neg BVC$

bo'ladi.

Agar qatorlar bo'yicha olingan formulalar kon'yunksiyasi olinsa, hosil bo'lgan formula izlanayotgan formula bo'ladi.

$$\alpha = \alpha(A, B, C) = (AVBVC) \& (AV \neg BV \neg C) \& (\neg AVBVC) \& (\neg AV \neg BVC) \quad (2)$$

(1) - MDNSh va (2) - MKNShlar teng kuchli, chunki ularning rostlik jadvallari bir xil. Shuning uchun ham ulardan qaysi bironi tuzish kamroq vaqt talab qilsa, shu ko'rinishini tiklash maqsadga muvofiq.

Rostlik jadvali berilgan ixtiyoriy formulani yuqoridagi uslubda qurish mumkin.

Teorema 1. Har bir ayniy yolg'ori bo'lmagan formula yagona mukammal diz'yunktiv normal shaklga ega.

Teorema 2. Har bir tautologiya bo'lmagan formula yagona mukammal kon'yunktiv normal shaklga ega.

Nazorat uchun savollar:

1. Mantiq formulasi ko'rinishi 0 ga teng qiymatlari bo'yicha qanday tiklanadi?
2. Mantiq formulasi ko'rinishi 1 ga teng qiymatlari bo'yicha qanday tiklanadi?
3. Tautologiya va ziddiyat formulalari uchun MKNSh va MDNSh haqidagi teoremlarni ayting.

Mustaqil yechish uchun masalalar:

Quyidagi rostlik jadvali berilgan mantiq funksiyalarining formulasini tiklang:

A	B	C	α_1	α_2	α_3	α_4	α_5	α_6	α_7	α_8	α_9	α_{10}	α_{11}	α_{12}	α_{13}	α_{14}	α_{15}
0	0	0	1	1	1	0	0	1	1	0	0	0	1	0	0	0	0
0	0	1	1	0	0	1	0	1	1	1	1	1	1	1	1	1	0
0	1	0	0	1	0	0	1	1	0	1	0	0	0	1	1	1	1
0	1	1	0	0	1	1	1	0	0	0	1	0	0	0	1	1	1
1	0	0	0	0	1	1	1	0	0	1	0	1	1	0	0	0	1
1	0	1	0	1	0	0	1	0	1	0	0	1	1	1	0	0	0
1	1	0	1	0	0	1	0	0	0	1	1	1	0	1	0	1	0
1	1	1	1	1	1	1	0	0	1	1	0	0	0	0	1	0	1

3.3.4. Jegalkin polinomi.

Ta'rif 1. Mantiqiy formulaning kon'yunksiya va simmetrik ayirma amallari bilan ifodalangan shakliga Jegalkin polinomi (ko'phadi) deyiladi.

Mantiqiy formulani Bul ifodasidan Jegalkin polinomi ko'rinishiga keltirish uchun 4 ta bosqich amalga oshiriladi:

1-bosqich: Berilgan formulani diz'yunktiv normal shaklga keltirish;

2-bosqich: Quyidagi formuladan foydalanib, diz'yunktsiya amalidan qutilish kerak:

$$x \vee y = \overline{\overline{x} \& \overline{y}};$$

3-bosqich: Inkor amalinin simmetrik ayirma amali bilan almashtirish:

$$\overline{x} = x \oplus 1;$$

4-bosqich: Hosil bo'lgan ifodani soddalashtirish, bunda

$$x \oplus x = 0$$

tenglikdan foydalaniлади.

$$\begin{aligned} \text{Misol. } x \rightarrow y &= \overline{x \vee y} = \overline{\overline{\overline{x} \& \overline{y}}} = \overline{x \& \overline{y}} = (x \& (y \oplus 1)) \oplus 1 = \\ &= (x \& y \oplus x) \oplus 1 = x \& y \oplus x \oplus 1. \end{aligned}$$

Ta'rif 2. O'zgaruvchilarida inkor qatnashmagan kon'yunktsiyaga monoton kon'yunktsiya deyiladi.

Ko'yunktsiya amali bilan birlashtirilgan o'zgaruvchilar soniga polinom rangi deyiladi.

Ta'rif 3. Polinomda qatnashgan hadlarning eng katta rangi **Jegalkin** ko'phadi darajasi deyiladi.

Nazorat uchun savollar:

1. Jegalkin polinomi ta'rifini ayting. Misol keltiring.
2. Jegalkin ko'phadi darajasi deganda nimani tushunasiz?
3. Bul ko'phadlari bilan Jegalkin ko'phadining farqi nimada?

Mustaqil yechish uchun masalalar:

Quyidagi Bul formulalarini Jegal'kin polinomiga o'tkazing:

1. $\alpha(A, B, C) = \neg A \& B \vee \neg(A \vee C)$
2. $\alpha(A, B, C) = C \rightarrow (\neg A \vee \neg B)$
3. $\alpha(A, B, C) = A \& B \rightarrow \neg(A \vee \neg B)$
4. $\alpha(A, B, C) = (A \& B \& \neg C) \sim (\neg A \vee B)$
5. $\alpha(A, B, C) = (\neg A \vee \neg C) \sim B$
6. $\alpha(A, B, C) = (A \rightarrow B) \rightarrow \neg C$
7. $\alpha(A, B, C) = (\neg A \rightarrow \neg B) \& (B \rightarrow C)$
8. $\alpha(A, B, C) = A \& (B \rightarrow C) \vee \neg B$
9. $\alpha(A, B, C) = \neg(A \& B \vee C)$
10. $\alpha(A, B, C) = (A \sim B) \& (\neg B \sim C)$
11. $\alpha(A, B, C) = (\neg A \rightarrow \neg C) \sim B$
12. $\alpha(A, B, C) = A \rightarrow (\neg B \vee \neg C)$
13. $\alpha(A, B, C) = (\neg A \rightarrow B) \& (\neg B \rightarrow A) \& \neg C$
14. $\alpha(A, B, C) = C \vee A \& \neg B$
15. $\alpha(A, B, C) = A \& (\neg A \& B \vee C) \& (A \vee \neg C)$
16. $\alpha(A, B, C) = (\neg A \vee B) \& (\neg B \vee A \& C)$
17. $\alpha(A, B, C) = A \& (B \sim A) \& (\neg A \vee \neg C)$
18. $\alpha(A, B, C) = (A \rightarrow B) \& A \& \neg C$
19. $\alpha(A, B, C) = (\neg A \& B) \rightarrow (C \& A)$
20. $\alpha(A, B, C) = (A \& B \sim C) \& A \& \neg C$
21. $\alpha(A, B, C) = (A \& B \vee \neg A \& \neg B) \& (C \rightarrow B)$
22. $\alpha(A, B, C) = (A \vee B \& \neg C \vee \neg A \& \neg B \& C) \& A \& \neg B$
23. $\alpha(A, B, C) = (A \rightarrow B) \& (C \rightarrow A)$
24. $\alpha(A, B, C) = (A \& \neg B \& C \vee \neg A \& \neg C) \& B$

3.4. RELE KONTAKT SXEMALARI

3.4.1. Ikkilik mantiqiy elementlar.

Bul ifodalari Djorj Bul (1815-1864 yy) tomonidan rivojlantirilib, XX asrning 30-yillarida raqamli mantiqiy sxemalarda qo'llanilgan edi.

Raqamli elektron qurilmalarni tuzish bilan shug'ullanuvchi mutaxassislar Bul algebrasi masalalarini chuqur o'rganishlari kerak bo'ladi. Bul algebrasi funksiyalarining asosiy tadbirlaridan biri bu funksional elementlar sxemasini qurishdir. Bunga misol qilib, EVM, mikrokal'kulyator va boshqa raqamli elektron qurilmalarning ishlash printipini ko'rsatishimiz mumkin.

Har qanday raqamli sxemalarning asosiy tarkibiy qismini mantiqiy elementlar tashkil etadi.

Agar C zanjirdan tok o'tayotgan bo'lsa, u holda $C=1$ deb;

agar C zanjirdan tok o'tmasa, u holda $C=0$ deb yozishimiz mumkin.

Demak, mantiqiy elementlar ikkita raqam, 0 va 1 raqamlari bilan ish ko'radi, shuning uchun ham ikkilik mantiqiy elementlar deyiladi.

Raqamli elektrotexnika sohasida ishlaydigan mutaxassislar ikkilik mantiqiy elementlarga bilan har kuni ro'para kelishadi. Mantiqiy elementlarni oddiy o'chirib-yoqgichlarda, relada, vakuum lampa, tranzistorlar, diodlar yoki integral sxemalarda yig'ish mumkin. Integral sxemalarning keng qo'llanilishi va arzonligini hisobga olsak, raqamli qurilmalarni faqat integral sxemalarning o'zidan yig'ish maqsadga muvofiq. Asosiy mantiqiy elementlar 7 xil: "va", "yoki", "emas", "va-emas", "yoki-emas", "birortasi, lekin hammasi emas", "birortasi, lekin hammasi emasga yo'l qo'ymaydigan".

Mantiqiy elementlar u yoki bu vazifani bajarganligi sababli ularni **funktional elementlar** deyiladi. Funktsional elementlarni bir-biriga ulash natijasida **funktional sxemalar** hosil qilinadi.

1. "Va" mantiqiy elementi.

"Va" mantiqiy elementini ba'zan "hammasi yoki hech narsa" elementi deb ham yuritiladi. Mexanik o'chirib-yoqgich orqali "va" mantiqiy elementining ishlash printsipini ko'rib chiqamiz.

Agar zanjirda A va B kalitlar ketma-ket ulangan bo'lsa, u holda C zanjirda L_1 lampa yonishi uchun A va B kalitlarning ikkalasi ham yopilishi kerak, ya'ni $A=1$ va $B=1$ bo'lishi kerak. Kon'yunksiya xuddi shu xossalarga ega. Demak, "va" mantiqiy elementining ishlash printsipi kon'yunksiya bilan bir xilda ekan.



"Va" mantiqiy elementining sxematik tasvirida ikkita kirish, bitta chiqish bo'lib, u quyidagicha:



“Mantiqiy” terminidan odatda biror bir qarorni qabul qilish jarayonida foydalaniladi. Shuning uchun ham mantiqiy elementni shunday sxema deyish mumkinki, unda kirish signallariga asoslanib, chiqishda “ha” yoki “yo‘q” deyish hal qilinadi. Yuqorida ko‘rganimizdek, lampa yonishi uchun uning ikkala kirish joyida “ha” signali (kalitlar yopilishi kerak) berilishi kerak.

Rostlik jadvali “va” mantiqiy elementining ishlashi haqida to‘liq ma’lumot beradi:

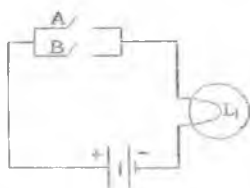
A	B	$Y=A\&B$
0	0	0
0	1	0
1	0	0
1	1	1

“Va” mantiqiy elementi uchun kiritilgan belgilash A va B kirish signallari “va” mantiqiy funksiyasi bilan bog‘langan bo‘lib, chiqishda Y signal paydo bo‘ladi” deb o‘qiladi. Ushbu tasdiqning qisqartirilgan ifodasi Bul ifodasi ($A\&B$) deyiladi. Bul ifodasi – universal til bo‘lib, injenerlar va texnik xodimlar tomonidan raqamli texnikada keng qo‘llaniladi.

2. “Yoki” mantiqiy elementi

“Yoki” mantiqiy elementini ba‘zan “hech bo‘lmasa birortasi yoki hammasi” deb ham yuritiladi. Oddiy o‘chirib-yoqgichlar yordamida “yoki” mantiqiy elementining ishlash printsipini quyidagicha tushuntirish mumkin:

C zanjirda A va B kalitlar parallel ulangan bo‘lsa, “yoki” mantiqiy elementi ishlaydi:



Chizmadan ko'rinadiki, kalitlarning hech bo'lmaganda bittasini yoki ikkalasini ham yopganda L_1 lampa yonadi.

“Yoki” mantiqiy elementi sxematik ko'rinishi quyidagicha:



Bul ifodasi $A \cup B$ (yoki $A+B=Y$) ko'rinishda bo'ladi.

“Yoki” mantiqiy elementining rostlik jadvali uning ishlashi haqida to'liq ma'lumot beradi:

A	B	$A \cup B$
0	0	0
0	1	1
1	0	1
1	1	1

3. “Emas” mantiqiy elementi

“Va” hamda “yoki” mantiqiy elementlari ikkita kirish va bitta chiqishga ega edi. “Emas” sxemasida esa bitta kirish va bitta chiqish mavjud. “Emas” mantiqiy elementini inverter deb ham yuritiladi. Uning asosiy vazifasi chiqishda kirish signaliga teskari bo'lgan signalni ta'minlashdan iborat.

Invertor quyidagicha belgilanadi:



Bul ifodasi \bar{A} ko'rinishda bo'ladi.

“Emas” mantiqiy elementi uchun rostlik jadvali:

A	\bar{A}
1	0
0	1

4. “Va-emas” mantiqiy elementi

“Va-emas” mantiqiy elementini Sheffer sxirixi deb ham yuritiladi, u inventoriangan “va”ni amalga oshiradi. Ushbu mantiqiy amal quyidagicha belgilanadi:



Bu belgini quyidagicha yoyib ham yozish mumkin.



“Va-emas” mantiqiy elementining bul ifodasi $\overline{A \& B}$ ko'rinishda bo'ladi.

“Va-emas” mantiqiy elementining rostlik jadvali yordamida ishlash prinsipini ko’rish mumkin:

A	B	A&B	$Y = \overline{A \& B}$
0	0	0	1
0	1	0	1
1	0	0	1
1	1	1	0

5. “Yoki-emas” mantiqiy elementi

“Yoki-emas” mantiqiy elementini Pirs strelkasi deb ham yuritiladi, u inventori langan “yoki”ni amalga oshiradi, sxematik ko’rinishi quyidagicha:



Bu belgini quyidagicha yoyib ham yozish mumkin:



“Yoki-emas” mantiqiy elementning rostlik jadvali yordamida uning ishlash printsipini ko'rish mumkin:


A	B	$A \vee B$	$Y = \overline{A \vee B}$
0	0	0	1
0	1	1	0
1	0	1	0
1	1	1	0

6. “Biro rtasi, lekin hammasi emas”

Ushbu mantiqiy elementning Bul ifodasi:

$$A \oplus B = \overline{(A \wedge B)}$$

Uning sxematik ko'rinishi quyidagicha:



“Biro rtasi, lekin hammasi emas” mantiqiy elementining ishlash printsipi quyidagicha:

A	B	$A \oplus B$
0	0	0
0	1	1
1	0	1
1	1	0

7. “Birortasi, lekin hammasi emasga yo'l qo'ymaydigan”

Mantiqiy elementning Bul ifodasi: $\neg(A \oplus B) = A \sim B$

Uning sxematik ko'rinishi quyidagicha:

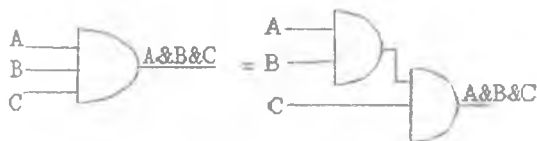


“Birortasi, lekin hammasi emasga yo'l qo'ymaydigan” mantiqiy elementning ishlash printsipti quyidagicha:

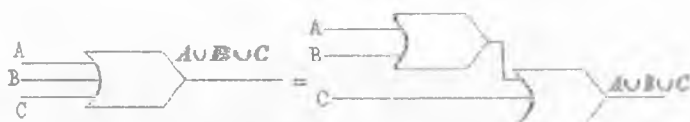
A	B	$A \oplus B$	$\neg(A \oplus B) = A \sim B$
0	0	0	1
0	1	1	0
1	0	1	0
1	1	0	1

Ikkitadan ortiq kirishga ega bo'lgan mantiqiy elementlar uchun ham mos ravishda quyidagicha belgilashlar ishlatiladi.

3 ta kirishga ega “va” mantiqiy elementi:



3 ta kirishga ega bo'lgan “yoki” mantiqiy elementning sxematik ko'rinishi quyidagicha:



3.4.2. Ikkiilik mantiqiy elementlarining qo'llanilishi.

Mantiqiy elementlarning shartli belgilanishi, rostiik jadvallari va Bul ifodalari elektrotexnika sohasidagi real masalalarni yechishda juda qo'l keladi. Har qanday fikrlar algebrasi formulasini "inkor - \neg ", "va - $\&$ ", "yoki - \vee " amallari orqali yozish mumkin, buning uchun "implikatsiya - \rightarrow ", "ekvivalentlik - \sim " dan qutilish qoidalarini qo'llash yetarli.

\neg , $\&$ va \vee amallaridan iborat formulaga mos paralel va ketma-ket ulash qoidalarga asoslangan sxemalar tuzish mumkin va aksincha, ixtiyoriy raqamli sxemaga mos \neg , $\&$ va \vee amallaridan foydalanib, Bul formulasini tuzish mumkin.

Agar biror bir murakkab sxema berilgan bo'lsa, unga mos formulani yoyib, mantiq qonunlariga asosan soddalashtirib, soddalashtirilgan formulaga mos sxemani qayta tuzilsa, hosil bo'lgan soddalashtirilgan sxema boshlang'ich sxemaning vazifasini bajaradi. Bu amaliyotga minimallashtirish deyiladi.

Misol. Ushbu $(\bar{A} \& \bar{B}) \vee (A \& \bar{B}) \vee (\bar{A} \& B)$ formulaga mos sxema:



Yuqoridagi sxemani mantiq qonunlari yordamida soddalashtirib, tuzilgan sxema



Ikkala sxema ham bir xil vazifani bajaradi, chunki ularning rostlik jadvallari bir xil.

3.43. Mantiqiy sxemalarda analiz va sintez masalalari.

Sintez. Mantiqiy sxemalarning sintezi masalasi quyidagi 3 ta bosqichdan iborat:

- 1) berilgan fizikaviy ma'lumotlar bo'yicha biror matematik ifoda (tenglama, formula) tuziladi va minimallashtiriladi;
- 2) minimallashtirilgan matematik ifodaning qandaydir funktsiyani bajaruvchi sxemasi chiziladi;
- 3) hosil qilingan sxema biror vazifani bajaruvchi haqiqiy sxemaga aylantiriladi.

Analiz. Analiz masalasi – bu ikkinchi bosqichning teskarisi hisoblanadi, ya'ni berilgan mantiqiy sxema bo'yicha matematik ifodani tuzish va tadqiq qilish.

Bizni bu uchta bosqichdan ikkinchisi ko'proq qiziqtiradi. Shuning uchun har doim sintez masalasini yechishda biror mantiqiy $\alpha = \alpha(A_1, A_2, \dots, A_n)$ funktsiya berilgan bo'ladi, maqsad chiqishda berilgan mantiqiy funktsiya α ning vazifasini bajaruvchi mantiqiy zanjir sxemasini tuzishdan iborat.

Bundan keyin mantiqiy zanjir sxemasi deganda „va“, „yoki“, „emas“ Bul algebrasi bazislari orqali hosil qilingan sxemani tushunamiz.

Misol. (Sintez) Talabafarga 3 kishi yashirin ovoz berganda ko'pchilik ovoz bilan qaror qabul qiladigan sxemani tuzish vazifasi yuklatilgan bo'lsin. Chiqarilgan qarorga ovoz beruvchilar rozi bo'lishsa, o'zlariga tegishli tugmachani bosishadi, aks holda tugmachalarga tegishmaydi. Agar ko'pchilik, ya'ni kamida ikki kishi „ha“ deb ovoz berib, o'zlariga tegishli tugmachalarni bosganda signal chirog'i yonishi kerak.

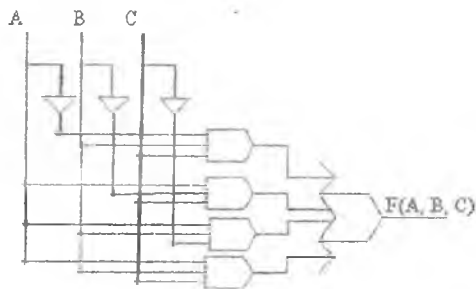
Hayotiy masalani mantiqiy ko'rinishga o'tkazish maqsadida ovoz beruvchilarni A, B, C mulohaza o'zgaruvchilari deb olamiz, u holda A, B, C, mulohaza o'zgaruvchilari 2 xil qiymat qabul qilishi mumkin: ha deb ovoz berishganda – 1, yo'q deb ovoz berishganda esa – 0 qiymat, betaraf bo'lgan holni inobatga olmaymiz. U holda berilgan masalaning rostlik jadvali quyidagi ko'rinishda bo'ladi.

A	B	C	$a = a(A, B, C)$
0	0	0	0
0	0	1	0
0	1	0	0
0	1	1	1
1	0	0	0
1	0	1	1
1	1	0	1
1	1	1	1

Ushbu rostlik jadvalining birlar qatori bo'yicha MDNSh dagi formulasi quyidagicha bo'ladi:

$$\alpha(A, B, C) = \neg A \& B \& C \vee A \& \neg B \& C \vee A \& B \& \neg C \vee A \& B \& C$$

Yuqoridagi formulaga mos sxema esa quyidagicha bo'ladi:



3 ta inverter, 4 ta uchtdan kirishga ega bo'lgan "va", 1 ta to'rtta kirishga ega bo'lgan "yoki", jami 8 ta elementdan iborat sxema hosil bo'ladi.

Yuqoridagi formulani mantiq qonunlariga ko'ra soddalashtiramiz:

$$\begin{aligned} \alpha(A, B, C) &= \neg A \& B \& C \vee A \& \neg B \& C \vee A \& B \& \neg C \vee A \& B \& C = \\ &= A \& B \& (\neg C \vee C) \vee (A \& B \vee A \& C) \& \neg B = \\ &= A \& B \vee (A \& B \vee A \& C) \& \neg B = (A \& B \vee C) \& (A \& B \vee \neg B) = \\ &= (A \vee B) \& (A \& B \vee C) \end{aligned}$$

Minimallashtirilgan formulaga mos sxema quyidagi ko'rinishda bo'ladi.



Ikkala sxema ham bir xil vazifani bajaradi, chunki ularga mos formulalarning rostlik jadvali bir xil, lekin soddalashtgan sxema ikki baravar kam elementdan iborat bo'lsa-da, qiymat jihatdan undan ham ko'proq sarf xarajatni talab qiladi.

Nazorat uchun savollar:

1. Nima uchun mantiqiy elementlarga ikkilik mantiqiy elementlar deyiladi?
2. Bul ifodalari qachondan boshlab raqamli elektron sxemalarda qo'llanila boshlandi?
3. Asosiy mantiqiy elementlarni sanab bering.
4. "Va" mantiqiy elementining ishlash printsipini tushuntiring.
5. "Yoki" mantiqiy elementi qachon ishlaydi?
6. Invertorning ishlash printsipini tushuntiring.
7. "Va-emas" ikkilik mantiqiy elementi qanday ishlaydi?
8. "Yoki-emas" ikkilik mantiqiy elementining ishlash printsipini tushuntiring.
9. Minimallashtirish masalasi deganda nimanı tushunasiz?
10. Ikkitadan ortiq kirishga ega bo'lgan mantiqiy elementlar uchun qanday belgilashlar ishlatiladi?
11. Mantiqiy sxemalar sintezini tushuntiring.
12. Mantiqiy sxemalarda analiz deganda nimanı tushunasiz?

Mustaqil yechish uchun masalalar:

Quyidagi mantiqalgebra formulalar uchun mantiqiy sxemalar tuzing:

1. $\alpha(A, B, C) = (A \& B \& \neg C) \sim (\neg A \vee B)$
2. $\alpha(A, B, C) = (\neg A \vee \neg C) \sim B$
3. $\alpha(A, B, C) = (A \rightarrow B) \rightarrow \neg C$
4. $\alpha(A, B, C) = (\neg A \rightarrow \neg B) \& (B \rightarrow C)$
5. $\alpha(A, B, C) = A \& (B \rightarrow C) \vee \neg B$
6. $\alpha(A, B, C) = \neg(A \& B \vee C) \& (\neg B \sim \neg C)$
7. $\alpha(A, B, C) = (A \sim B) \& (\neg B \sim \neg C)$
8. $\alpha(A, B, C) = (A \oplus B \& C) \rightarrow A \vee C$
9. $\alpha(A, B, C) = ((A \rightarrow B) \oplus (A \rightarrow B \& C)) \vee (A \downarrow B)$
10. $\alpha(A, B, C) = (A \rightarrow B) \oplus ((B \rightarrow \neg C) \rightarrow A \& B)$
11. $\alpha(A, B, C) = (A \vee \neg B) \downarrow (\neg A \rightarrow (B \rightarrow C))$
12. $\alpha(A, B, C) = (\neg A \& B) \rightarrow (C \& A)$
13. $\alpha(A, B, C) = (A \& B \sim C) \& A \& \neg C$
14. $\alpha(A, B, C) = (A \& B \vee \neg A \& \neg B) \& (C \rightarrow B)$
15. $\alpha(A, B, C) = (A \vee B \& \neg C \vee \neg A \& \neg B \& C) \& A \& \neg B$
16. $\alpha(A, B, C) = (A \rightarrow B) \& (C \rightarrow A)$
17. $\alpha(A, B, C) = (A \oplus C \vee \neg A \& \neg C) \& B$
18. $\alpha(A, B, C) = (A \& B) \vee ((B \rightarrow \neg C) \rightarrow A \& B)$
19. $\alpha(A, B, C) = (A \vee \neg B) \vee (A \rightarrow (B \rightarrow C))$
20. $\alpha(A, B, C) = A \& (B \rightarrow C) \& B$
21. $\alpha(A, B, C) = A \& (B \rightarrow C) \rightarrow \neg B$
22. $\alpha(A, B, C) = \neg(A \& B \vee C) \rightarrow (B \sim \neg C)$
23. $\alpha(A, B, C) = (\neg A \sim B) \rightarrow (\neg B \sim C)$

3.4.4. Minimallashtirishning jadval (grafik) usullari.

Mukammal diz'yunktiv normal shakllarni minimallashtirishda Bul ifodalarida bir-biriga qo'shni hadlarni topish va bu hadlarni birlashtirish katta mehnat talab qiladi. Bu esa soddalashtirishda analitik usulning kamchiligi hisoblanadi.

Analiyotda mantiq funksiyalarini minimallashtirish uchun mantiqiy o'zgaruvchilar soni kamroq bo'lsa, jadval usuli birmuncha qulay hisoblanadi. Jadval usulining ustunligi:

- 1) birlashtiriladigan hadlarni izlash oson;
- 2) topilgan hadlarni birlashtirish oson;
- 3) funktsiyaning barcha minimal shakllarini topish mumkin.

Jadval usullari quyidagilar: Karno kartalari, Veych, Venn diagrammalari, yechimlar daraxti hisoblanadi. Ushbu mavzuda biz Karno kartalari metodi bilan tanishamiz.

1953 yil Moris Karno Bul ifodalarni soddalashtirish va grafik tasvirlash tizimini ishlab chiqqanligi haqida maqola e'lon qildi. Hozirda bu metod Karno kartalari metodi deb yuritiladi. Karno kartalarining quyidagi turlarini ko'rib chiqamiz:

1. Ikki o'zgaruvchili Karno kartasi.

Aytaylik, Bul ifodasi ikkita mulohaza o'zgaruvchisidan tashkil topgan bo'lsin va quyidagi rostlik jadvali bilan berilgan bo'lsin. U holda ikki o'zgaruvchili Karno kartasi quyidagicha bo'ladi:

A	B	F(A,B)
0	0	1
0	1	2
1	0	3
1	1	4

	$\neg B$	B
$\neg A$	1	2
A	3	4

Agar $F(A,B)$ formula MDNSh da berilgan bo'lsa, u holda

№1 o'ringa $\neg A \& \neg B$

№2 o'ringa $\neg A \& B$

№3 o'ringa $A \& \neg B$

№4 o'ringa $A \& B$

hadlar mos kelib, shunday hadlar $F(A,B)$ formulada mavjud bo'lsa, Karno kartasida bu hadlarga mos o'rinlarga 1, qolgan o'rinlarga 0 raqami yoziladi.

Ikki o'zgaruvchili Karno kartasi to'ldirilgandan keyin 2 ning darajalaricha birlarni o'z ichiga oladigan ($2^0, 2^1, 2^2, 2^3, \dots$) konturlar chiziladi. Bu konturlar gorizontali yoki vertikaliga bir-biriga qo'shni bo'lgan birlarni o'z ichiga olishi kerak. Konturga olish jarayoni barcha birlar kontur ichida ichida qolguncha davom ettiriladi va konturlar iloji boricha maksimal ikkining darajalaricha birlarni o'z ichiga olishi kerak.

Konturga olish jarayoni tugagandan keyin har bir kontur ichida qatnashgan bir-biriga teskari bo'lgan fikr o'zgaruvchilari tushirib qoldiriladi va har bir konturda qolgan o'zgaruvchilarning diz'yunksiyasi olinadi. Hosil bo'lgan ifoda Karno kartasi bo'yicha minimallashtirilgan ifoda bo'lib, undan ortiq minimallashtirish mumkin emas.

Misol 1. Quyidagi rostlik jadvali bilan berilgan ifodani soddalashtiring:

A	B	F(A,B)
0	0	1
0	1	0
1	0	1
1	1	1

	$\neg B$	B
$\neg A$	1	0
A	1	1

Ifodaning to'liq ko'rinishi:

$$F(A,B) = \neg A \& \neg B \vee A \& \neg B \vee A \& B$$

minimal ko'rinishi esa: $F(A,B) = A \vee \neg B$

Misol 2. $(A,B) = \neg A \& B \vee A \& \neg B \vee A \& B$

formulaga mos

Karno kartasi quyidagi ko'rinishni oladi, ya'ni karta

MDNSh

bo'yicha tuziladi:

	$\neg B$	B
$\neg A$	0	1
A	1	1



Yuqorida keltirilgan sxemaga muvofiq gorizontalliga, vertikaliga bir-biriga qo'shni bo'lgan birlar konturlarga birlashtiriladi. Har bir konturda qatnashgan bir-birini to'ldiruvchi o'zgaruvchilar tushirib qoldiriladi, har bir konturdan qolgan o'zgaruvchilarning diz'yunksiyasi olinadi. Natijada formula quyidagi ko'rinishni oladi: $F(A, B) = A \vee B$.

2. Uch o'zgaruvchili Karno kartalari

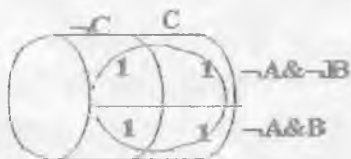
Aytaylik, Bul ifodasi uchta mulohaza o'zgaruvchisidan tashkil topgan bo'lsin va quyidagi rostlik jadvali bilan berilgan bo'lsin. U holda uch o'zgaruvchili Karno kartasi quyidagicha bo'ladi:

A	B	C	F(A, B, C)
0	0	0	№1
0	0	1	№2
0	1	0	№3
0	1	1	№4
1	0	0	№5
1	0	1	№6
1	1	0	№7
1	1	1	№8

	$\neg C$	C
$\neg A \& \neg B$	№1	№2
$\neg A \& B$	№3	№4
$A \& B$	№7	№8
$A \& \neg B$	№5	№6

Uch o'zgaruvchili Karno kartalarida ham ikki o'zgaruvchili Karno kartalaridagidek gorizontalliga, vertikaliga bir-biriga qo'shni bo'lgan birlar konturlarga birlashtiriladi. Har bir kontur iloji boricha ko'proq ikkinci darajalaricha birlarni ($2^1, 2^2, 2^3, \dots$) o'z ichiga olishi va kontur olish jarayoni barcha birtar kontur ichi da qolguncha davom ettirilishi lozim. Har bir kontur soddalashtirilgan

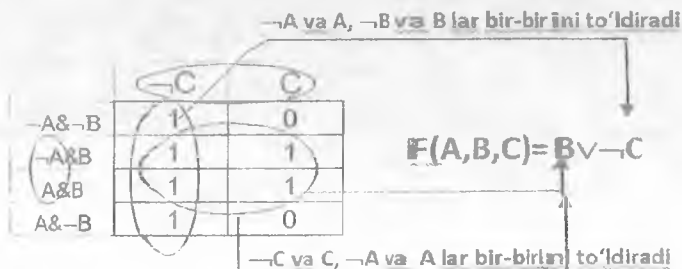
Bul ifodasining yangi a'zosini bildiradi. Har bir konturda qatnashgan bir-birini to'ldiruvchi o'zgaruvchilar tushirib qoldiriladi, har bir konturdan qolgan o'zgaruvchilarning diz'yunksiyasi olinadi. Bundan tashqari uch o'zgaruvchili Karno kartalarida 1- va 4-qatorlar bir-biriga qo'shni hisoblanadi, chunki karta gorizontalganda 1- va 4- qatorlar bir-biriga qo'shni bo'lib qoladi.



$F(A,B,C)$ formula quyidagicha rostlik jadvali bilan berilgan bo'lsin:

A	B	C	$F(A,B,C)$
0	0	0	1
0	0	1	0
0	1	0	1
0	1	1	1
1	0	0	1
1	0	1	0
1	1	0	1
1	1	1	1

	$\neg C$	C
$\neg A \& \neg B$	1	0
$\neg A \& B$	1	1
$A \& B$	1	1
$A \& \neg B$	1	0



3. To'rt o'zgaruvchili Karno kartalari

To'rt o'zgaruvchili Karno kartalarida ikki va uch o'zgaruvchili Karno kartalaridagi usullar qo'llaniladi. Faqatgina to'rt o'zgaruvchili Karno kartalarida birinchi va to'rtinchi ustunlar, birinchi va to'rtinchi qatorlar bir-biriga qo'shni hisoblanadi, chunki ular mos ravishda vertikal yoki gorizontal silindrlarga o'ralsa, ushbu ustunlar yoki qatorlar bir-biriga qo'shni bo'lib qoladi. To'rt o'zgaruvchili Karno kartalarining to'rtta burchagi ham bir-biriga qo'shni hisoblanadi, chunki karta "sferaga" o'ralsa, to'rtta burchak bir-biriga qo'shni aylanadi.

	$\neg C \& \neg D$	$\neg C \& D$	$C \& D$	$C \& \neg D$
$\neg A \& \neg B$	1	0	0	1
$\neg A \& B$	1	1	1	1
$A \& B$	1	1	1	1
$A \& \neg B$	1	0	0	1

Masalan, $F(0,0,0,1)=F(0,0,1,1)=F(1,0,0,1)=F(1,0,1,1)=0$

Karno kartasi bo'yicha formulaning soddalashgari ko'rinishi quyidagicha bo'ladi: $F(A,B,C)=B \vee \neg D$.

Misol. Rostlik jadvali quyidagicha bo'lgan formula uchun minimizatsiyalash masalasini qaraymiz:

<i>A</i>	<i>B</i>	<i>C</i>	<i>D</i>	<i>a</i> (<i>A</i> , <i>B</i> , <i>C</i> , <i>D</i>)
0	0	0	0	0
0	0	0	1	0
0	0	1	0	0
0	0	1	1	0
0	1	0	0	0
0	1	0	1	0
0	1	1	0	0
0	1	1	1	1
1	0	0	0	0
1	0	0	1	0
1	0	1	0	0
1	0	1	1	1
1	1	0	0	0
1	1	0	1	1
1	1	1	0	1
1	1	1	1	1

Bu jadvalga mos funksiya uchun mukammal diz'yunktiv normal shaklini quyidagicha tuzamiz:

$$a(A, B, C, D) = \bar{A} \wedge B \wedge C \wedge D \vee A \wedge \bar{B} \wedge C \wedge D \vee A \wedge B \wedge \bar{C} \wedge D \vee A \wedge B \wedge C \wedge \bar{D} \vee A \wedge B \wedge C \wedge D.$$

Bu formulani Karno kartasidan foydalanib soddalashtiramiz:

	$\bar{C} \wedge \bar{D}$	$\bar{C} \wedge D$	$C \wedge D$	$C \wedge \bar{D}$
$\bar{A} \wedge \bar{B}$	0	0	0	0
$\bar{A} \wedge B$	0	0	1	0
$A \wedge B$	0	1	1	1
$A \wedge \bar{B}$	0	0	1	0

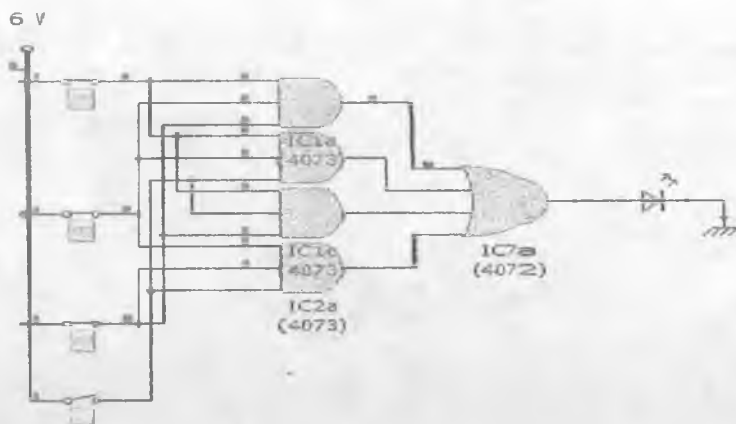
Karno kartasidan ko'rinib turibdiki, funksiyaning ko'rinishi

$$a(A, B, C, D) = A \wedge B \wedge C \vee A \wedge B \wedge D \vee B \wedge C \wedge D \vee A \wedge C \wedge D$$


shaklida bo'ladi:

Ushbu formulaga mos sxemaning *Crocodile* dasturiy ta'minoti yordamida ishlab chiqilgan ko'rinishini keltiramiz:

Sxemaning fizik ko'rinishi quyidagicha bo'ladi:




Ulanish amalga oshgan holatning, ya'ni yoq i q holatning tasviri quyidagicha bo'ladi:



Ulanish amalga oshmagan holatning, ya'ni o'chiq holatning tasviri quyidagicha bo'ladi:



Plataning orqa tomonidan sxemani ko'rishni quyidagicha bo'ladi:

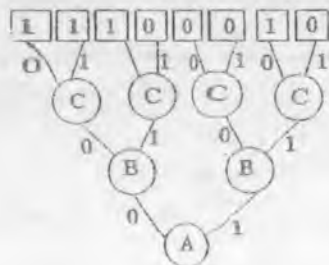


3.4.5. Yechimlar daraxti

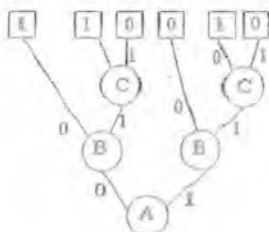
Dasturlashda xotirani va vaqtni tejash maqsadida mantiq algebrasi funksiyalari bilan ishlaganda, ularni "tabiiy" (massivlarda) ifodalamasdan, mantiqiy amallarni bajarishga maxsus yo'naltirilgan ko'rinishda ifodalash samaraliroq hisoblanadi. Buning uchun n o'zgaruvchili Bul funksiyasi rostlik jadvalini $n+1$ balandlikdagi to'liq binar daraxt ko'rinishida ifodalash mumkin. Daraxt yaruslari (qavatlari) o'zgaruvchilarga mos keladi, daraxt shoxlari esa o'zgaruvchilar qiymatlariga mos keladi. Har bir mulohaza o'zgaruvchisidan ikkita shih chiqib, chap shoxga - 0, o'ng shoxga esa - 1 qiymat mos qo'yiladi. Daraxt yaproqlari - oxirgi yarusda esa daraxt ildizidan shu yaproqgacha bo'lgan yo'lga mos korejdagi funksiya qiymatlari mos qo'yiladi. Bunday daraxt yechimlar daraxti yoki semantik daraxt deyiladi.

Buni quyidagicha misolda ko'rib chiqamiz. $F(A,B,C)$ funksiya quyidagicha rostlik jadvali bilan berilgan bo'lsin:

A	B	C	$F(A,B,C)$
0	0	0	1
0	0	1	1
0	1	0	1
0	1	1	0
1	0	0	0
1	0	1	0
1	1	0	1
1	1	1	0

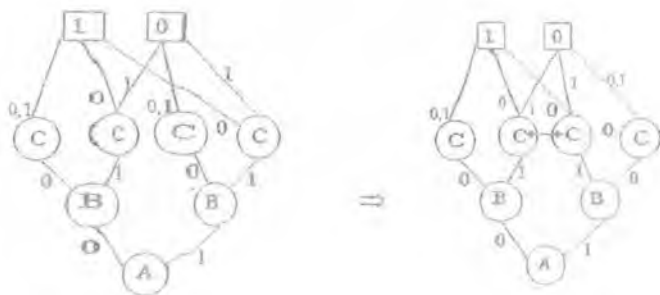


1) Yechimlar daraxtini ayrim hollarda barcha barglarni bir xil qiymatga ega bo'lgan daraxt ostilarini, shu qiymat bilan almashtirilsa yechimlar daraxti hajmining sezilarli darajada ixchamlashtiradi.

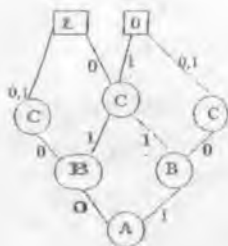


Agar bog'liqliklarning daraxt ko'rinishidan voz kechilsa, yechimlar daraxtini anchagina kompaktlashtirish mumkin. Quyidagicha uchta ketma-ket shakl almashtirishlardan so'ng binary yechimlar daraxtidan binar yechimlar diagrammasi hosil bo'ladi:

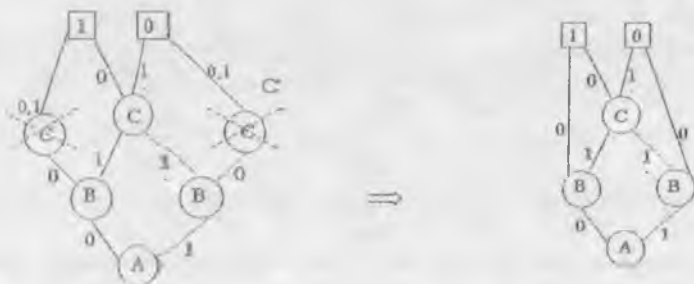
2) 0 va 1 qiymatlarni qabul qilgan yaproqlar birlashtiriladi. Natijada daraxt quyidagi ko'rinishni oladi:



3) Diagrammada izomorf (o'xshash) diagramma ostilari birlashtiriladi:



4) Ikkala chiquvchi shoxi ham bitta joyga boradigan tugunlar ahamiyatsiz o'zgaruvchi sifatida tushirib qoldiriladi va bu tugunga kiruvchi shox chiquvchi shoxlar boradigan tugunlargacha davom ettiriladi.



Natijada $F(A,B,C)$ funksiya qiymatlarini yechimlarning binar diagrammasi orqali berish mumkin:

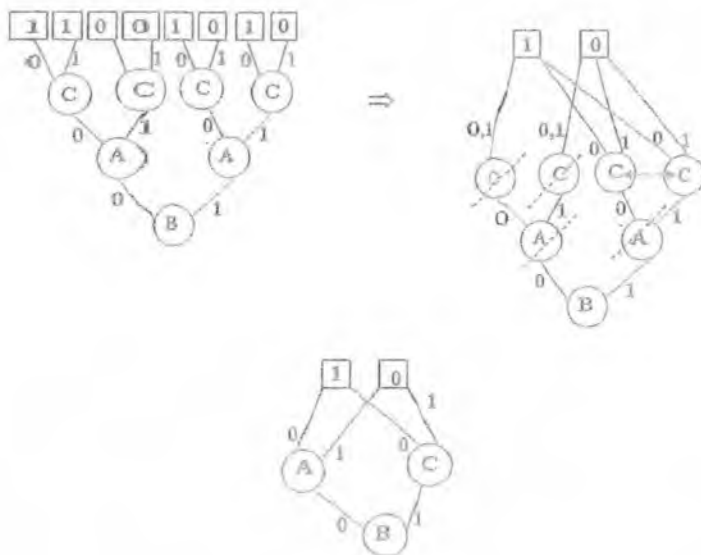
if $A=B=0$ or $A=C=0$ and $B=1$ or $A=B=1$ and $C=0$

then $F(A,B,C)=1$

else $F(A,B,C)=0$

Yechimlar daraxtidan yechimlar diagrammasiga o'tish natijasi boshlang'ich yechimlar daraxtida o'zgaruvchilarni yarumlarga qaysi tartibda qo'yilganligiga ham sezilarli darajada bog'liq.

Yuqoridagi misolda yechimlar daraxtida o'zgaruvchilarni yarumlarga B, A, C tartibida joylashtirilsa, u holda yechimlar diagrammasi yanada ixchamlashadi:



Natijada $F(A, B, C)$ funksiya qiymatlarini yechimlarning binar diagrammasi orqali berish mumkin:

$$\text{if } B=1 \text{ then } F(A, B, C) \leftarrow C \text{ else } F(A, B, C) \leftarrow A$$

Ushbu ko'rilgan misol shundan dalolat beradiki, ayrim hollarda funksiyalarning shunday maxsus ko'rinishlarini qurish mumkin, funksiyalarni massivlar yoki formulalar yordamida ifodalash kabi universal usullarga nisbatan, xotirada kam ma'lumot saqlashni va shu bilan birga hisoblashni tezroq amalga oshirish imkonini beradi.

Nazorat savollari:

1. Minimallashtirishda jadval usulining afzalligi nimada?
2. Ikki o'zgaruvchili Kamo kartasida minimallashtirish usulini tushuntiring.
3. Uch o'zgaruvchili Kamo kartasi mohiyati nima dan iborat?
4. To'rt o'zgaruvchili Kamo kartasida minimallashtirish qanday amalgam oshiriladi?
5. O'zgaruvchilar soni 4 tadan oshib ketsa, nima uchun Kamo kartasi samarasiz bo'ladi?

Mustaqil yechish uchun masalalar:

a) Quyida keltirilgan misollar uchun Kamo kartalarini tuzib, minimallashtiring va soddalashgan formulaga mos rele-kontakt sxemasi chizing:

$$1. F(1,1,0)=F(1,1,1)=F(1,0,0)=F(1,0,1)=1$$

$$2. F(0,1,0)=F(0,1,1)=F(1,0,0)=F(1,0,1)=1$$

$$3. F(0,1,0)=F(1,1,1)=F(1,0,0)=F(1,0,1)=1$$

$$4. F(0,1,0)=F(0,1,1)=F(1,1,1)=F(1,0,1)=1$$

$$5. F(0,1,1)=F(1,1,0)=F(1,1,1)=F(1,0,1)=1$$

$$6. F(0,0,0)=F(0,0,1)=F(0,1,0)=F(1,1,0)=F(1,0,0)=F(1,0,1)=1$$

$$7. F(0,0,0)=F(0,0,1)=F(0,1,1)=F(1,1,0)=F(1,0,0)=F(1,0,1)=1$$

$$8. F(0,0,0)=F(0,0,1)=F(1,1,0)=F(1,1,1)=F(1,0,0)=F(1,0,1)=1$$

b) Quyida keltirilgan misollar uchun yechimlar daraxtini tuzing va soddalashtiring.

$$1. F(0,0,0)=F(0,1,0)=F(0,1,1)=F(1,1,0)=F(1,1,1)=F(1,0,0)=1$$

$$2. F(0,0,0)=F(0,0,1)=F(0,1,1)=F(1,1,0)=F(1,0,0)=1$$

$$3. F(0,1,0)=F(0,0,1)=F(0,1,0)=F(1,1,0)=F(1,0,0)=F(1,0,1)=1$$

$$4. F(0,1,1)=F(0,0,1)=F(0,1,0)=F(1,1,0)=F(1,0,0)=F(1,0,1)=1$$

$$5. F(0,1,0)=F(0,0,1)=F(1,1,0)=F(1,1,1)=F(1,0,0)=F(1,0,1)=1$$

$$6. F(0,1,1)=F(1,1,1)=0$$

$$7. F(0,1,0)=F(1,1,0)=0$$

$$8. F(0,0,1)=F(1,0,1)=0$$

$$9. F(0,0,0)=F(1,0,0)=0$$

$$10. F(0,0,0)=F(0,0,1)=F(0,1,0)=1$$

$$11. F(1,1,0)=F(1,1,1)=F(1,0,0)=F(1,0,1)=1$$

$$12. F(0,1,0)=F(0,1,1)=F(1,0,0)=F(1,0,1)=1$$

$$13. F(0,1,0)=F(1,1,1)=F(1,0,0)=F(1,0,1)=0$$

$$14. F(0,1,0)=F(0,1,1)=F(1,1,1)=F(1,0,1)=1$$

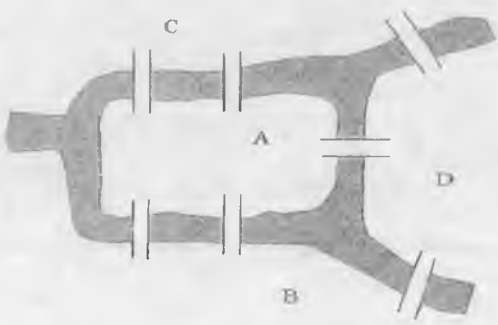
$$15. F(0,1,1)=F(1,1,0)=F(1,1,1)=F(1,0,1)=0$$

IV BOB.
GRAFLAR NAZARIYASI
KIRISH

XVIII asrda mashhur shvetsariyalik matematik, mexanik va fizik Leonard Eyler (1707-1783 yy) Kyonigsberg ko'prigi haqidagi masalani yechish uchun birinchi marta graf tushunchasidan foydalanadi. Hozirda bu masala klassik yoki Eyler masalasi nomi bilan mashhur:

Shu davrda Kyonigsberg shahrida 2 ta orol bo'lib, ular Pregol daryosining 7 ta ko'prigi bilan birlashtirilgan edi. Masala quyidagicha qo'yilgan edi: Shahar bo'ylab shunday sayr uyushtirish kerakki, bunda har bir ko'prikdan bir marta o'tib yana sayr boshlangan joyga qaytib kelish kerak.

Eyler bunday sayr marshruti yo'qligini isbotladi.



Eski Kyonigsberg shahri sxemasi

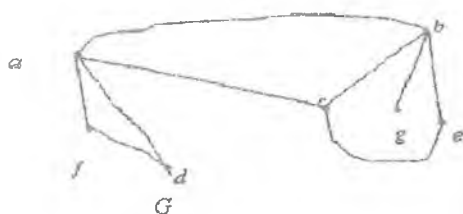
Graflar nazariyasi diskret matematika fanining bir bo'limi bo'lib, unda masalalar yechimlari chizmalar shaklida izlanadi. Keyingi paytlarda turli xil diskret xususiyatlarga ega bo'lgan xisoblash qurilmalarini loyihalashda graflarning ahamiyati yanada oshdi.

4.1. Graflar nazariyasining asosiy tushunchalari

Ta'rif 1. (V, E) sonlar juftligiga graf deyiladi, bu yerda V – ixtiyoriy bo'sh bo'lmagan to'plam, E esa $V^{(2)}$ ning qism to'plami ($E \subseteq V^{(2)}$), bunda $V^{(2)}$ V to'plam elementlarining tartiblanmagan juftliklari to'plami. V to'plam elementlari grafning uchlari deyiladi, E to'plam elementlari esa grafning qirralari deyiladi. Agar V chekli bo'lsa, graf chekli deyiladi, aks holda cheksiz graf deyiladi.

Qirra ikkita uch bilan aniqlanadi. Umumiy uchga ega bo'lgan ikkita qirra qo'shni hisoblanadi.

Grafning uchlari va qirralari to'plamini mos ravishda $V(G)$ va $E(G)$ kabi belgilanadi.



rasm 2

$$V(G) = \{a, b, c, d, e, f, g\}, E(G) = \{(a, b), (a, c), (a, d), (a, f), (b, c), (b, g), (b, e), (c, e), (d, f)\}.$$

Ta'rif 2. a) Agar grafda takroriy (karrali) qirralar mavjud bo'lsa, bunday grafga **multigraf** deyiladi.

b) Agar grafda karrali qirralar bilan birga uchni o'z-o'zi bilan tutashiruvchi ilmoqlar ham mavjud bo'lsa, bunday grafga **pseudograf** deyiladi.

c) Yo'nalishga ega bo'lgan qirralari mavjud graf oriyentirlangan graf (orgraf) deyiladi.

Orgrafning qirralari ularning yo'nalishini ko'rsatuvchi strelkalar bilan belgilanadi.

Misol:



G_1 – multigraf, G_2 – psevdograf, G_3 – oriyentirlangan multigraf.

Ta'rif 3. Agar V to'planning quvvati n ga teng bo'lsa, n soni grafning tartibi deyiladi.

Ta'rif 4. Agar V to'planning quvvati n ga teng bo'lsa, E to'planning quvvati m ga teng bo'lsa, graf (n, m) graf deyiladi.

Ta'rif 5. Agar grafning ikkita uchi qirra bilan tutashtirilgan bo'lsa, bu uchlar qo'shni uchlar deyiladi.

Ta'rif 6. Grafning bir uchdan chiqqan ikki qirasi qo'shni qirralar deyiladi.

Ta'rif 7. Agar berilgan uch qirraning oxiri bo'lsa, qirra va uch intsident deyiladi.

Ta'rif 8. Agar graf bironta qirraga ega bo'lmasa, bunday graf bo'sh graf deyiladi.

n tartibli bo'sh grafni O_n yoki \bar{E}_n bilan belgilanadi.

Ta'rif 9. Agar grafning ixtiyoriy ikki uchi qirralar bilan tutashirilgan bo'lsa, bunday graf to'la graf deyiladi.

n tartibli to'la grafni K_n yoki P_n bilan belgilanadi.

Misol:

$\cdot O_1$

$\cdot O_2$



Teorema. n tartibli to'la grafning qirralari soni $\frac{n(n-1)}{2}$ ga teng.

Nazorat uchun savollar:

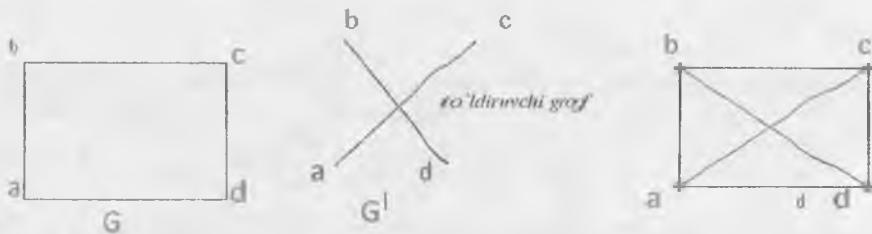
1. Oddiy graf ta'rifini ayting.
2. Grafning uchi deb nimaga aytiladi?
3. Grafning qirrasini deb nimaga aytiladi?
4. Pseudograf deb nimaga aytiladi?
5. Multigrafning ta'rifini yozing.
6. Oriyentirlangan graf deb nimaga aytiladi?
7. To'la grafga ta'rif bering.
8. To'la graf qirralari soni haqidagi teoremani ayting.
9. Oddiy grafga misollar keltiring.
10. Pseudografga misollar keltiring.
11. Oriyentirlangan grafga misollar keltiring.
12. Multigrafga misollar keltiring.
13. To'la grafga misollar keltiring.

4.2. Graflarning to'ldiruvchilari

Ta'rif 1. G^1 graf G grafning qismi deyiladi, agar G ning uchlari to'plami G ga tegishli bo'lsa, ya'ni $V^1 \subseteq V$ bo'lsa, hamda G^1 ning barcha qirralari G ning ham qirralari bo'lsa, ya'ni $E^1 \subseteq E$.

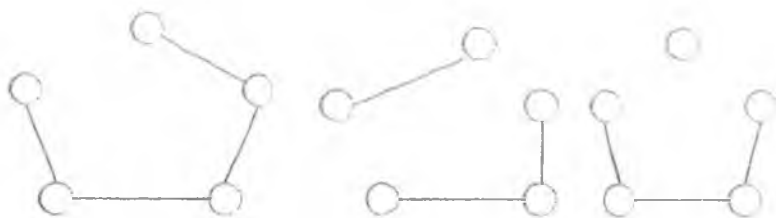
$$V = \{a, b, c, d\}, \quad V^1 = \{a^1, b^1, c^1, d^1\}, \quad V^1 \in V.$$

G^1 graf G grafning to'ldiruvchisi deyiladi, agarda uning barcha uchlari G grafga tegishli bo'lib, birorta ham qirrasini G ga tegishli bo'lmasa.


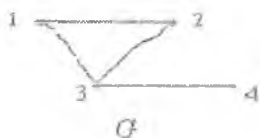


Ta'rif 2. Agar $G = (X, U)$ grafning bo'lagi $G^1 = (X^1, U^1)$ uchun $X^1 = X$ bo'lsa, U^1 holda graf sugrafi deb ataladi.

Sugraflarni hosil qilish uchun faqat qirralarga murojaat qilamiz. Quyidagi graflar sugraflardir.

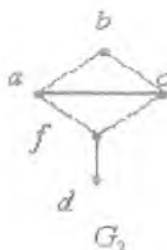
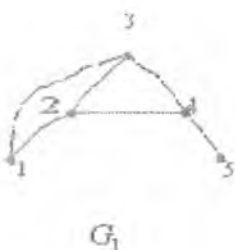


Misol 1:



Ta'rif 2. Agar graflaming uchlari to'plami orasida qo'shnilik munosabatini saqlovchi biyeksiya mavjud bo'lsa, bu ikkita graf izomorf deyiladi. G graf H grafga izomorf bo'lsa, $G \cong H$ kabi belgilanadi.

Misol 2:



$f: V(G_1) \rightarrow V(G_2)$ qo'shnilik munosabatini saqlovchi biyeksiya $f(1) = b, f(2) = a, f(3) = c, f(4) = f, f(5) = d$ mavjud bo'lgani uchun $G_1 \cong G_2$ bo'ladi.

Ta'rif 3. Agar graf o'zining to'ldiruvchisiga izomorf bo'lsa, graf o'zini o'zi to'ldiruvchi deyiladi.

Misol 3.



Ta'rif 4. Qo'shni yo'lar ketma-ketligi yo'l, qo'shni qiralar ketma-ketligi zanjir deyiladi. Yopiq yo'l kontur deyiladi, yopiq zanjir esa sikl deyiladi.

Ta'rif 5. Grafning har bir uchidan bir martadan o'tgan yo'l elementar deyiladi. Graf yoylari orqali bir martadan o'tgan yo'l oddiy yo'l deyiladi. Aks holda murakkab yo'l deyiladi.

Ta'rif 6. Agar zanjir grafning barcha uchlardan bir martadan o'tsa, bunday zanjirga gamilton zanjiri deyiladi.

Ta'rif 7. Grafning barcha qiralaridan bir martadan o'tgan zanjir eyler zanjiri deyiladi.

Ta'rif 8. Ixtiyoriy ikkita uchini marshrut bilan birlashtirish mumkin bo'lgan graf bog'liq graf deyiladi.

Ta'rif 9. Grafning barcha uclaridan o'tuvchi karrali qirralar va ilmoqlarga ega bo'lmagari graf eyler grafi deyiladi.

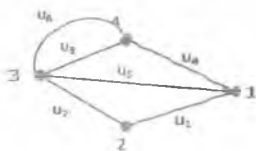
Ta'rif 10. Agar bog'liqli grafda har bir uchdan faqat bir martadan o'tuvchi tsikl (yoki marshrut) mavjud bo'lsa, bunday graf gamilton grafi deyiladi.

Nazorat uchun savollar:

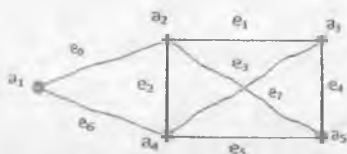
1. Graflar qachon izomorf bo'ladi?
2. Sugraf deb nimaga aytiladi?
3. Grafning to'ldiruvchisi deb nimaga aytiladi?
4. Eyer grafi deb nimaga aytiladi?
5. Bog'liq grafning ta'rifini yozing.
6. Gamilton zanjiri deb nimaga aytiladi?
7. Gamilton grafiga ta'rif bering.
8. Sikl deb nimaga aytiladi?
9. To'ldiruvchi grafning ta'rifini bering.
10. Marshrut deb nimaga aytiladi?
11. Zanjir deb nimaga aytiladi?

Mustaqil yechish uchun masalalar:

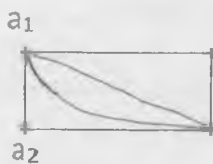
1. Izomorf graflarga misollar keltiring.
2. Chizmadagi graf uchun keltirilgan marshrutlardan qaysi biri oddiy zanjir bo'ladi?



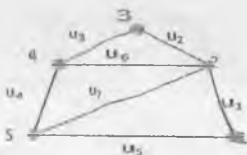
3. Eyer grafiga misollar keltiring.
4. Gamilton grafiga misollar keltiring.
5. Bog'liq grafga misollar keltiring.
6. Quyidagi graf uchun gamilton sikli mavjudmi?



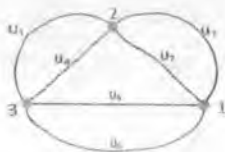
Quyidagi graf eyler grafi bo'ladimi?



7. Chizmada keltirilgan graf uchun bir uchidan chiqqan oddiy sikl bo'lsa ko'rsating:



8. Chizmada keltirilgan graf uchun eyler sikli bo'lsa ko'rsating:



4.3. Graf uchlari darajasi. Graf qirralari soni

Ta'rif 1. Qirraning boshi yoki oxirini ifodalovchi uchga bu qirraga **intsident uch** deyiladi.

Ta'rif 2. Graf uchining darajasi deb bu uchga **intsident qirralar** soniga aytiladi.

x_i uchning darajasini $P(x_i)$ bilan belgilanadi.

Boshqacha aytganda uchdan chiquvchi qirralar soni uchning darajasi hisoblanadi. Darajasi 1 ga teng uch osilgan uch bo'ladi.

Ta'rif 3. Hech qanday yoy yoki qirralarga ega bo'lmagan va izolyatsiyalangan uchlardan iborat graf nol graf deyiladi. Ko'rinib turibdiki, nol grafning uchlari darajasi nolga teng.

Lemma 1. Agar grafning barcha uchlarning darajalari 2 dan katta yoki 2 ga teng bo'lsa, graf, albatta, konturni o'z ichiga oladi.

Ta'rif 4. Agar grafning uchlari va qirralari to'plamida refleksivlik va simmetriklilik xossalarini qanoatlantiruvchi binar munosabat mavjud bo'lsa, bunday graf **tolerant graf** deyiladi.

Teorema 1. Oriyentirlanmagan graf eyler sikli bo'lishi uchun uning uchlari juft darajalarga ega bo'lishi va uning bog'liq graf bo'lishi zarur va yetarlidir.

Teorema 2. Oriyentirlanmagan graf A va V uchlarni birlashtiruvchi eyler zanjiriga ega bo'ladi, faqat va faqat shu holdaki, agar graf bog'liq bo'lsa hamda faqatgina A va V uchlar toq darajalarga, qolgan uchlar juft darajalarga ega bo'lsa.

Ta'rif 5. Grafni tekislikka yotqizish mumkin bo'lsa, bunday graf planar graf deyiladi. Tekislikka yotqizilgan graf tekis graf deyiladi.



G_1 graf planar va G_2 tekis grafga izomorf.

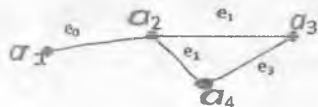
Teorema 3. Agar grafda karrali qirralari hamda ilmoq mavjud bo'lmasa, n ta uchga ega bo'lgan va bog'liq komponentasi K ga teng bo'lgan grafning qirralari soni eng ko'pi bilan aniqlanadi.

$$M = \frac{1}{2} (n - k)(n - k + 1)$$

Mashrutning uzunligi deb, shu mashrutda mavjud qo'shni (e_{i-1}, e_i) qirralar soniga aytiladi.

Grafning ixtiyoriy a va ixtiyoriy v uchlari orasidagi masofa deb, shu uchlarni bog'lovchi eng kichik uzunlikka ega bo'lgan zanjirga aytiladi.

Misol 1.



$$d(a_1, a_3) = (e_0, e_1) = 2;$$

$$d(a_1, a_4) = (e_0, e_2) = 2;$$

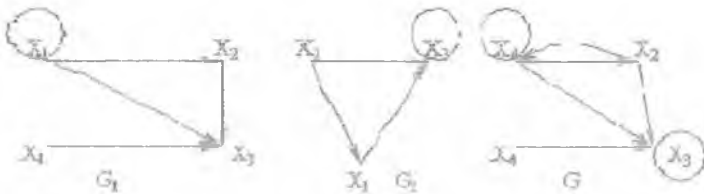
$$d(a_1, a_4) = (e_0, e_1, e_3) = 3$$

Graflning diametri deb, uchlari orasidagi eng katta uzunlikka ega bo'lgan masofaga aytiladi.

$$d(\Gamma) = \max_{a, b \in V} d(a, b)$$

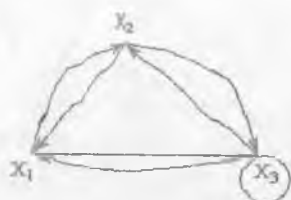
Misol 2. $d(a_1, a_4) = (e_0, e_1, e_3) = 3$.

S uch G graflning fiksirlangan uchi bo'lsin. X esa graflning ixtiyoriy uchi bo'lsin. S uch uchun maksimal masofani hisoblaymiz. Qandaydir S_0 uch uchun bu maksimal masofa boshqa uchlarga nisbatan minimal bo'lsa, u holda S_0 G graflning markazi deyiladi va S_0 uchun aniqlangan masofa G graflning radiusi deyiladi.

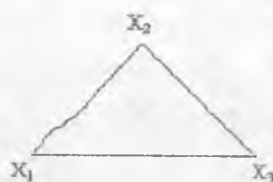


Yuqoridagi graf ikkita qo'shiluvchi graflardan hech bo'lmaganda bittasida uchraydigan uch va qirralarni o'z ichiga oladi.

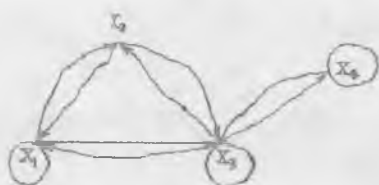
Ko'paytma graf ko'paytirilayotgan graflarning umumiy uchlari va qirralari darajaborat.



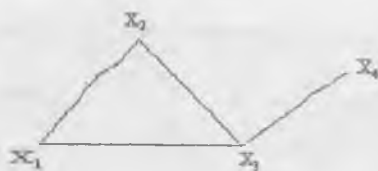
Simmetrik graf



Oriyentirlanmagan graf



Tolerant graf



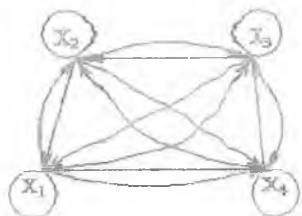
Oriyentirlanmagan graf



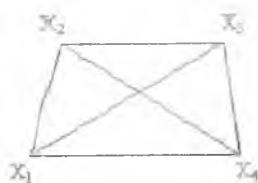
Tolerant graf



Oriyentirlanmagan graf



Graf-dekart ko'paytma



Oriyentirlanmagan to'la graf

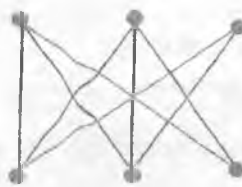
Ta'rif 3. Agar G_1 grafdan, shuningdek, G_2 grafdan chekli sonli martadagi qirralarni ajratish anali bilan olinishi mumkin bo'lgan shunday G' graf mavjud bo'lsa, G_1 , G_2 graflar gomeomorf grafd deyiladi,

Quyidagi rasmda tasvirlangan G_1 va G_2 graflar gomeomorfdir.



G' graf G_1 va G_2 graflardan ikki marta o'tkazilgan qirralar bo'linishi amalidan olinishi mumkin.

1-teorema (Pontryagin-Kuratovskiy). G graf planar bo'ladi, faqat va faqat shu holdaki, G graf K_5 yoki $K_{3,3}$ ga gomeomorf bo'lgan, qism graflarga ega bo'lmasa.

 K_5  $K_{3,3}$

Planarlik kriteriyasining ekvivalent formasi quyidagi teoremda keltirilgan.

2-teorema. Oriyentirlanmagan G graf K_5 yoki $K_{3,3}$ graflarga tortiluvchi qisim graflarga ega bo'lmasa.

3-teorema. Ko'pi bilan 2^W uchdan iborat bo'lgan har qanday graf R^3 fazoda uchlardan tashqarisida yo'plarining kesishmalarisiz tasvirlash mumkin.

Isboti. $G = (M, E)$ graf uchun $|M| < 2^W$ bo'lgan bo'lsin. Unda $|R| < 2^W$ ga ega bo'larniz. G grafning barcha nuqtalarini biror L to'g'ri chiziqqa joylashtiramiz va R dagi har bir qirraga L to'g'ri chiziqni saqlovchi tekislikni har xil qiymatli mos o'yaymiz.

Izlanayotgan G graf tasviri, barcha qirralarni mos tekisliklarga o'tkazgandan keyin hosil bo'ladi.

Planar graflarning xromatik sonining bahosi ma'lum.

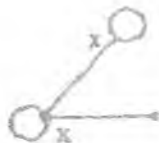
Nazorat uchun savollar:

1. Identifik tushunchasini ta'rifini bering.
2. Nol graf nima?
3. Tolerant graf ta'rifini bering.

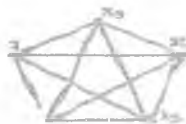
4. Planar graf nima?
5. Qanday graflar homeomorf deyiladi?
6. Yig'indi graf deb nimaga aytiladi?
7. Ko'paytma graf deb nimaga aytiladi?
8. Grafning diametri deb nimaga aytiladi?
9. Pontryagin-Kuratovskiy teoremasini ayting.

Mustaqil yechish uchun masalalar:

1. Quyidagi graflarning yig'indisi va ko'paytmasini toping:



2. Quyidagi graflarning yig'indisi va ko'paytmasini toping:

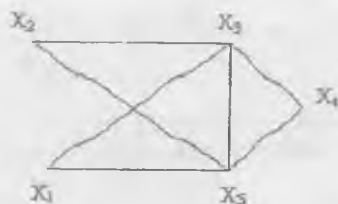


4.4. Grafning xarakterlovchi sonlar

Ta'rif 1. Grafning siklomatik soni deb, $N-n+p$ songa aytiladi, bu yerda N - grafning qirralari soni, n - grafning uchlari soni, P - bog'liqlik komponenti soni. Bog'liqlik graf uchun $N-n+1$.

Teorema. Grafning siklomatik soni erkli sikllarning eng katta miqdoriga teng.

Misol. Quyidagi chizmada tasvirlangan grafning siklomatik soni 3 ga teng.



Ta'rif 2. Agar grafning uchlari to'plamini o'zaro kesishmaydigan shunday ikkita qism to'plamlarga (bo'laklarga) ajratish mumkin bo'lsaki, grafning ixtiyoriy qirasi bu to'plamlarning biridan olingan qandaydir uchni ikkinchi to'plamdan olingan biror uch bilan tutashtiradigan bo'lsa, u holda bunday graf ikki bo'lakli graf (bixromatik yoki Kyonig grafi) deb ataladi.

Nazorat uchun savollar:

1. Siklomatik son nima?
2. Siklomatik sonni formula orqali ifodalang.
3. Kyonig grafi deb nimaga ataladi?

4.5. Daraxtlar

Ta'rif. Agar G grafining u qirradi kamida bitta siklga tegishli bo'lsa, u siklik qirra, aks holda atsiklik qirra deb ataladi.

G graf uchun

$$\lambda(G) = m(G) - n(G) + k(G)$$

ifoda uning sarkomatik soni deb ataladi, bu yerda $m(G)$ G grafining qirralar soni, $n(G)$ - uchlari soni, $k(G)$ - komponental soni.

Osongina ko'rish mumkinki,

$$K(G|u) = \begin{cases} K(G), & \text{agar } u \text{ siklik qirra bo'lsa,} \\ K(G)+1, & \text{u atsiklik qirra bo'lsa;} \end{cases}$$

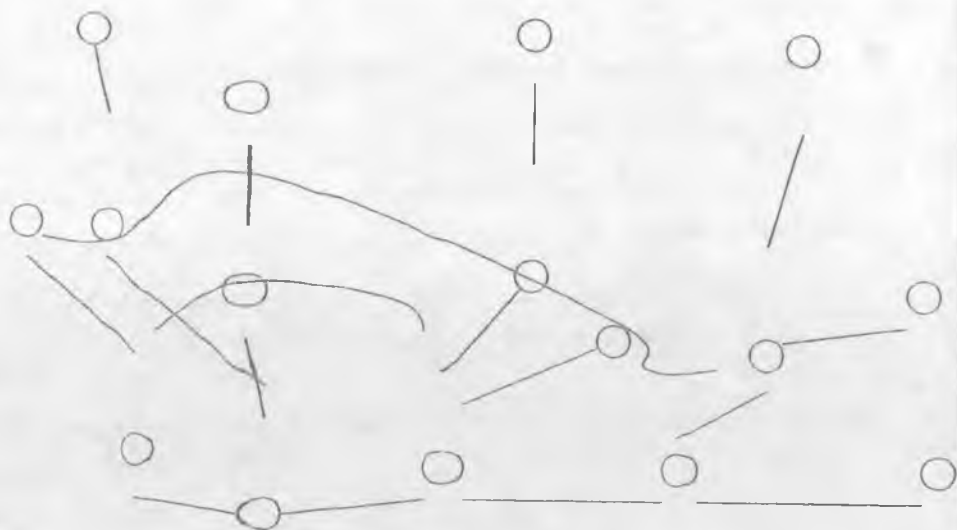
$$\lambda(G|u) = \begin{cases} \lambda(G)-1, & \text{agar } u \text{ siklik qirra bo'lsa,} \\ \lambda(G), & \text{agar } u \text{ atsiklik qirra bo'lsa.} \end{cases}$$

O'z-o'zidan ravshanki, $n(G|u) = n(G)$, $m(G|u) = \lambda(G)-1$, $\lambda(G) \geq 0$ va faqat sikllari bo'lmagan graf uchun $\lambda(G) = 0$.

Ta'rif. Barcha qirralari atsiklik bo'lgan bog'liq graf daraxt deb ataladi.

Bir nechta daraxtlardan tashkil topgan bog'liqmas graf o'rmon deyiladi.

Daraxtning istalgan 2 uchi yagona zanjir bilan bog'langandir. Daraxtning istalgan x_0 uchini tanlab olib, uni ildiz yoki nolinch pog'onali uch deb ataymiz. x_0 ga qo'shni bo'lgan barcha uchlarni birinchi pog'ona uchlari deyimiz va hokazo.



Daraxtning bunday tasvirlanishidan kelib chiqadiki u chetki, faqat bitta qirraga intsident bo'lgan uchlarga ega. Masalan, 14 shaklda oxirgi pog'onaning uchlari.

Bog'liq G grafning ketma-ket barcha siklik qirralarni olib tashlaymiz. Natijada hamma qirralar atsiklik bo'lgan bog'liq N grafni —daraxtni hosil qilamiz. Bu daraxt G grafning asosi deyiladi. N asosga nisbatan G/N bo'lakning barcha qirralari vatarlar deb ataladi.

Teorema 1. Chekli bog'liq G graf daraxt bo'lishi uchun uning qirralari soni uchlari sonidan bittaga kam bo'lishi zarur va yetarli.

Teorema (Keli) 2. Uchlari soni tartiblangan n ta bo'lgan daraxtlar soni n^{n-2} teng. (n ta elementlardan $n-2$ tadan tuzilgan barcha takronish o'rinlashtirishlar soni).

Teorema 3. Agar G graf daraxt bo'lsa, u holda uning qirralari soni m va uchlari soni n $m = n - 1$ munosabat bilan bog'langan.

Teorema 4. Quyidagi 4 ta shart teng kuchli:

- G graf daraxt hisoblanadi;
- Grafning qirralari soni m va uchlari soni n $m = n - 1$ munosabat bilan bog'langan;
- Grafning ixtiyoriy ikki uchi oddiy yo'l bilan bog'langan bo'lishi mumkin va bu yo'l yagonadir.
- G graf bog'langan va konturlarga ega emas.

Nazorat uchun savollar:

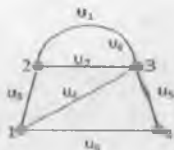
1. Siklik qirra nima?
2. Atsiklik qirra nima?
3. Siklomatik sonni formula orqali ifodalang.
4. Qanday graf daraxt deb ataladi?
5. Pog'ona uchlari deb nimaga aytiladi?
6. Grafning asosi deb nimaga aytiladi?
7. Chekli grafda qirralar va uchlari soni orasidagi munosabatni keltiring.
8. Keli teoremasini ayting

Mustaqil yechish uchun masalalar:

1. Chizmada keltirilgan grafning xromatik sonini toping:



2. Chizmada keltirilgan grafning xromatik sonini toping:



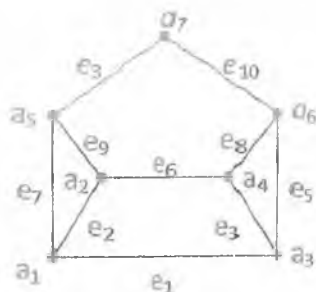
4.6. Qo`shnilik matritsasi

Faraz qilaylik, G graf yo`natirilmagan bo`lsin. Grafning qo`shnilik matritsasi A_{ij} ning ustunlariga ham qatorlariga ham grafning uchlari mos qo`yamiz. U holda

$$A_{ij} = \begin{cases} k, & \text{agar } a_i \text{ va } a_j \text{ uchlarni } k \text{ ta qirra birlashtirsa,} \\ 0, & \text{agar } a_i \text{ va } a_j \text{ uchlarni birlashtiruvchi qirra mavjud bo`lmasa.} \end{cases}$$

Yuqoridagi qoidadan foydalanib qo`shnilik matritsasini hosil qilamiz.

Misol.



Rasmda keltirilgan yo`naltirilmagan graf uchun qo`shnilik matritsasi quyidagicha bo`ladi.

$$\begin{array}{c}
 a_1 \quad a_2 \quad a_3 \quad a_4 \quad a_5 \quad a_6 \quad a_7 \\
 \begin{array}{c}
 a_1 \\
 a_2 \\
 a_3 \\
 a_4 \\
 a_5 \\
 a_6 \\
 a_7
 \end{array}
 \begin{pmatrix}
 0 & 1 & 1 & 0 & 1 & 0 & 0 \\
 1 & 0 & 0 & 1 & 1 & 0 & 0 \\
 1 & 0 & 0 & 1 & 0 & 1 & 0 \\
 0 & 1 & 1 & 0 & 0 & 1 & 0 \\
 1 & 1 & 0 & 0 & 0 & 0 & 1 \\
 0 & 0 & 1 & 1 & 0 & 0 & 1 \\
 0 & 0 & 0 & 0 & 1 & 1 & 0
 \end{pmatrix}
 \end{array}$$

G yo`naltirilgan graf bo`lsin. U holda qo`shnilik matritsasi A_{ij} ning ustunlariga ham satrlariga ham grafning uchlari mos qo`yamiz. U holda quyidagi qoidadan foydalanib qo`shnilik matritsasini hosil qilamiz.

$$A_{ij} = \begin{cases} 1, & \text{agar } a_i \text{ uch } a_j \text{ uchning boshlanishi bo`lsa,} \\ 0, & \text{agar } a_i \text{ uch } a_j \text{ uchga qo`shni bo`lmasa va } a_i \text{ uch } a_j \text{ uchning oxiri bo`lsa.} \end{cases}$$

Qo'shnilik matritsasining diagonalida turgan birlar grafning ilmoqlariga mos keladi.

Izolyatsiyalangan uchga nollardan tashkil topgan satr va ustun mos keladi.

Qo'shnilik matritsasi dagi birlar soni graf dagi qirralar soniga teng.

Nazorat uchun savollar:

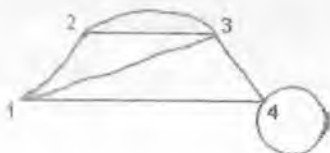
1. Qo'shnilik matritsasini ta'rifini bering.
2. Oriyentirlangan graf uchun qo'shnilik matritsasi qanday topiladi?

Mustaqil yechish uchun masalalar:

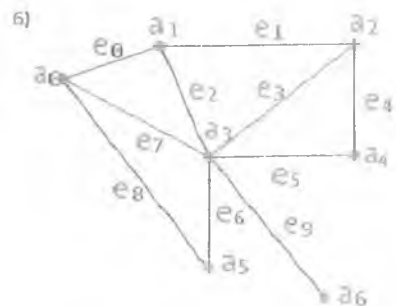
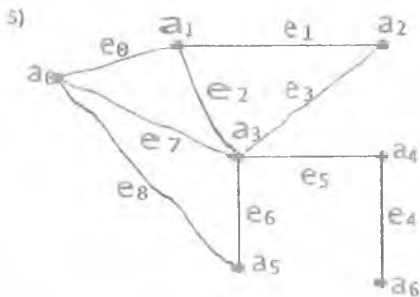
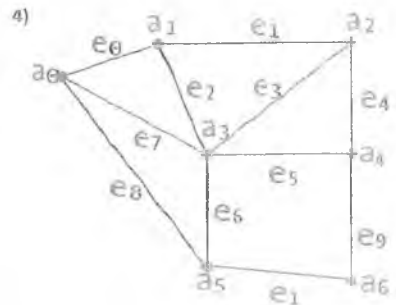
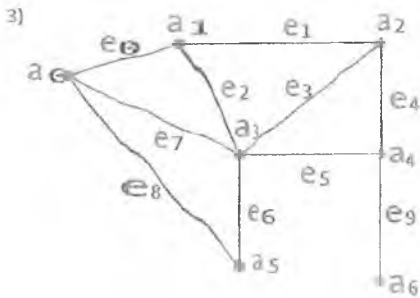
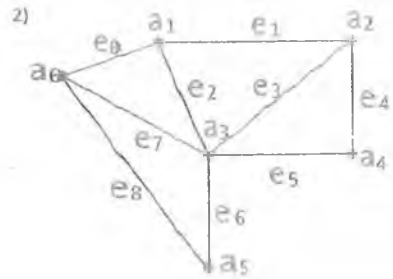
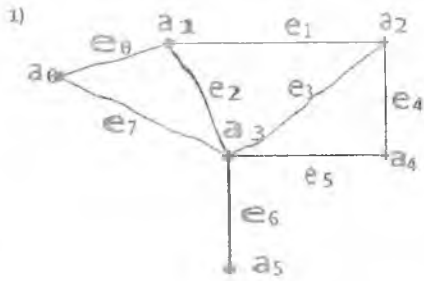
1. Berilgan qo'shnilik matritsasi ga ko'ra grafning tasvirini toping:

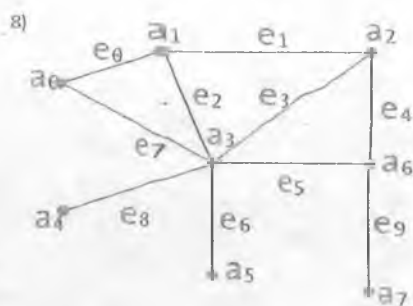
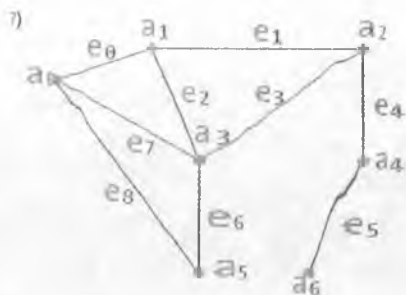
$$A = \begin{pmatrix} 0 & 1 & 2 \\ 1 & 1 & 1 \\ 2 & 1 & 0 \end{pmatrix}$$

2. Berilgan qo'shnilik matritsasi ga ko'ra grafning tasvirini toping:



3. Rasamda tasvirlangan graflar uchun qo'shmilik matritsasini yozing:





4.7. Insidentlik matritsasi

Bizga G yo'naltirilmagan, chekli graf berilgan bo'lsin. Aytaylik, (v_1, \dots, v_n) , G grafining uchlari bo'lsin. U holda insidentlik matritsasi $\|A_{ij}\|$ ($i=1, \dots, m$, $j=1, \dots, n$) deb m ta qator va n ta ustundan iborat quyidagi ko'rinishda hosil qilingan matritsaga aytiladi:

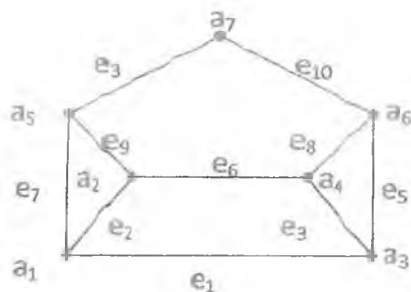
a) A_{ij} matritsaning satrlariga G ning uchlari, ustunlariga G ning qirralari mos qo'yiladi;

b) U holda

$$A_{ij} = \begin{cases} 1, & \text{agar } e_j \text{ qirra } a_i \text{ uchga insident bo'lsa,} \\ 0, & \text{aks holda.} \end{cases}$$

qoidadan foydalanib, insidentlik matritsasini hosil qilamiz.

Misol 1.



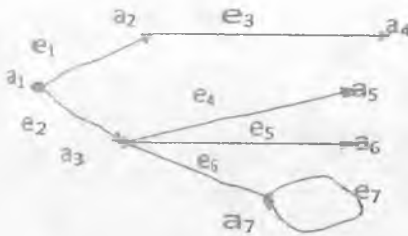
$$\begin{matrix}
 & e_1 & e_2 & e_3 & e_4 & e_5 & e_6 & e_7 & e_8 & e_9 & e_{10} \\
 \begin{matrix} a_1 \\ a_2 \\ a_3 \\ a_4 \\ a_5 \\ a_6 \\ a_7 \end{matrix} & \begin{pmatrix} 1 & 1 & 0 & 0 & 0 & 0 & 1 & 0 & 0 & 0 \\ 0 & 1 & 0 & 0 & 0 & 0 & 1 & 0 & 1 & 0 \\ 1 & 0 & 1 & 0 & 1 & 0 & 0 & 0 & 0 & 0 \\ 0 & 0 & 1 & 0 & 0 & 1 & 0 & 1 & 0 & 0 \\ 0 & 0 & 1 & 0 & 0 & 0 & 1 & 0 & 1 & 0 \\ 0 & 0 & 0 & 0 & 1 & 0 & 0 & 1 & 0 & 1 \\ 0 & 0 & 1 & 0 & 0 & 0 & 0 & 0 & 0 & 1 \end{pmatrix}
 \end{matrix}$$

Agar G yo'naltirilgan graf bo'lsa, u holda

$$A_{ij} = \begin{cases} -1, & \text{agar } a_j \text{-uch } e_i \text{-qirraning boshlanishi bo'lsa,} \\ 1, & \text{agar } a_j \text{-uch } e_i \text{-qirraning oxiri bo'lsa,} \\ 0, & \text{agar } a_j \text{-uch } e_i \text{-qirraga incident bo'lmasa,} \\ 2, & \text{agar } a_j \text{-uch } e_i \text{-qirraga incident bo'lsa.} \end{cases}$$

qoidadan foydalanib incidentlik matritsasini hosil qilamiz.

Misol 2.



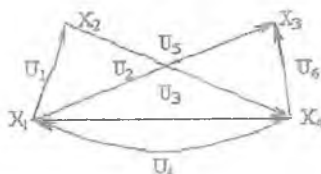
	e_1	e_2	e_3	e_4	e_5	e_6	e_7
a_1	1	1	0	0	0	0	0
a_2	-1	0	1	0	0	0	0
a_3	0	-1	0	1	1	1	0
a_4	0	0	-1	0	0	0	0
a_5	0	0	0	-1	0	0	0
a_6	0	0	0	0	-1	0	0
a_7	0	0	0	0	0	-1	2

Oriyentirlangan graf uchun insidentlik matritsasi deb har bir elementi a_{ij} quyidagicha aniqlangan $[n \times m]$ tartibli to'g'ri burchakli matritsaga aytiladi, bu erda n - uchlarning to'plamining quvvati, m - qirralarning to'plamining quvvati

$$a_{ij} = \begin{cases} 1, & \text{agar } x_i \text{ } u_j \text{ uchning boshi bo'lsa,} \\ -1, & \text{agar } x_i \text{ } u_j \text{ uchning oxiri bo'lsa,} \\ 0, & \text{agar } x_i \text{ } u_j \text{ qirraga insident bo'lmasa.} \end{cases}$$

agar x_i u_j uchning boshi bo'lsa,
 agar x_i u_j uchning oxiri bo'lsa,
 agar x_i u_j qirraga insident bo'lmasa.

Misol 3. Rasmida tasvirlangan graf uchun insidentlik matritsasini yozamiz:



Buning uchun qirralarni u_1, u_2, \dots, u_6 bilan belgilab chiqamiz. Insidentlik matritsasining ko'rinishi quyidagicha bo'ladi.

$$\begin{array}{c}
 u_1 \quad u_2 \quad u_3 \quad u_4 \quad u_5 \quad u_6 \\
 \begin{array}{c}
 x_1 \\
 x_2 \\
 x_3 \\
 x_4
 \end{array}
 \begin{pmatrix}
 1 & 1 & 1 & -1 & 0 & 0 \\
 -1 & 0 & 0 & 0 & 1 & 0 \\
 0 & -1 & 0 & 0 & 0 & -1 \\
 0 & 0 & -1 & 1 & -1 & 1
 \end{pmatrix}
 \end{array}$$

Nazorat uchun savollar:

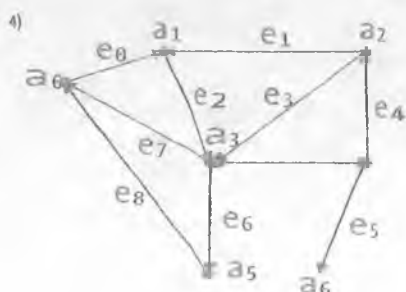
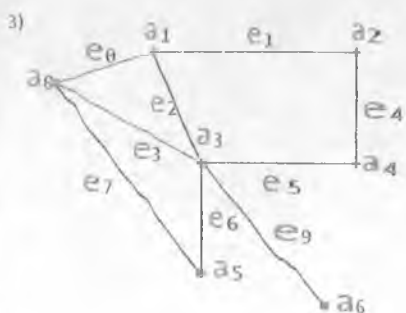
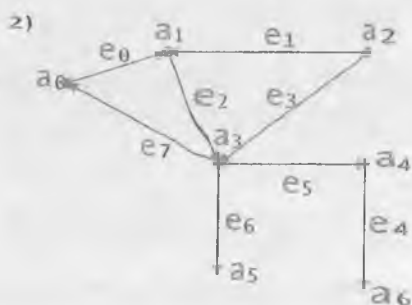
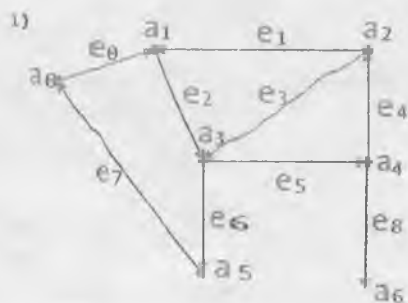
1. Insidentlik matritsasini ta'rifini bering.
2. Oriyentirlangan graf uchun insidentlik matritsasi qanday topiladi?

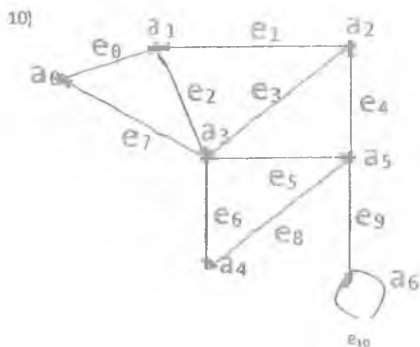
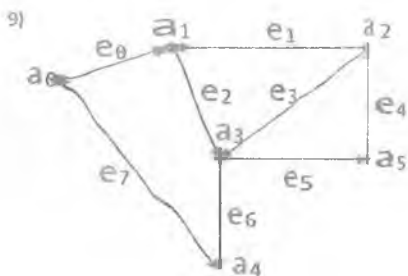
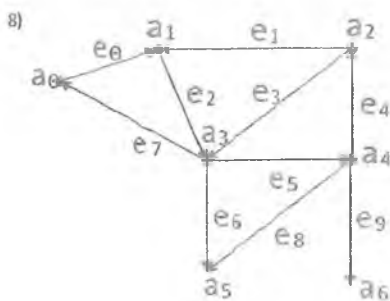
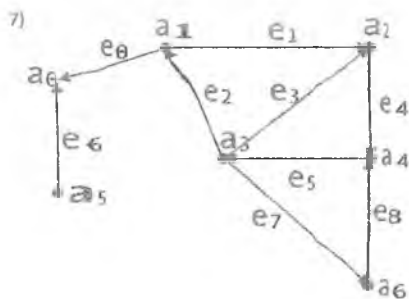
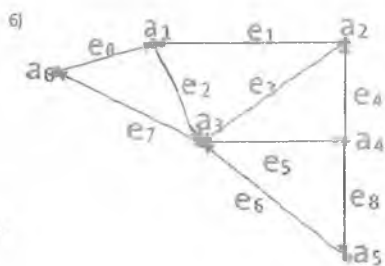
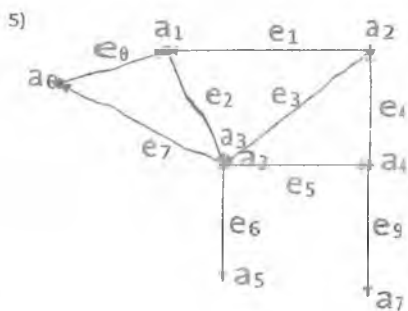
Mustaqil yechish uchun masalalar:

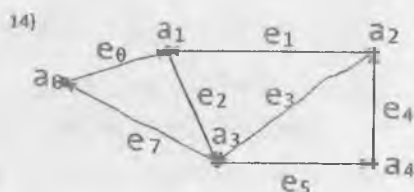
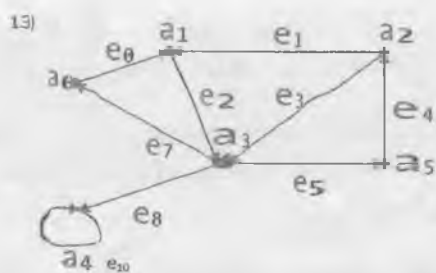
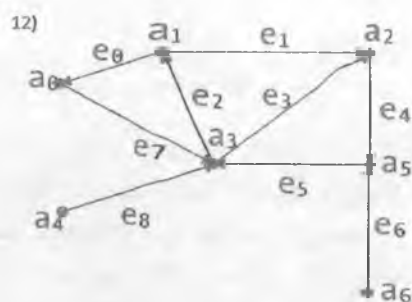
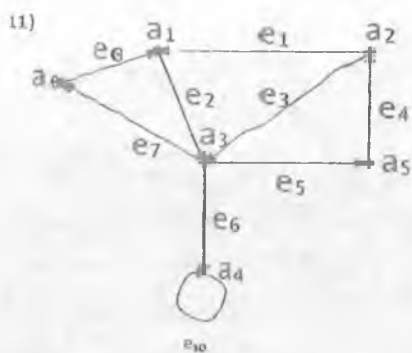
1. Berilgan insidentlik matritsasi ga ko'ra grafning tasvirini toping:

$$A_H = \begin{pmatrix} 1 & 0 & 0 & 1 & 1 \\ 0 & 1 & 0 & 0 & 1 \\ 0 & 0 & 1 & 1 & 0 \\ 1 & 1 & 0 & 0 & 0 \end{pmatrix}$$

2. Quyidagi yo'naltirilgan va yo'naltirilmagan graf lar uchun insidentlik matritsalarini aniqlang:







4.8. Graflarni bo'yash

Planar graflarni bo'yash masalasi graflar nazariyasining eng mashhur muammolaridan biri hisoblanadi. Ushbu masala o'tgan asrning o'rtalarida paydo bo'lgan bo'lsa ham hamon mutaxassis va qiziquvchilar e'tiboriga sazovor. Graflarni bo'yash masalasi quyidagicha paydo bo'lgan: geografik kartani bo'yash uchun ixtiyoriy 2 ta qo'shni davlatni rangi har xil bo'lishini ta'minlashda 4 xil rang yetadimi? Bunda ixtiyoriy davlat chegarasi yopiq chiziqdan iboratligi, qo'shni mamlakatlar esa

umumiy chegara uzunligini tashkil etishini ko'rib chiqiladi. Keyinchalik karta tushunchasi va uning bo'yalishi boshqacharoq ko'rinishda talqin etilgan. Aytish mumkin, ko'priklarsiz bog'langan tekis multigraf karta deb ataladi. Umumiy qirraga ega bo'lgan karta tomonlari chegaradosh hisoblanadi.

f funksiya mavjud bo'lib, unda G - 1 dan k gacha raqamlardan iborat va $f(G)$ - chegara rangi, G - esa k -rang hisoblanadi (qo'shni chegaralar turli xil bo'lganda). k -rang mavjud bo'lsa, karta k - bo'yalgan deyiladi. 1879 yilda britaniyalik matematik A. Keli kartalarni bo'yash muammosini 4 ta rang gipotezasi orqali ta'riflab berdi. 4 bo'yoq farazi: har qanday karta 4 xil bo'yoq bilan bo'yaladi. Ko'pincha 4 bo'yoq farazini boshqacha ta'bir bilan foydalaniladi: har qanaqa planar graf 4 bo'yoqda bo'yaladi.

Ta'rif. Agar geometrik ikkilik graf G^* uchi k - bo'yalgan bo'lsa, karta G k -bo'yalgan deyiladi.

Eslatib o'tamizki, shunday tekis graflar mavjudki, ular 4 rangdan kamroq rangda to'g'ri bo'yalgan. Masalan, K_4 grafi.

4 ta rang gipotezasi unchalik qiyindek tuyilmadi va uning bir nechta isbotlari paydo bo'ldi.

Teorema. Ixtiyoriy 3 ta sikldan kam bo'lmagan yassi graf 3 xil rangda bo'yaladi.

Graflarning qirralarinigina emas, uchlarini ham bo'yash mumkin.

Nazorat uchun savollar:

1. Graf qachon k - bo'yalgan deyiladi?
2. Qaysi shart bajarilganda graf 3 xil rangda bo'yaladi?

4.9. To'rt xil rang masalasi

To'rt xil rang gipotezasi o'sha davrlarda ko'pgina izlanuvchilarning diqqatiga tushgan. 1880 yilga kelib esa bu masalaning birinchi isbotini A. Kemp taqdim etdi. 1890 yilda R. Xivud bu isbotning xatosini aniqladi. Shu bilan birga u agar to'rt so'zini besh so'ziga o'zgartirilganda, uni usbotlash osonroq bo'lishini ta'kidlagan.

To'rt xil rang gipotezasi masalasini quyidagi uchta tasdiq yordamida hal qilinadi:

1. Ixtiyoriy yassi graf 4 xil rangda bo'yaladi.
2. Har bir kub karta 4 ta rangda bo'yaladi.
3. 3 xromatik indeks ixtiyoriy kub karta teng bo'lishi mumkin.

Teorema. (to'rtta bo'yoqlar haqida teorema) Agar G planar graf bo'lsa, unda $\chi(G) < 4$.

Agar G graf planar bo'lmasa, uni geometrik tasvirlash uchun ayrim qirralarni olib tashlaymiz (boshqa tekislikka o'tkaziladi).

Grafni tekislikdagi tasvirini hosil qilish uchun, olib tashlashi zarur bo'lgan qirralarining minimal sonini G grafning planarlik soni deyiladi. Bu qirralarni ikkinchi tekislikka o'tkazish natijasida, grafni qismi hosil bo'ladi, lekin u tekis bo'lmasligi mumkin. U holda yana ayrim qirralarni keyingi tekislikka o'tkazish masalasi yechiladi.

Nazorat uchun savollar:

1. To'rt xil rang gipotezasi masalasini hal qiluvchi uchta tasdiqni keltiring.
2. To'rtta bo'yoq haqidagi teoremani ayting.

ALGEBRAIK TIZIMLAR

5.1.1. Algebraik tizimlar

Ko'pgina hollarda diskret matematika va uning tətbiqlarida o'rganish ob'yekti sifatida to'plam bilan birga uning tuzilishi ham ahamiyatga ega bo'ladi.

Ma'lumki, odatdagi arifmetika, geometriya ob'yektlari bilan sonli amallarni bog'laydigan chiziqli fazo hamda biror binar munosabat aniqlangan to'plamlar asosida maydon tushunchasi kiritiladi. Barcha bunday strukturalar algebraik tizimlarni tashkil etadi. Algebraik tizimlarning aniq ta'rifini keltiramiz.

Ta'rif 1. Bo'sh bo'lmagan A to'plamni qaraymiz. Bu to'plamda n -o'rinli f akslantirishni kiritamiz: $f: A^n \rightarrow A$. f funksiya bo'lganligi sababli, ixtiyoriy $(x_1, x_2, \dots, x_n) \in A^n$ elementlar uchun f amalini qo'llash natijasi $f(x_1, x_2, \dots, x_n)$ bir qiymatli aniqlanadi. f amalining qiymatlar sohasi A to'plamga tegishli bo'lgan uchun f amalini A to'plamda yopiq amal deb ataymiz.

Ta'rif 2. Signatura yoki til Σ deb o'rni ko'rsatilgan predikat va funksional simvollar to'plamiga aytiladi. 0 -o'rinli funksional simvolga *constant*a deyiladi.

Agar α funksional yoki predikat simvoli bo'lsa, u holda uni o'rni $\mu(\alpha)$ yordamida belgilanadi.

n -o'rinli predikat va funksional simvollarini mos ravishda P^n va f^n orqali belgilaymiz. Agar qaralayotgan signaturada standart simvollar foydalanilayotgan bo'lsa, masalari: qo'shish amali uchun $+$, tartiblash munosabati uchun \leq , bo'lish amali uchun $/$, constant uchun 0 va shu kabilar, u holda biz quyidagicha yozamiz: $\Sigma = \{\leq, +, 0\}$, $\Sigma = \{+, -, /, 0, 1\}$

Ta'rif 3. Σ signaturali algebraik tizim $U = \{A, \Sigma\}$ deb bo'sh bo'lmagan A to'plamga aytiladi, bunda har bir n -o'rinli predikat (funksional) simvolga A

to'plamda aniqlangan n -o'rinli predikat mos qo'yilgan. A to'plam $\{A, \Sigma\}$ algebraik tizimning tashuvchisi yoki universumi deb ataladi.

Ta'rif 4. Σ dagi simvollariga mos keluvchi predikatlar va funksiyalar interpretatsiyalar deyiladi.

Interpretatsiyalarni ham signaturaning mos simvollari bilan belgilaymiz. Ixtiyoriy constant simvolning interpretatsiyasi A to'planning biror bir elementi bo'ladi. Algebraik sistemalar odatda U, B, \dots kabi harflar bilan, ularning tashuvchilari esa A, B, \dots kabi harflar bilan belgilanadi. Ko'p hollarda algebraik tizim o'miga "algebraik" so'zi tushirib qoldirilib, tizim yoki struktura so'zi ishlatiladi.

Ta'rif 5. Algebraik tizimning quvvati deb A "tashuvchi"ning quvvatiga aytiladi.

Agar Σ signatura predikat (funktional) simvollariga ega bo'lmasa, u funksional (predikat) signatura deb ataladi.

Agar tizimning signaturasi funksional (predikat) bo'lsa, unga algebra (model) deyiladi.

Misol 1. $\omega = 0, 1, 2, \dots$ bo'lsin, u holda $\{\omega, +, \cdot\}$ to'plam ikkita ikki o'rinli amallar bilan algebra tashkil etadi.

Misol 2. $\{\omega, \leq, +, \cdot, ', 0, 1\}$ to'plam $\leq (\mu (\leq) = 2)$ binar munosabatli, $+$, $\cdot (\mu (+) = \mu (\cdot) = 2)$ ikki o'rinli amallar, $' : n \rightarrow n+1$ bir o'rinli amal ($\mu (')=1$) va ikkita nol o'rinli amallar (constantalar) $0, 1$ ($\mu (0) = \mu (1) = 0$) sistemasidir.

Misol 3. $\{Z, +, \cdot, \sqrt{2}\}$ majmua algebra tashkil etmaydi, chunki bo'lish Z to'plam amali hisoblanmaydi, masalan $2:3 \notin Z$, $\sqrt{2}$ element ham Z to'plamga tegishli emas.

Misol 4. $\{F(U), U, \cap, -\}$ majmua ikki o'rinli amallar-, : U, \cap ; bir o'rinli amal - : $A \rightarrow \bar{A}$; constantalar $0 = \emptyset$ va $1 = U$ bilan algebra tashkil etadi, uni Kantor algebra deb yuritiladi.

Misol 5. Ixtiyoriy halqa algebra bo'ladi.

Misol 6. $\{f(x) | f: R \rightarrow R\} \frac{d}{dx}$ juftlik (burda $\frac{d}{dx}$ differensiallash amali) algebra bo'la olmaydi, chunki hamma funksiyalar ham differensiallanuvchi emas. Agar cheksiz marotaba differensiallanuvchi funksiyalar $A = \{f(x)\}$ to'plami qaralsa, u holda differensiallash amali $\frac{d}{dx}$ A to'plamda akslantirish bo'ladi va $\{A, \frac{d}{dx}\}$ juftlik algebra tashkil etadi.

Aytib o'tish kerakki, A^0 to'plamni A to'plamga akslantiruvchi f qisman amalni $(n+1)$ o'rinli munosabat deb qarash mumkin:

$$R_f = \{(x_1, x_2, \dots, x_n, y) | (x_1, x_2, \dots, x_n) \in A^n, y = f(x_1, x_2, \dots, x_n)\}$$

Shu sababli oxirgi misoldagi $\{f(x) | f: R \rightarrow R\} \frac{d}{dx}$ juftlikni, $\frac{d}{dx}$ amalni binar munosabat $\{(f, g) | g = \frac{df}{dx}\}$ deb hisoblansa, algebraik sistema deb qarash mumkin.

Nazorat uchun savollar:

1. To'plamlar dekart ko'paytmasi ta'rifini keltiring.
2. N-o'rinli binar munosabat ta'rifini keltiring.
3. Signatura yoki til deb nimaga aytiladi?
4. Predikat va funksional simvol to'plamiga misollar keltiring.
5. Algebraik tizim ta'rifini keltiring.
6. Algebra ta'rif bering va misollar keltiring.

5.1.2. Gruppya va yarim gruppalar.

Ta'rif 1. $\Sigma = \{f\}$ $\mu(f) = 2$, signaturali U algebra gruppoid deb ataladi.

Bundagi birgina amali odatda \cdot kabi belgilanadi, $U = \{A, \cdot\}$.

Agar A to'plam chekli bo'lsa, amalni jadval orqali berish mumkin, bunda har bir $(a_i, a_j) \in A^2$ juftlik natijasi jadvalda ko'rsatiladi.

Ta'rif 2. Bunday jadvalga U gruppoidning Keli jadvali deyiladi. Agar \cdot amali assosiativlik xossasiga ega, ya'ni barcha $x, y, z \in A$ elementlar uchun $(x \cdot y) \cdot z = x \cdot (y \cdot z)$ tenglik bajarilsa, U gruppoidga yarim gruppya deb ataladi.

Agar bir deb ataladigan $e \in A$, element mavjud gruppaga, barcha $x \in A$ elementlar uchun $e \cdot x = x \cdot e = x$ tenglik bajarihsa, U yarim guruhga monoid deb ataladi. Yarim gruppya va monoidlar til nazariyasida so'zlarni qayta ishlashda muhim o'rin tutadi.

Misol 1. Faraz qilaylik $W(X)$ X alfavitdagi so'zlar to'plami bo'lsin. $W(X)$ to'plamda KONKATENATSIYA amalini quyidagicha aniqlaymiz: Agar $\alpha, \beta \in W(X)$, u holda $\alpha \cdot \beta = \alpha\beta$ yani amal natijasi $\alpha \vee \beta$ so'zlarni birlashtirishdan iborat bo'ladi, masalan, $xyz^{\wedge}zx = xyzzx$. Assosiativlik xossasi bajariladi, ya'ni ixtiyoriy α, β, γ so'zlar uchun $(\alpha \cdot \beta) \cdot \gamma = \alpha \cdot (\beta \cdot \gamma)$ tenglik o'rinli bo'ladi. Shu sababli $\{W(X), \cdot\}$ sistema yarim gruppya hosil qiladi.

Shu bilan birga barcha $\alpha \in W(X)$ lar uchun $\alpha \cdot \alpha = \alpha \cdot \alpha = \alpha$, bunda α - bo'sh so'z, bajarilgani uchun α birlik element vazifasini bajaradi. Shunday qilib $\{W(X), \cdot\}$ sistema monoid hosil qiladi.

Agar istalgan $x \in A$ element uchun shunday $x^{-1} \in A$ element mavjud bo'lsaki $x \cdot x^{-1} = x^{-1} \cdot x = e$ tenglik o'rinli bo'lsa, u holda $U = \{A, \cdot\}$ monoidga gruppaga deb

ataladi. x^{-1} element $x \in A$ elementga teskari element deb ataladi. Agar istalgan $x, y \in A$ elementlar uchun $x \cdot y = y \cdot x$ tenglik o'rinli bo'lsa, U gruppaga kommutativ yoki Abel gruppasi deb ataladi.

Misol 2. Agar $\{K, +, \cdot\}$ halqa bo'lsa, u holda $\{K, +\}$ Abel gruppasi bo'ladi

Misol 3. $\langle GL_n(K), \cdot \rangle$ sistema, bunda $GL_n(K) = \{A \mid A \in K \text{ maydonda aniqlangan } n\text{- tartibli matritsa va } a_{ii} = 1, n \geq 2\}$ bo'lganda, kommutativ bo'lmagan gruppaga hosil qiladi.

Nazorat uchun savollar:

7. Gruppoidga ta'rif bering va misollar keltiring.
8. Yarim gruppoidga ta'rif bering va misollar keltiring.
9. Gruppaga tushunchasiga ta'rif bering va misollar keltiring.
10. Abel gruppasiga misollar keltiring.

5.2. Morfizmlar

Faraz qilaylik $U = \{A, \Sigma\}$, $B = \{B, \Sigma\}$ algebraik tizimlar berilgan bo'lsin.

Ta'rif 1. Agar $\varphi: A \rightarrow B$ akslantirish uchun quyidagi shartlar bajarilsa,

1) U va B sistemalaridagi f_U va f_B funksiyalarga mos keluvchi istalgan funksional simvol $f^{a_i} \in \Sigma$ uchun va istalgan $\alpha_1, \alpha_2, \dots, \alpha_n \in \Sigma$ uchun

$$\varphi(f_U(\alpha_1, \alpha_2, \dots, \alpha_n)) = f_B(\varphi(\alpha_1), \varphi(\alpha_2), \dots, \varphi(\alpha_n));$$

2) U va B tizimlardagi P_U va P_B predikatlarga mos keluvchi istalgan $\varphi^{(n)} \in \Sigma$ predikat simvollar uchun va ixtiyoriy $\alpha_1, \alpha_2, \dots, \alpha_n \in A$ uchun $\alpha_1, \alpha_2, \dots, \alpha_n \in P_U \Rightarrow (\varphi(\alpha_1), \varphi(\alpha_2), \dots, \varphi(\alpha_n)) \in P_B$ unga U sistemani B sistemaga akslantiruvchi gomomorfizm deb ataladi.

Agar $\varphi: A \rightarrow B$ gomomorfizm bo'lsa, uni quyidagicha belgilaymiz: $\varphi: U \rightarrow B$.

Gomomorfizmda amallar harakati va munosabati saqlanadi. Bu bir sistemaning xossalarini o'rganishda boshqa sistemaga ko'chirishga imkon beradi.

Misol. $U = \{Z, +, \leq\}$ va $B = \{Z^2, +, \leq\}$ sistemalarni qaraymiz, B sistemada qo'shish quyidagi qoida bo'yicha amalga oshiriladi.

$(a_1, b_1) + (a_2, b_2) \Leftrightarrow a_1 + a_2, b_1 + b_2$, tartiblash munosabati

$(a_1, b_1) \leq (a_2, b_2) \Leftrightarrow a_1 \leq a_2 \text{ va } b_1 \leq b_2$.

$\varphi: Z \rightarrow Z^2$ akslantirish $\varphi(a) = (a, 0)$ sharti bo'yicha aniqlansa u gomomorfizm bo'ladi. Haqiqatdan, ham istalgan $a, b \in Z$ uchun $\varphi(a+b) = (a+b, 0) = (a, 0) + (b, 0) = \varphi(a) + \varphi(b)$ agar $a \leq b$ bo'lsa, u holda $(a, 0) \leq (b, 0)$, ya'ni $\varphi(a) \leq \varphi(b)$ munosabatlar bajariladi.

Ta'rif 2. In'yeksiya bo'lgan $\varphi: U \rightarrow B$ gomomorfizmga monomorfizm deb, sur'yeksiya bo'lgan gomomorfizmga epimorfizm deb ataladi va bu holda B sistema U sistemaning gomomorf obrazi deyiladi. $\varphi: U \rightarrow U$ gomomorfizmga endomorfizm deb ataladi. $\varphi: U \rightarrow U$ monomorfizm sur'yeksiya bo'lsa va φ^{-1} -gomomorfizm bo'lsa, unga izomorfizm deb ataladi va quyidagicha belgilanadi $\varphi: U \cong B$. Agar $\varphi: U \cong B$ izomorfizm mavjud bo'lsa, U va B sistemalar izomorf deyiladi va $\varphi: U \cong B$ ka'bi belgilanadi.

$\varphi: U \rightarrow U$ izomorfizmga U sistemaning avtomorfizmi deb ataladi. $\varphi: U \rightarrow B$ izomorfizm biyeksiya sistemalar teng quvvatli bo'ladi.

Lemma.

1. $\text{id}_A: U \rightarrow U$

2. Agar: $\varphi: U \rightarrow B$, u holda $\varphi^{-1}: B \rightarrow U$.

3. Agar $\varphi: U_1 \rightarrow U_2$ va $\varphi: U_2 \rightarrow U_3$ bo'lsa, u holda $\varphi_1 \varphi_2: U_1 \rightarrow U_3$ bo'ladi.

Misol 1. Geometrik vektor fazoda vektorlarni qo'shish va haqiqiy songa ko'paytirish amallari bilan berilgan E_3 to'plamni qaraymiz. Cheksiz signaturali $U = \{E_3, +, \{\lambda \cdot\}_{\lambda \in R}\}$ sistemaga ega bo'lamiz, bunda bir o'rinli $\lambda \cdot$ funksiyalar har bir \vec{a} vektorga $\lambda \cdot \vec{a}$ vektorni mos qo'yadi. Shu bilan birga $B = \{R^3, +, \{\lambda \cdot\}_{\lambda \in R}\}$ sistemani qaraymiz, uning "fashuvchisi" uchta (x, y, z) haqiqiy sonlardan, ikki o'rinli koordinatalar bo'yicha qo'shish amali (+), va uchlikni λ haqiqiy songa ko'paytirish amali.

U va B sistemalar R -haqiqiy sonlar maydonida chiziqli fazo bo'ladi. Biror tayin $\vec{a}_1, \vec{a}_2, \vec{a}_3$ bazisda $\vec{a} \in E_3$ vektorga uni koordinata qatori (x, y, z) ni mos qo'yuvchi φ akslantirish biyeksiya bo'ladi, $\varphi: E_3 \rightarrow R^3$; bunda $\varphi = (\vec{a} + \vec{b}) = \varphi(\vec{a}) + \varphi(\vec{b})$, $\varphi(\lambda \cdot \vec{a})$ tengliklar o'rinli bo'ladi. Shunday qilib φ akslantirish U va B chiziqli fazolarda izomorfizm bo'ladi, bundan geometrik vektorlarni o'rganish asosida uchlik sonlarni o'rganish mumkin va aksincha.

Misol 2. Berilgan U to'plam uchun $\{P(U), \cap, \cup, 0, 1\}$ sistema $(P(U), \cup, \cap, 0, 1)$ sistemaga $\varphi: A \mapsto A'$ biyeksiya mavjudligi sababli izomorf bo'ladi. Haqiqatdan ham, De-Morgan qonuniga ko'ra istalgan B va $C \in P(U)$ to'plam uchun:

$$\varphi(\overline{B \cap C}) = \overline{B' \cap C'} = \overline{B' \cup C'} = \varphi(B) \cup \varphi(C),$$

$$\varphi(\overline{B \cup C}) = \overline{B' \cup C'} = \overline{B' \cap C'} = \varphi(B) \cap \varphi(C)$$

Shu bilan birga $\overline{0} = 1$, $\overline{1} = 0$.

Misol 3. $U = ((0, \infty))$, $B = (\mathbb{R}, +)$ gruppalarda aniqlangan $\varphi: (0, \infty) \rightarrow \mathbb{R}$ akslantirishni qaraymiz, $\varphi(x) = \log_p x$, $p \in (0, \infty)$ - tayin musbat son, $p^p = 1$. φ akslantirish U, B sistemalarda aniqlangan izomorfizm bo'ladi. Bu musbat sonlarni ko'paytirish amalini haqiqiy sonlarni qo'shish amali yordamida amalga oshirishga imkon beradi, bu quyidagi tenglikka asoslangan:

$$a \cdot b = \varphi^{-1}(\varphi(a) + \varphi(b))$$

Nazorat uchun savollar:

1. Gomonorfizm ta'rifini ketiring.
2. Monomorfizm, epimorfizm va endomorfizmlarga ta'rif bering va misollar keltiring.
3. Izomorfizm va avtomorfizmlarga ta'rif bering va misollar keltiring.

5.3. Qism tizimlar.

Ta'rif 1. Agar $U = (A, \Sigma)$, $B = (B, \Sigma)$ algebraik tizimlar uchun quyidagi shartlar

a) $A \subseteq B$

f_U, f_B funksiyalarga mos istalgan $f^{(\sigma)} \in \Sigma$ funksional simvol uchun va istalgan $a_1, a_2, \dots, a_n \in A$ elementlar uchun $f_U(a_1, a_2, \dots, a_n) = f_B(a_1, a_2, \dots, a_n)$ tenglik bajarilsin,

b) ya'ni f simvolning interpretatsiyasi A to'plam elementlarida ham bir xil harakat qilsin.

c) P_U va P_B predikatlarga mos bo'lgan ixtiyoriy $P^{(u)} \sum$ predikat simvol uchun $P_U = P_B \cap A^n$ tenglik o'rinli bo'lsin, bajarilsa U tizim B tizimga qisimtizim deb ataladi va $U \leq B$ kabi belgilanadi.

Ta'rif 2. Agar \sum funksional (predikat) signatura bo'lsa, B algebraning (modelning) U qisimtizimi **qismalgebra (qismmodel)** deb ataladi.

Misol 1. Agar V' va V -chiziqli fazoning qism fazosi bo'lsa, u holda $V' \cap V$ sistemaning qisimsistemi (qismalgebrasi) bo'ladi.

Misol 2. Agar $\Sigma = \{P^{(r)}\}$, $B = (B, \Sigma)$, $\emptyset \neq A \subseteq B$ u holda $U = (A, \Sigma)$ B sistemaning qisimsistemi bo'lishi uchun $P_U = P_B \cap A^n$ tenglik bajarilishi zarur va yetarlidir.

Teorema. Agar B -algebraik sistema bo'lsa va $X \subseteq B$ $X \neq \emptyset$ u holda носитель $B(X)$ bo'lgan yagona qisimto'plam $B(X) \subseteq C$ mavjud bo'ladiki, bunda istalgan qisimsistema $U \subseteq B$ $X \subseteq U$ uchun $X \subseteq B(X)$ va $B(X) \subseteq U$ munosabat bajariladi.

Isboti: $B(X)$ o'rnida barcha qism $U \subseteq B$ sistemalarning X to'plamini o'z ichiga olgan tashuvchini kesishmalarini qaraymiz.

$X \subseteq B(X)$ bo'lgani uchun $B(X) \neq \emptyset$. $B(X)$ qisimsistemaning yagonaligini tushunish qiyin emas. Keltirilgan teoremadagi $B(X)$ qisimsistema B sistemadagi X to'plamdan hosil qilingan qisimsistema deb ataladi. Bu qisimsistema B sistemaning X to'plamini o'z ichiga olgan eng kichik qism sistemasi bo'ladi.

Teorema isbotlandi.

Misol 3. V -chiziqli fazo bo'lsin. S to'plam V fazoning bo'sh bo'lmagan vektorlar to'plami bo'lsin, u holda V fazodagi S to'plamning $\varepsilon(S)$ -chiziqli qobig'i S to'plamdagi vektorlarning barcha chiziqli kombinatsiyalaridan iborat bo'ladi. $\varepsilon(S)$ algebra V fazoning S to'plamdan hosil qilingan qism algebrasi $B(X)$ qism tizimning tuzilishini indeksiya bo'yicha Σ signatura ternasi tushunchasini aniqlash bo'yicha keltiramiz.

1) Σ signaturadagi o'zgaruvchi va constant simvollar termalaridir.

2) Agar $f \in \Sigma^{-n}$ o'rinli funksional simvol va t_1, t_2, \dots, t_n termalar bo'lsa, u holda $f(t_1, t_2, \dots, t_n)$ terma bo'ladi.

3) 1) va 2) punktlar bo'yicha hosil qilingan termalardan boshqa hech qanday terma mavjud emas.

Ta'rif 3. Signaturadagi funksional simvollar yordamida tuzilgan funksional ifodalar termalar bo'ladi.

Σ signaturaning barcha termalar to'plami $T(\Sigma)$ orqali belgilanadi.

Misol. $\Sigma = \{+, \cdot, \leq, 0\}$ signaturada, masalan, $0, x, x+y, zx(x+z)+0xy$ termalar bo'ladi.

$$x + y \leq (0 + z) \cdot x \text{ terma bo'lmaydi.}$$

Nazorat uchun savollar:

1. Qism tizimga ta'rif bering.
2. Qism algebra deb nimaga aytiladi?
3. Terma tushunchasiga ta'rif bering.

5.4. Kongruensiya. Faktor – algebra

Ta'rif 1. Agar $\theta \leq A^2$ ekvivalentlik munosabati uchun istalgan $n \in \mathbb{N}$, ixtiyoriy n o'rinli $f \in \Sigma$ simvol uchun, ixtiyoriy (a_1, a_2, \dots, a_n) va $(b_1, b_2, \dots, b_n) \in A^n$ majmualar uchun $a_1 \theta b_1, a_2 \theta b_2, \dots, a_n \theta b_n$ bajariladigan $f(a_1, a_2, \dots, a_n) \theta f(b_1, b_2, \dots, b_n)$ bajarilishidan kelib chiqsa, θ ekvivalent munosabatga $U = (A, \Sigma)$ algebrada kongruensiya deb ataladi.

Bu barcha amallarni θ ekvivalentlik munosabati bilan moslanganligini bildiradi

Masalan, qo'shish amali uchun quyidagicha ifodalanadi: Istalgan $x, y \in A$ elementlar uchun, ixtiyoriy $a \in \theta(x)$, $b \in \theta(y)$, $a+b$ element $\theta(x+y)$ sinfga tegishli bo'ladi.

A to'plamning θ kongruensiyasi bo'yicha faktor to'plamini qaraymiz:

$$A/\theta = \{\theta(x) \mid x \in A\}$$

bu to'plamda Σ signaturali algebra ni aniqlaymiz. A algebra ning konstanti C ga $\theta(c)$ elementni mos qo'yamiz, bu element A/θ to'plamda constant simvol C ga mos keladi. Agar f n -o'rinli Σ dagi simvol bo'lsa, u holda A/θ to'plamda f funksiyani quyidagi qoida bo'yicha aniqlaymiz:

$$f(\theta(x_1), \theta(x_2), \dots, \theta(x_n)) = \theta(f(x_1, x_2, \dots, x_n)).$$

Ixtiyoriy $x_1, x_2, \dots, x_n \in A$ elementlar uchun bu ta'rifni korrektiligi ya'ni ekvivalentlik sinfidagi qaysi element olinganiga bog'liq emasligiga ishonch hosil qilamiz. Haqiqatdan ham, agar $\theta(x_i) = \theta(y_i)$, $i = 1, 2, \dots, n$, bo'lsa, u holda $x_i \theta y_i$ bo'ladi, bundan kongruentlik xossasiga ko'ra $f(x_1, x_2, \dots, x_n) \theta f(y_1, y_2, \dots, y_n)$, ya'ni $\theta(f(x_1, x_2, \dots, x_n)) = \theta(f(y_1, y_2, \dots, y_n))$ bajariladi.

Bunday hosil qilingan $U/\theta = (A/\theta, \Sigma)$ algebra ga U algebra ning θ kongruensiya bo'yicha faktor algebra si deb ataladi.

Ta'rif 2. $x \in A$ elementga $\theta(x)$ sinfini mos qo'yuvchi $A \rightarrow A/\theta$ akslantirish U algebra va U/θ algebradagi epimorfizm bo'ladi. Bu epimorfizmga tabiiy gomomorfizm deb ataladi.

Ta'rif 3. Agar $\varphi: U \rightarrow B$ gomomorfizm bo'lsa, u holda $\text{Ker } \varphi = \{(a, a') \mid \varphi(a')\}$ to'plam U algebra da kongruensiya bo'ladi, bu to'plamni φ gomomorfizmining yadrosi deb ataladi.

Algebraning gomomorf obrazi (aksi) gomomorfizm yadrosi bo'yicha faktor algebra si izomorfliqi haqidagi teoremani keltiramiz.

Teorema. (gomomorfizm haqidagi teorema) Agar $\varphi: U \rightarrow B$ epimorfizm

va

$$\varphi: U \rightarrow U/\text{Ker}\varphi$$

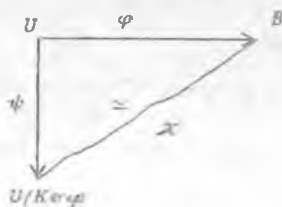
tabiiy gomomorfizm bo'lsa, u holda $\varphi \circ \chi = \psi$ tenglikni qanoatlantiruvchi $\varphi: U \rightarrow U/\text{Ker}\varphi$

izomorfizm mavjud bo'ladi.

Isboti. $a \in A$ uchun $\chi(b) = \psi(a)$ deb olarniz, bunda $b = \varphi(a)$. Agar $b = \varphi(a')$ bo'lsa, u holda $(a, a') \in \text{Ker}\varphi$, bundan $\psi(a) = \psi(a')$ tenglik kelib chiqadi, ya'ni χ akslantirish korrekt aniqlangan. $\varphi \circ \chi = \psi$ tenglikning bajarilishi tushunarli, bundan uning syureksiya ekanligi kelib chiqadi. χ akslantirishning gomomorfizm bo'lishi to'g'ridan to'g'ri tekshiriladi. Agar $\chi(b) = \chi(b')$ bo'lsa, u holda $\psi(a) = \psi(a')$, bunda $b = \psi(a)$, $b' = \psi(a')$. Bundan

$$(a, a') \in \text{Ker}\varphi,$$

ya'ni $b = b'$ bo'ladi, bu esa χ akslantirishning o'zaro bir qiymatli ekanligini isbotlaydi. Signaturaning funksional ekanligi va χ^{-1} akslantirishning mavjudligidan χ ning izomorfizm ekanligi kelib chiqadi. Teorema keltirilgan φ, ψ va χ akslantirishlar quyidagi diagrammada keltirilgan:



Nazorat uchun savollar:

4. Kongruensiyaga ta'rif bering.
5. Faktor to'plamiga ta'rif bering.
6. Gornomorfizmining yadrosini tushuntirib bering.

5.5. Algebra larining dekart ko'paytmasi. Birkhof teoremasi.

A_i , $i \in I$ to'plamlar oilasi bo'lsin.

Ta'rif 1. A_i , $i \in I$ to'plamlarning dekart ko'paytmasi deb $\prod_{i \in I} A_i = \{f: I \rightarrow \cup_{i \in I} A_i, \text{ bu yerda barcha } i \text{ lar uchun } f(i) \in A_i\}$ to'plamga aytiladi.

Agar $I = \{1, 2, \dots, n\}$ indeks larni chekli to'plami bo'lsa, unda $\prod_{i \in I} A_i = \{f: I \rightarrow \cup_{i=1}^n A_i, \text{ bu yerda } f(1) \in A_1, \dots, f(n) \in A_n\}$ dekart ko'paytmani $\prod_{i=1}^n A_i = \{(f_1, \dots, f_n): f_1 \in A_1, \dots, f_n \in A_n\}$ to'plam sifatida bir qiymatni qarashimiz mumkin. Shunday qilib, bu ta'rif chekli to'plamlar uchun kiritilgan dekart ko'paytma ta'rif i bilan mos tushadi.

Bizga Σ signaturani biror $U_i = \langle A_i, \Sigma \rangle$, $i \in I$ algebrasi berilgan bo'lsin.

Ta'rif 2. U_i , $i \in I$ algebrani dekart ko'paytmasi deb, shunday $\prod_{i \in I} U_i = \langle \prod_{i \in I} A_i, \Sigma \rangle$ algebra ga aytiladiki, undagi $F^{(n)} \in \Sigma$ funksional simvollar quyidagi qoidaga ko'ra talqin qilinadi: ixtiyoriy $f_1, \dots, f_n \in \prod_{i \in I} A_i$ funksiyalar uchun $F(f_1, \dots, f_n) = f$ deb olamiz, bu yerda ixtiyoriy $i \in I$ uchun $f(i) = F_{U_i}(f_1(i), \dots, f_n(i))$.

Agar $I = \{1, 2, \dots, n\}$ bo'lsa, unda $\prod_{i \in I} U_i$ algebra lar dekart ko'paytmalarini hucl di to'plamlardagidek $U_1 \times U_2 \times \dots \times U_n$ ko'rinishda belgilaymiz.

Misol 1. $U_1 = \langle A_1, +1 \rangle$ $U_2 = \langle A_2, +2 \rangle$ algebralar uchun $U_1 U_2 = \langle A_1 \cdot A_2, + \rangle$ dekart + amali quyidagi $(a_1, a_2) + (a'_1, a'_2) = (a_1 +_1 a'_1, a_2 +_2 a'_2)$ munosabatlar orqali beriladi.

Ta'rif 3. t_1, t_2 lar Σ signaturaning term lari bo'lsin. Ushbu $t_1 \approx t_2$ yozuv Σ signaturaning ayniyati deyiladi. Bu yozuv, t_1, \dots orqali hisoblangan har qanday qiymatlar, t_2 term orqali hisoblangan qiymatlar bilan ustma-ust tushishini bildiradi.

Misol 2. Agar $t_1 = x+y$ va $t_2 = y+x$ lar $\Sigma = \{+\}$ signaturaning term lari bo'lsa, unda $x+y \approx y+x$ ayniyat + simvolga kommutativlik qonuni o'rinli ekanligini bildiradi.

Ta'rif 4. Σ signatura algebralarining ξ sinfi ko'pxillik deyiladi, agar Σ signaturaning shunday $T = \{t_j^i \approx t_j^i \mid j \in J\}$ ayniyatlar to'plami mavjud bo'lib, Σ signaturaning algebralari Σ sinfiga qarashli bo'ladi, qachonki unda T to'plamdagi barcha ayniyatlar bajarilsa.

Misol 3. $\Sigma = \{^{(2)}, e^{(0)}\}$ signaturani $\{x - (y \cdot z) \approx (x \cdot y) \cdot z, x \cdot e \approx e\}$ ayniyatlar to'plami barcha monoidlardan tashkil topgan ko'pxillikni aniqlaydi.

Teorema (Birkhof teoremasi). Σ signaturani bo'sh bo'lmagan ξ algebralar sinfi, faqat va faqat ξ qism algebra, faktor-algebra va dekart ko'paytmaga nisbatan yopiq bo'lgandagina, ya'ni ξ sinfi har bir algebra bilan birgalikda uning ixtiyoriy qism algebrasini, faktor-algebrasini, hamda ixtiyoriy algebralar oilasi bilan birgalikda ularning dekart ko'paytmasini o'zida saqlasagina ko'pxillik algebralar sinfi bo'ladi.

Nazorat uchun savollar:

1. Algebralar dekart ko'paytmasi ta'rifini keltiring.

2. Signatura algebralarning qachon ko'p xil deb ataladi?
3. Birkhoff teoremasini ayting.

5.6. Panjara va Bui algebrasi.

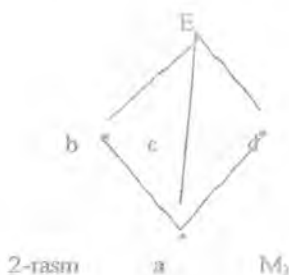
Agar qisman tartiblangan $U = \langle A, B \rangle$ to'plamning har bir juft elementi supremumini va infimumiga ega bo'lsa, u panjara deyiladi.

Berilgan $x, y \in A$ elementlar uchun $\inf\{x, y\}$ x va y elementlarni kesishmasi ($x \wedge y$ orqali belgilanadi), $\sup\{x, y\}$ element esa birlashmasi ($x \vee y$ orqali belgilanadi) deyiladi.

Agar U kesmada \wedge va \vee amallar kiritilgan bo'lsa, unda \leq munosabatni bu amallar orqali quyidagicha aniqlash mumkin: $x \leq y \leftrightarrow x \wedge y = x$, hamda $x \leq y \leftrightarrow x \vee y = y$. Panjarani eng kichik (eng katta) elementi agar u mavjud bo'lsa, nol (bir) deb ataladi. Bu elementlarni mos ravishda 0 va 1 orqali belgilaymiz. Chekli panjaralarda doimo 0 va 1 bo'ladi.

Misol 1. Har qanday chekli chiziqli tartiblangan to'plam panjara bo'ladi.

2. Qisman tartiblangan $U = \langle \{a, b, c, d\}, \leq \rangle$ to'plamni qaraylik. Bunda $a < b$, $a < c$, $a < d$, $b < c$, $c < b$, $d < e$, hamda b, c, d elementlar o'zaro taqqoslanmaydi. U sistema 2-rasmda ko'rsatilgan panjarani tashkil qiladi. Bu panjarada $a=0$, $e=1$.



Misol 2. Agar $|A| > 1$ bo'lsa, qisman tartiblangan $\langle A, id_A \rangle$ to'plam panjara bo'lmaydi, qaysiki ixtiyoriy turli x va y elementlari uchun $\inf\{x, y\}$ va $\sup\{x, y\}$ amallari id_A nisbatan aniqlanmagan.

Bo'sh bo'lmagan $X \subseteq B$ to'plamni saqllovchi $\xi = \langle B, \Sigma \rangle$ tizinning qism tizimlar panjarasini aniqlaymiz. Buning uchun

$$\ell(\xi) = \{U \mid U = \langle A, \Sigma \rangle \subseteq \xi \text{ va } X \subseteq A\}$$

to'plamni qaraymiz va unda qismlarni tartiblanishini quyidagicha kiritamiz:

$U_1 \leq U_2 \Leftrightarrow U_1 \leq U_2$. $\langle \ell(\xi), \leq \rangle$ juftlik qism tizimlar panjarasini tashkil qiladi. Bu panjarada $\ell(\xi)$ olingan ixtiyoriy $U_1 = \langle A_1, \Sigma \rangle, U_2 = \langle A_2, \Sigma \rangle$ tizimlar uchun $U_1 \wedge U_2$ kesishma $\langle A_1 \wedge A_2, \Sigma \rangle$ qism tizimlardir.

$U_1 \vee U_2$ birlashma esa $A_1 \vee A_2 : \xi(A_1 \vee A_2)$ to'plamdan ko'rilgan qism sistemalardir.

Misol 3. V chiziqli fazo va V chiziqli fazoni qism fazolar $\ell(V)$ to'plamni qaraylik.

$\langle \ell(V), \subseteq \rangle$ sistema bu yerda $V_1 \leq V_2 \Leftrightarrow V_1 - V_2$ ni qism fazasi, qism faza panjarasini tashkil qiladi, unda $V_1 \wedge V_2 = V_1 \wedge V_2$, $V_1 \vee V_2 = Z(V_1 \wedge V_2)$.

$U = \langle A, \subseteq \rangle$ panjara distributiv deyiladi, agar u barcha $x, y, z \in A$ lar uchun

$$x \vee (y \wedge z) = (x \vee y) \wedge (x \vee z)$$

$$x \wedge (y \vee z) = (x \wedge y) \vee (x \wedge z)$$

Distributivlik qonunlariga bo'ysunsa.

Hamma panjaralar ham distributiv bo'lavermaydi. 2-rasmda tasvirlangan M_3 panjara distributiv emas, qaysiki unda $b \wedge (d \vee c) = b \wedge e = b$ bo'ladi, lekin $(b \wedge d) \vee (b \wedge c) = a \wedge a = a$ bo'ladi.



3-rasm

 P_5

P_5 panjara ham distributiv bo'lmaydi.

Teorema. $U = \langle A, \leq \rangle$ panjara distribut bo'ladi, qachonki UM_3 yoki P_5 larga izomorf bo'lgan qism panjaralarga ega bo'lmasa.

Distribut $U = \langle A, \leq \rangle$ panjara Bul algebrasi deyiladi, a u 0 ga, 1 ga $0 \neq 1$ ega va ixtiyoriy $x \in A$ element uchun $x \vee \bar{x} = 1$ va $x \wedge \bar{x} = 0$ tengliklarni qanoatlantiruvchi shunday \bar{x} element (x to'ldiruvchi deb ataluvchi) mavjud bo'lsa.

Agar U Bul algebrasi bo'lsa, unda ixtiyoriy elementning to'ldiruvchisi x yagonadir.

Isbot. Faraz qilaylik x element 2 ta y va z to'ldiruvchilarga ega bo'lsin, ya'ni $x \vee y = 1, x \wedge y = 0$ va $x \vee z = 1, x \wedge z = 0$. Distributivlik qoidalaridan foydalanib $y \vee z$ va $y \wedge z$ elementlar ham x ning to'ldiruvchi ekanligiga kelamiz, ya'ni

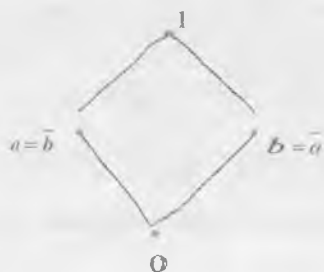
$$z \vee (y \vee z) = 1, x \wedge (y \vee z) = 0, x \vee (y \wedge z) = 1, x \wedge (y \wedge z) = 0.$$

Bundan esa $\{x, y \wedge z, y \vee z, x, 1\}$ U panjaraning qism panjarasi P_5 panjarani hosil qiladi, bu esa U panjarani distributivligiga ziddir. Shunday qilib, x elementning 2 ta turli to'ldiruvchi elementlari mavjud emas ekan.

Demak, Bul algebrasini \wedge kesishma va \vee yig'indi amallari algebra ko'rinishida, $x \rightarrow \bar{x}$ to'ldiruvchi amal bir o'rinli harnda 0 va 1 o'zgarmasli $\xi = \langle B, \wedge, \vee, 0, 1 \rangle$ algebra ko'rinishida tasvirlashimiz mumkin.

Misol 4. 1. Agar $X\{0,1\}$ to'plamda $0 < 1$ shartli chiziqli tartiblanish kiritsak, unda 2 elementli $\langle \{0,1\}, \wedge, \vee, 0, 1 \rangle$ Bul algebrasini hosil qilamiz.

2. $A = \{0, a, b, 1\}$ to'plamni qaraymiz va \leq tartiblanishni quyidagiga qaraymiz: $0 < a, 0 < b, a < 1, b < 1, a$ va b lar taqqoslanmaydi. $\langle A, \leq \rangle$ sistema Bul algebrasi bo'ladi, bunda $b = \bar{a}, a = \bar{b}$.



4-rasm

3. $\langle P(U), \wedge, \vee, 0, U \rangle$ qator algebrasi Bul algebrasi bo'ladi.

Teorema. Agar $\xi = \langle B, \wedge, \vee, 0, 1 \rangle$ Bul algebrasi bo'lsa, unda ixtiyoriy $x, y, z \in \xi$ uchun ξ da quyidagi qonunlar bajariladi.

1) \vee va \wedge amallarning assosiativligi:

$$x \vee (y \vee z) = (x \vee y) \vee z, x \wedge (y \wedge z) = (x \wedge y) \wedge z;$$

2) \vee va \wedge amallarning kommutativligi:

$$x \vee y = y \vee x, x \wedge y = y \wedge x;$$

3) Idempotentlik qonuni:

$$x \vee x = x, x \wedge x = x;$$

4) Distributivlik qonuni:

$$x \vee (y \wedge z) = (x \vee y) \wedge (x \vee z),$$

$$x \wedge (y \vee z) = (x \wedge y) \vee (x \wedge z);$$

5) Yutilish qonuni:

$$x \vee (x \wedge y) = x, x \wedge (x \vee y) = x;$$

6) De Morgan qonuni:

$$\overline{x \vee y} = \overline{x} \wedge \overline{y}, \overline{x \wedge y} = \overline{x} \vee \overline{y};$$

7) 0 va 1 qonunlari:

$$x \vee 0 = x, x \wedge 0 = 0, x \vee 1 = 1, x \wedge 1 = x, x \vee \overline{x} = 1, x \wedge \overline{x} = 0, 0 \neq 1;$$

8) Ikkilangan inkor qonuni:

$$\overline{\overline{x}} = x;$$

Quyidagi teoremgacha aniqlikda barcha chekli Bul algebralari tasvirlanadi.

Teorema. (Stoun teoremasi) Har qanday Bul algebrasi biror Kantor algebrasiga izomorfdir.

Qaysiki, ixtiyoriy U tuplarning $P(U)$ quvvati $2^{|U|}$ ga teng bo'lgani uchun Stoun teoremasidan quyidagi natija kelib chiqadi.

Natija. Elementlar soni teng bo'lgan 2 ta ixtiyoriy 2 ta Bul algebralari izomorfdir. Chekli Bul algebralarning elementlar soni biror $n \in \mathbb{N} \setminus \{0\}$ uchun 2^n ga teng.

Shunday qilib, chekli Bul algebralar elementlarining soni orqali izomorfizm aniqlikda aniqlanadi.

$$\langle B, \wedge, \vee, -, 0, 1 \rangle \quad \text{va} \quad \langle B, \vee, \wedge, -, 1, 0 \rangle$$

Bul algebralar $\varphi : B \rightarrow B$ izomorfizm orqali izomorfizmdir, bu yerda $\varphi(x) = \bar{x}$. Bunga quyidagi Bul algebralar ikkilamchi prinsipga asoslangan: agar \leq munosabati va $\vee, \wedge, -, 0, 1$ amallar uchun o'rinli bo'lgan Bul algebralar haqidagi tasdiqda barcha \leq lar \geq lar, \wedge lar, \vee lar, 0 lar, 1 lar, 1 lar 0 lar bilan almashtirilganda, ya'ni o'rinli tasdiq hosil bo'ladi. Hosil qilingan bunday tasdiq berilgan tasdiqqa ikkilamchi deyiladi.

Misol 5. $\overline{x \wedge y} = \overline{x} \vee \overline{y}$ de Morgan qonuni $\overline{x \vee y} = \overline{x} \wedge \overline{y}$ de Morgan qonuniga nisbatan ikkilamchi, $x \wedge \bar{x} = 0$ qonun esa $x \vee \bar{x} = 1$ qonunga nisbatan ikkilamchidir.

Endi Bul algebralarining halqalar bilan aloqasini qaraymiz.

$\langle R, +, * \rangle$ halqa Bul halqasi deyiladi, agar barcha $a \in R$ lar uchun $a^2 = a$ bo'lsa.

Bul halqa kommutativ va barcha $a \in R$ lar uchun $a + a = 0$.

Isbot. Birinchidan $a+a=(a+a)^2=a^2+a^2+a^2+a^2=a+a+a+a$, bu yerda $a+a=0$, ya'ni $a=-a$. Ikkinchidan, $a+b=(a+b)^2=a^2+ab+ba+b^2=a+b+ab+ba$. Bu yerda $ab+ba=0$. Unda $ab=ab+(ab+ba)=(ab+ab)+ba=ba$.

R halqani birlik elementi deb barcha $a \in R$ lar uchun $a * e = e * a = a$ tenglikni qanoatlantiruvchi e elementga aytiladi.

$\xi = \langle B, \wedge, \vee, 0, 1 \rangle$ Bul algebra bo'lsin. B da halqaviy qo'shish va ayirish amallarini quyidagi qoida bo'yicha aniqlaymiz.

$$x \oplus y = (x \wedge \bar{y}) \vee (\bar{x} \wedge y), x \otimes y = x \wedge y.$$

Barcha $x, y \in B$ lar uchun. +amal to'plamlarning yig'indisi, *amal esa to'plamlarning kesishmasi amaliga mos keladi.

Teorema. $\langle B, +, * \rangle$ sistema 1 birlik elementi Bull halqasini tashkil etadi.

Birlik elementi $\langle B, +, * \rangle$ halqaga ega bo'lsak, unda \wedge, \vee amallarni $x \wedge y = x * y$ va $x \vee y = x + y$ ($x * y$), $x = 1 + x$ qoidalar orqali Bull qiymatni ko'rishimiz mumkin.

Nazorat uchun savollar:

1. Panjara deb nimaga aytiladi?
2. Panjaraning qanday elementi nol (bir) deb aytiladi?
3. Qanday tizimlar kongruensiyalar panjarasini tashkil etadi?
4. Qanday panjara distributiv deb ataladi?
5. Bul algebra si ta'rifini keltiring.
6. Bul algebra si qoidalarini ayting.
7. Stoun teoremasini keltiring.

5.7. Bull algebrasi filtrlari va ideallari.

$B = \langle B, \wedge, \vee, \bar{}, 0, 1 \rangle$ Bull algebra berilgan bo'lsin. $I \subseteq B$ to'plam ideal deyiladi, agar quyidagi shartlar bajarilsa:

- 1) $a, b \in I$ ekanligidan $a \vee b \in I$ ekanligidan kelib chiqsa;
- 2) agar $b \in I, a \in B$ va $a \in b b$ bo'lsa, unda $a \in I$.

Agar $I \neq \emptyset$ bo'lsa, unda $0 \in I$.

I ideal bosh deyiladi, agar shunday $C \in I$ element mavjud bo'lib, $I = \{a \in b \mid a \leq c\}$ bo'lsa.

Misol 1. $\langle P(U), \cap, \cup, \bar{}, 0, 1 \rangle$ Kantor algebrasini qaraymiz va ixtiyoriy $C \subseteq U$ qism to'plamni tanlaymiz. Unda $I = \{A \mid A \subseteq C\}$ to'plam bosh idealni tashkil qiladi.

Haqiqatdan, agar $A, B \in I$ bo'lsa, unda $A, B \subseteq C$, bu yerdan $A, B \subseteq C$ va, demak $A, B \in I$ bo'ladi.

Agar $B \subseteq C$ va $A \subseteq B$ bo'lsa, unda \subseteq munosabatni tranzitivligi $A \subseteq C$, ya'ni $A \in I$ ega bo'lariz.

Filtr tushunchasi ideal tushunchasiga ikkilamchidir.

$F \subseteq B$ to'plam filtr deyiladi, agar quyidagi shartlar bajarilsa:

- 1) $a, b \in F$ ekanligidan $a \wedge b \in F$ ekanligi kelib chiqsa,
- 2) agar $b \in I, a \in B$ va $b \subseteq a$ bo'lsa, unda $a \in F$.

F filtr bosh deyiladi, agar shunday $C \in F$ element topilib, $F = \{a \in b \mid a \geq c\}$ bo'lsa.

Misol 2. $P(U)$ Kantor algebrasida ixtiyoriy $C \subseteq U$ to'plam uchun $F = \{A \mid A \in P(U) \text{ va } C \subseteq A\}$ to'plam bosh filtr deyiladi.

Teorema 1. Agar B chekli Bul algebra bo'lsa, unda B dagi barcha ideallar va filtrlar boshdir.

Agar I ideal B Bul algebrasining ideali bo'lsa, unda $\bar{I} = \{\bar{a} \mid a \in I\}$ ideal I idealga ikkilamchi deb ataluvchi filtr bo'ladi.

Teorema 2. $I \rightarrow \bar{I}$ akslantirish ideallar to'plami va filtrlar to'plami orasidagi biaksiyadir.

Nazorat uchun savollar:

Bul algebrasining ikkilamchisi prinsipini keltiring.

1. Qanday halqa bul halqa bo'ladi.
2. Ideal ta'rifni keltiring.
3. Qanday ideallar bosh deb ataladi?
4. Qanday to'plam filtr deb ataladi?
5. Qanday filtr frene filtri bo'ladi?
6. Bul algebrasining qanday akslantirishi ideallar to'plami va filtrlar to'plami o'rtasida biaksiya o'rnatadi?

5.8. Munosabatlar algebra

Munosabatlar algebra algebraik sistemalarning muhim sinfi hisoblanadi.

Tashuvchi munosabatlar to'plami $R = \{P_1, P_2, \dots, P_m, \dots\}$ Σ signaturasi esa birlashma \cup , kesishma \cap , ayirma va dekart ko'paytma \times amallarning qisman ikki o'rinli amallarining simvolidan iborat bo'lgan munosabatlar algebrasini qaraymiz.

Ta'rif 1. P_i va P_j munosabatlar birgalikda deyiladi, agar biror A to'plam va $n \in \omega$ son uchun $P_i, P_j \in A^n$ bo'lsa.

Birgalikda bo'lgan ikkita P_i va P_j munosabatlarning birlashmasi $P_i \cup P_j$ deb har biri hech bo'lmaganda bu munosabatlarning biriga tegishli bo'lgan kortejlarning to'plamiga aytiladi:

Ta'rif 2. Birgalikda bo'lgan ikkita P_i va P_j munosabatlarning ayirmasi $P_i \setminus P_j$ deb P_i munosabatga tegishli va P_j munosabatga tegishli bo'lmagan barcha kortejlar to'plamiga aytiladi.

$$P_i \setminus P_j = \{X \mid X \in P_i \text{ va } X \notin P_j\}$$

Misol 1. Agar $P = \{(a, b, d)(b, c, e)\}$, $Q = \{(a, b, d)(b, d, e)\}$ bo'lsin unda

$$P \cup Q = \{(a, b, d), (b, c, e), (b, d, e)\}, P \cap Q = \{(a, b, d)\}, P \setminus Q = \{(b, c, e)\}$$

Ta'rif 3. Ikkita P_i va P_j munosabatlarning dekart ko'paytmasi deb, agar $x = (x_1, \dots, x_2) \in P_i$, $y = (y_1, \dots, y_s) \in P_j$ bo'lganda $z = x \wedge y = (x_1, \dots, x_2, y_1, \dots, y_s)$ bo'lgan barcha kortejlar to'plamiga aytiladi. Demak,

$$P_i \times P_j = \{x \wedge y \mid x \in P_i, y \in P_j\}$$

Misol 2. $P = \{(a, b), (b, c)\}$, $Q = \{(b, c, a)(c, a, a)\}$ bo'lsin, unda $P^*Q = \{(a, b, b, c, a), (a, b, c, a, a), (b, c, b, c, a)(b, c, c, a, a)\}$.

Nazorat uchun savollar:

1. Qanday munosabatlar birgalikda deyiladi?

2. Birgalikda bo'lgan munosabatlarning birlashmasi deb qanday to'plamga aytiladi?
3. Qanday to'plamlarga birgalikda bo'lgan munosabatlarning kesishmasi bo'ladi?
4. Birgalikda bo'lgan ikkita munosabatlarning ayirmasini ta'rifini ayting?
5. Ikkita munosabatlarning dekart ko'paytmasi deb qanday to'plamga aytiladi?

Mustaqil yechish uchun masalalar:

1. Quyidagi sistemalarni algebra tashkil qilishini tekshiring:
 - a) $\langle \omega, +, \cdot \rangle$, b) $\langle \mathbb{Z}, \cdot, >$, c) $\langle \mathbb{R}, \cdot, 1-2i \rangle$.
2. A to'plamda aniqlangan funksiyalar to'plamini F orqali belgilaymiz. $\langle F, 0 \rangle$ tizim
 - a) yarim grupp, b) monoid, c) grupp tashkil etadimi?
3. $\langle \{1, 2, 3, 4\}, \{(1,3), (1,4), (2,4), (3,2)\} \rangle$ va $\langle \{a, b, c, d\}, \{(b,a), (c,b), (c,d), (d,a)\} \rangle$ tizimlarining izomorfizmini tuzing.
4. Ikki elementli tashuvchi o'zaro izomorf bo'lmagan barcha gruppalarni yozing.
6. Quyidagi ifodalarning qaysi biri $\Sigma = \{f^{(1)}, g^{(2)}, h^{(3)}\}$ signaturaning termi bo'ladi:
 - a) $f(g(x; y))$; b) $g(f(x), h(y, z))$; c) $(f(x), h(y, z))$?
7. Quyidagi berilgan X to'plamning $\xi(X)$ qism tizimini tuzing.
 - a) $\xi = \langle \mathbb{R}, \sqrt{\cdot} \rangle$, $X = \{2\}$; b) $\xi = \langle \omega, + \rangle$, $X = \{2, 3\}$;
 - c) $\xi = \langle \mathbb{C}, >$, $X = \{i\}$; d) $\xi = \langle \mathbb{C}, \cdot \rangle$, $X = \{i\}$;

8. Ushbu

	a	b	c	d	e
a	c	d	a	b	e
b	d	c	b	b	e
c	a	a	b	a	c
d	b	a	a	b	d
e	a	b	e	e	c

KELI jadvali orqali aniqlangan $U = \langle \{a, b, c, d, e\}, \cdot \rangle$ algebrani qaraymiz. Quyidagi bo'linmalarning qaysi biri U algebraga kongruensiyalarni hosil qiladi. Topilgan kongruensiyalar bo'yicha U algebraning faktor algebrasini tuzing.

9. Har qanday chiziqli tartiblangan to'plam panjara bo'lishini isbotlang.
10. Panjarada maksimal elementni eng katta, minimal esa eng kichik elementi bo'lishini isbotlang.
11. Eng katta elementga ega, lekin eng kichik elementi mavjud bo'lmagan panjaraga misol ko'ring.
12. Uchta elementli to'plamning qism to'plamlari Bul algebrasini tuzing.
13. To'rtta elementli to'plamning qism to'plamlari Bul algebrasi ko'ring.
14. Bul algebrasini $\overline{x \cup (y \cap z)}$ terniga mos bo'lgan Bul halqa termini toping.

Adabiyotlar

1. Азларов Т.А. ва бошқ. Математикадан қўлланма. Т.: «Ўқитувчи», 1990. -352 б.
2. Асеев Г.Г., Абрамов О.М., Ситников Д.Е. Дискретная математика. – Ростов на Дону, «Феникс», 2003. – 246 с.
3. Гаджиёв А.А. Основы дискретной математики. Махачкала, 2006. – 365 с.
4. Гаврилов Г.П., Сапоженко А. А. Задачи и упражнения по дискретной математики. М.: Наука. 2005. – 122 с.
5. Гильберт Д., Берноис П. Основания математики. М.: Наука, 1979. – 156 с.
6. Горбатов В.А. Основы дискретной математики. М.: высшая школа, 1986. – 198 с.
7. Яблонский С.В. Введение в дискретную математику. М.: «Наука», 1979.
8. Ежов И.И. Элементы комбинаторики. М.: «Наука», 1977.- 80 с.
9. Ерусалимский Я. М. Дискретная математика теория, задачи, приложения. М.: «Узловская книга», 2002.- 268 с.
10. Емиличев В.А., Мельников О.И., Сарванов В. И., Тышкевич Р. И. Теория графов. М.: «Наука» 1991. – 243 с.
11. Ершов Ю.Л. и др. Математическая логика. М., «Наука» 1987.
12. Игошин В.И. Задачник-практикум по математической логике. М. «Просвещение» 1986.
13. Кулабухов С.Ю. Дискретная математика. Таганрог, 2001. - 150 с.
14. Куратовский К., Мостовский А. Теория множеств. М.: «Мир», 1970.
15. Новиков Ф. А. Дискретная математика для программистов. ЗАО Издательский дом «Питер», 2007.
16. Малцев А.И. Алгебраические системы. М.: «Наука», 1970.
17. Мендельсон Н. Введение в математическую логику. – М.: «Мир», 1974.
18. Судоплатов С.В., Овчаникова Е. В. Элементы дискретной математики. М.: «Инфра-М», 2002.
19. Тураев Х. Математик мантик ва дискрет математика. Т.: «Ўқитувчи», 2003.
20. Шопарев С.Д. Дискретная математика. Курс лекций и практических занятий. Санкт-Петербург. «БХВ- Петербург» 2009.
21. Зиков А. А. Основы теории графов. М., «Наука» 1987.
22. Хаггарти Р. Дискретная математика для программистов. ЗАО РИТС «Техносфера», 2003.-313 с.
23. O'.N. Qalandarov, H.A. Abduvaitov, Z.S. Chay Matematik mantiq masalalari, tadbiri va ulami yechish uchun uslubi ko'rsatmalari. Toshkent, 2012 y. - 30 b.

So'z boshi..... 3

I Bob. To'plamlar nazariyasi. Kirish.

1.1. To'plam. To'plam elementlari..... 6

1.1.1. To'plamlarning berilishi..... 6

 Mustaqil yechish uchun masalalar.....11

1.1.2. To'plamlarning tengligi.....12

 Mustaqil yechish uchun masalalar.....14

1.1.3. To'plamlarda tartib munosabati tushunchasi.....15

1.1.4. To'plamlar ustida amallar.....19

1.1.5. To'plamlar ustida amallar bajarish mumkin bo'lish sharti.....23

1.1.6. To'plamning bo'laklari.....24

 Mustaqil yechish uchun masalalar.....26

1.1.7. Eyler-Venn diagrammalari berilgan bo'lsa, to'plam ko'rinishini tiklash..... 27

1.1.8. To'plamlar ustida amallarning asosiy xossalari.....28

1.1.9. Murakkab ifodalarni soddalashtirish.....30

 Mustaqil yechish uchun masalalar.....31

1.1.10. Chekli to'plam quvvati.....32

 Mustaqil yechish uchun masalalar.....33

1.1.11. To'plamlar algebrasi..... 35

1.2. Munosabatlar. Kirish.

1.2.1. Munosabatlar va ularning turlari. Misol.....38

 Mustaqil yechish uchun masalalar.....45

1.2.2. Munosabatlar superpozitsiyasi.....46

 Mustaqil yechish uchun masalalar.....48

1.2.3. Ekvivalentlik munosabati.....49

 Mustaqil yechish uchun masalalar.....52

1.2.4. Munosabatning aniqlanish, qiymatlar sohalari. Munosabatlar

maydoni.....	53
Mustaqil yechish uchun masalalar.....	54
1.3. Akslantirishlar. Kirish.	
1.3.1. Chekli to'plamda akslantirish tushunchasi.....	56
Mustaqil yechish uchun masalalar.....	62
1.3.2. Akslantirishlar superpozitsiyasi.....	63
Mustaqil yechish uchun masalalar.....	67
1.3.3. Dirixle printsiipi.....	69
1.3.4. To'plamlarning quvvati va kardinal sonlar.....	70
1.3.5. San'oqli va kontinual to'plamlar.....	73
Mustaqil yechish uchun masalalar.....	78
1.4. To'plamlar nazariyasining aksiomatik tizimi	79
II Bob. Kombinatorika. Kirish.	
2.1. Kombinatorikaning asosiy masalalari.....	84
2.2. Guruhlash, joylashtirish va o'rin almashtirishlar.....	84
Mustaqil yechish uchun masalalar.....	87
2.3. Kombinatorikaning asosiy qoidalari.....	87
2.3.1. Yig'indi qoidasi.....	87
2.3.2. Ko`paytma qoidasi.....	88
2.3.3. Ko`paytma qoidasini umumlashtirish.....	89
Mustaqil yechish uchun masalalar.....	91
2.4. O'rin almashtirish, joylashtirish va guruhlashlarni hisoblash	
formulalari	92
2.4.1. Ta'krorlanmaydigan joylashtirishlar.....	92
2.4.2. Berilgan to'planning o'rin almashtirishlari soni.....	94
Mustaqil yechish uchun masalalar.....	96
2.4.3. Ta'krorlanuvchi joylashtirishlar.....	97
2.4.4. Ta'krorlanmaydigan guruhlashlar.....	97
2.4.5. Guruhlashning xossalari.....	102
Mustaqil yechish uchun masalalar.....	103

2.4.6. Takrorlanuvchi guruhlashlar.....	105
Mustaqil yechish uchun masalalar.....	107
2.5. N'yuton binomi. Poli nomial teorema	108
2.5.1. N'yuton binomi.....	108
Mustaqil yechish uchun masalalar.....	112
2.5.2. Polinomial teorema.....	113
Mustaqil yechish uchun masalalar.....	115
2.6. To'plamlarni bo'laklarga ajratish	117
2.6.1. Bo'laklarga ajratish.....	117
2.6.2. II tur Stirling sonlari.....	117
2.6.3. I tur Stirling sonlari.....	119
2.6.4. Bell soni	120
III Bob. Matematik mantiq asoslari. Kirish.	
3.1. Mulohazalar algebras i.....	122
3.1.1. Sodda va murakkab mulohazalar.....	122
3.1.2. Asosiy mantiqiy bog'liqliklar.....	125
3.1.3. Predikatlar. Unumiylik va mavjudlik kvantorlari.....	131
Mustaqil yechish uchun masalalar.....	134
3.1.4. Formulalar. Formullarning teng kuchliligi.....	134
3.2. Mantiq qonunlari	140
3.2.1. Mantiq qonunlari.....	140
3.2.2. Mantiq funksiyalari uchun rostlik jadvalini tuzish.....	143
Mustaqil yechish uchun masalalar.....	144
3.3. Mukammal diz'yunktiv va kon'yunktiv normal shakllar.....	146
3.3.1. Normal shakllar.....	146
3.3.2. Mukammal normal shakllar.....	147
Mustaqil yechish uchun masalalar.....	149
3.3.3. Rostlik jadvali bo'yicha mantiq funksiyasi ko'rinishini tiklash.....	151
Mustaqil yechish uchun masalalar.....	154
3.3.4. Jega lkin polinomi.....	154

Mustaqil yechish uchun masalalar.....	156
3.4. Rele kontakt sxemalari.....	157
3.4.1. Ikkilik mantiqiy elementlar.....	157
3.4.2. Ikkilik mantiqiy elementlarining qo'llanilishi.....	165
3.4.3. Mantiqiy sxemalarda analiz va sintez masalalari.....	166
Mustaqil yechish uchun masalalar.....	170
3.4.4. Minirramallashtirishning jadval (grafik) usullari.....	171
3.4.5. Yechimlar daraxti.....	181
Mustaqil yechish uchun masalalar.....	185
IV Bob. Graflar nazariyasi. Kirish.	
4.1. Graflar nazariyasining asosiy tushunchalari.....	188
4.2. Graflarning to'ldiruvchilari.....	191
Mustaqil yechish uchun masalalar.....	194
4.3. Graf uchilari darajasi. Graf qirralari soni.....	196
Mustaqil yechish uchun masalalar.....	202
4.4. Graflarni xarakterlovchi sonlar.....	203
4.5. Daraxtlar.....	204
Mustaqil yechish uchun masalalar.....	207
4.6. Qo'shimlik matritsasi.....	207
Mustaqil yechish uchun masalalar.....	209
4.7. Insidentlik matritsasi.....	211
Mustaqil yechish uchun masalalar.....	215
4.8. Graflarni bo'yash.....	217
4.9. To'rt xil rang masalasi.....	219
V BOB. Algebraik tizimlar.	
5.1.1. Algebraik tizimlar.....	220
5.1.1. Algebraik tizimlar.....	220
5.1.2. Gruppya va yarim gruppyalar.....	223

251

5.2. Morfizmlar	224
5.3. Qism tizimlar	227
5.4. Kongruensiya. Faktor – algebra	229
5.5. Algebra larining dekart ko'paytmasi. Birkhof teoremasi	232
5.6. Panjara va Bul algebrasi	234
5.7. Bul algebrasi filtrlari va ideallari	241
5.8. Munosabatlar algebrasi	243
Mustaqil yechish uchun masalalar	244
Adabiyotlar	245
Mundarija	246

“Algoritm lash va matematik modellashtirish” kafedrasining
majlisida (26.06.2014y. 46-bayonnom a)
muhokama qilindi va Dasturiy injiniring
fakulteti ilmiy-uslubiy kengashi
(27.06.2014 10-bayonnom a)
tomonidan nashrga tavsiya qilindi.

Бичими 60x84 1/16

Босма табағи - 1625. Адади - 100

Буюртма - № 38

Тошкент ахборот технологиялари университети
“ALOQACHI” нашриёт-матбаа марказида чоп
этилди.

Тошкент ш, Амир Темур кўчаси, 108 – уй